

**ЧАСТНОЕ ПРОФЕССИОНАЛЬНОЕ ОБРАЗОВАТЕЛЬНОЕ УЧРЕЖДЕНИЕ
«ВЛАДИКАВКАЗСКИЙ ПРОФЕССИОНАЛЬНЫЙ КОЛЛЕДЖ»
(ЧПОУ ВПК)**

РАССМОТРЕНО
на заседании Педагогического совета

Протокол №15
от « 29 » июня 2022 г.



**ФОНД ОЦЕНОЧНЫХ СРЕДСТВ
ДЛЯ ПРОВЕДЕНИЯ ТЕКУЩЕГО КОНТРОЛЯ И
ПРОМЕЖУТОЧНОЙ АТТЕСТАЦИИ**

По дисциплине ГЕОГРАФИЯ

СПЕЦИАЛЬНОСТЬ
43.02.10 «ТУРИЗМ» (БАЗОВОЙ ПОДГОТОВКИ)

квалификация – СПЕЦИАЛИСТ ПО ТУРИЗМУ

1. КОНТРОЛЬ И ОЦЕНКА РЕЗУЛЬТАТОВ ОСВОЕНИЯ УЧЕБНОЙ ДИСЦИПЛИНЫ

Контроль и оценка результатов освоения учебной дисциплины осуществляется педагогическим работником в процессе проведения практических занятий, тестирования, а также выполнения обучающимися индивидуальных заданий, проектов, исследований.

Оценка качества освоения учебной программы включает текущий контроль успеваемости, промежуточную аттестацию по итогам освоения дисциплины.

Результаты обучения (освоенные умения, усвоенные знания)	Формы и методы контроля и оценки результатов обучения
<p>личностные:</p> <ul style="list-style-type: none"> - сформированность ответственного отношения к обучению; - готовность и способность студентов к саморазвитию и самообразованию на основе мотивации к обучению и познанию; - сформированность целостного мировоззрения, соответствующего современному уровню развития географической науки и общественной практики; - сформированность основ саморазвития и самовоспитания в соответствии с общечеловеческими ценностями и идеалами гражданского общества; - готовность и способность к самостоятельной, творческой и ответственной деятельности; - сформированность экологического мышления, понимания влияния социально-экономических процессов на состояние природной и социальной среды; приобретение опыта эколого-направленной деятельности; - сформированность коммуникативной компетентности в общении и сотрудничестве со сверстниками и взрослыми в образовательной, общественно полезной, учебно-исследовательской, творческой и других видах деятельности; - умение ясно, точно, грамотно излагать свои мысли в устной и письменной речи, понимать смысл поставленной задачи, выстраивать аргументацию, приводить аргументы и контраргументы; - критичность мышления, владение первичными навыками анализа и критичной оценки получаемой информации; - креативность мышления, инициативность и находчивость 	<p>Формы контроля обучения:</p> <ul style="list-style-type: none"> - <i>устный опрос;</i> - <i>письменный опрос;</i> - <i>тестирование;</i> - <i>экзамен</i> <p>Формы оценки</p> <ul style="list-style-type: none"> - оценка «отлично» выставляется за глубокое и полное овладение содержанием учебного материала. Обучающийся владеет понятийным аппаратом и умеет: связывать теорию с практикой, решать практические задачи, высказывать и обосновывать свои суждения, грамотно и логично излагать ответ (как в устной, так и в письменной форме) - оценка «хорошо» выставляется, если обучающийся в полном объеме освоил учебный материал, владеет понятийным аппаратом, ориентируется в изученном материале, осознанно применяет знания для решения практических задач, грамотно и логично излагает ответ, но содержание и форма ответа имеют отдельные неточности - оценка «удовлетворительно» выставляется, если обучающийся обнаруживает знание и понимание основных положений учебного материала, но излагает его неполно, непоследовательно, допускает неточности в определении понятий, в применении знаний для решения практических задач. Не умеет доказательно обосновывать свои суждения - оценка «неудовлетворительно» выставляется, если обучающийся имеет разрозненные, бессистемные знания, не умеет выдавать главное и второстепенное, допускает ошибки в определении понятий, искажающие их смысл, беспорядочно и неуверенно излагает материал, не может применять знания для решения практических задач <p>Тестирование</p> <ul style="list-style-type: none"> - от 90 до 100 % выполненного задания - «отлично»; - от 70 до 89 % выполненного задания - «хорошо»; - от 50 до 69 % выполненного задания - «удовлетворительно»; - от 0% до 49% выполненного задания - «неудовлетворительно»
<p>метапредметные:</p> <ul style="list-style-type: none"> - владение навыками познавательной, учебно-исследовательской и проектной деятельности, а также навыками разрешения проблем; - готовность и способность к самостоятельному поиску методов решения практических задач, применению различных методов познания; - умение ориентироваться в различных источниках географической информации, критически оценивать и интерпретировать информацию, получаемую из различных источников; - умение самостоятельно оценивать и принимать решения, определяющие стратегию поведения, с учетом гражданских и нравственных ценностей; - осознанное владение логическими действиями определения понятий, обобщения, установления 	<p>Электронный экзамен:</p> <p>Оценка «отлично» выставляется обучающемуся, если он глубоко и прочно усвоил программный материал, последовательно, четко и логически стройно его излагает, умеет тесно увязывать теорию с практикой, свободно справляется с задачами, вопросами и другими видами применения знаний, причем не затрудняется с ответом при видоизменении заданий, использует в работе материал различных научных и методических источников, правильно обосновывает принятое решение, владеет разносторонними навыками и приемами выполнения практических задач.</p> <p>Оценка «хорошо» выставляется обучающемуся, если он</p>

Результаты обучения (освоенные умения, усвоенные знания)	Формы и методы контроля и оценки результатов обучения
<p>аналогий, классификации на основе самостоятельного выбора оснований и критериев;</p> <ul style="list-style-type: none"> - умение устанавливать причинно-следственные связи, строить рассуждение, умозаключение (индуктивное, дедуктивное и по аналогии) и делать аргументированные выводы; - представление о необходимости овладения географическими знаниями с целью формирования адекватного понимания особенностей развития современного мира; - понимание места и роли географии в системе наук; представление об обширных междисциплинарных связях географии 	<p>твердо знает материал, грамотно и по существу излагает его, не допуская существенных неточностей в ответе на вопрос, правильно применяет теоретические положения при решении практических вопросов и задач, владеет необходимыми навыками и приемами их выполнения.</p> <p>Оценка «удовлетворительно» выставляется обучающемуся, если он имеет знания только основного материала, но не усвоил его деталей, допускает неточности, недостаточно правильные формулировки, нарушения логической последовательности в изложении программного материала, испытывает затруднения при выполнении задания.</p> <p>Оценка «неудовлетворительно» выставляется обучающемуся, который не знает значительной части программного материала и не может грамотно ответить на вопрос, допускает существенные ошибки, с большими затруднениями выполняет задания.</p> <p>Система стандартизированных заданий:</p> <ul style="list-style-type: none"> - от 0 до 49,9 % выполненных заданий – не удовлетворительно; - от 50% до 69,9% - удовлетворительно; - от 70% до 89,9% - хорошо; - от 90% до 100%- отлично.
<p>предметные:</p> <ul style="list-style-type: none"> - владение представлениями о современной географической науке, ее участии в решении важнейших проблем человечества; - владение географическим мышлением для определения географических аспектов природных, социально-экономических и экологических процессов и проблем; - сформированность системы комплексных социально ориентированных географических знаний о закономерностях развития природы, размещения населения и хозяйства, динамике и территориальных особенностях процессов, протекающих в географическом пространстве; - владение умениями проведения наблюдений за отдельными географическими объектами, процессами и явлениями, их изменениями в результате природных и антропогенных воздействий; - владение умениями использовать карты разного содержания для выявления закономерностей и тенденций, получения нового географического знания о природных социально-экономических и экологических процессах и явлениях; - владение умениями географического анализа и интерпретации разнообразной информации; - владение умениями применять географические знания для объяснения и оценки разнообразных явлений и процессов, самостоятельного оценивания уровня безопасности окружающей среды, адаптации к изменению ее условий; - сформированность представлений и знаний об основных проблемах взаимодействия природы и общества, природных и социально-экономических аспектах экологических проблем. 	

2. ФОНД ОЦЕНОЧНЫХ СРЕДСТВ ТЕКУЩЕГО КОНТРОЛЯ ЗНАНИЙ

Раздел 1.

Источники географической информации. Методы географических исследований

Тип	Группа
Вес	12

Задание

Порядковый номер задания	1
Тип	3
Вес	1

Установите соответствие источников географической информации и их предназначение:	
Карты и атласы	определение местоположения объекта
Путешествия и экспедиции	расширение кругозора, получение наглядной информации
Аэрокосмические снимки	изучение местности, ее рельефа и природы
Геоинформационные системы	навигация, автоматизация процессов сбора и анализа данных

Задание

Порядковый номер задания	2
Тип	4
Вес	1

_____ — это отображение земной поверхности в уменьшенном виде, нанесенное на какую-нибудь плоскость с последующим соблюдением специальных математических закономерностей, и отображением расположения, а также совмещения и объединения разнообразных явлений природы и общества.
Карта

Задание

Порядковый номер задания	3
Тип	6
Вес	1

Верны ли данные утверждения?	
А) План, в отличие от карты, охватывает большую по площади территорию.	
В) Масштаб карты 1 : 500 000 – крупный.	
Подберите правильный ответ.	
	А – да, В – да
	А – да, В – нет
	А – нет, В – да
+	А – нет, В – нет

Задание

Порядковый номер задания	4
Тип	2
Вес	1

К крупномасштабным картам относится:	
+	1 : 200 000
+	1: 100 000
	1 : 600 000
	1: 1 000 000

Задание

Порядковый номер задания	5
Тип	1
Вес	1

Мелкомасштабная карта – это	
+	1: 1 000 000
	1: 800 000
	1: 600 000
	1: 400 000

1: 200 000

Задание

Порядковый номер задания	6
Тип	2
Вес	1

Перечислите источники географической информации:	
+	нормативно-правовые источники
+	социологические опросы
+	карты
	художественные фильмы

Задание

Порядковый номер задания	7
Тип	4
Вес	1

_____ система – это информационная система, обеспечивающая сбор, хранение, обработку, анализ и отображение пространственных данных и связанных с ними непространственных, а также получение на их основе информации и знаний о геопространстве.
Геоинформационная

Задание

Порядковый номер задания	8
Тип	5
Вес	1

Расположите в хронологической последовательности:	
	Описание океанов, рек и гор в «Махабхарата»
	8-томное сочинение «География» Птолемея
	Путешествие А. Никитина за три моря
	Открытие полюсов Земли

Задание

Порядковый номер задания	9
Тип	5
Вес	1

Расположите в хронологической последовательности:	
	Создание Географического департамента
	Образование Русского географического общества
	Открытие Северного полюса
	Открытие Южного полюса

Задание

Порядковый номер задания	10
Тип	1
Вес	1

Первым Южный полюс Земли покорил	
+	Руал Амундсен
	Жак Ив Кусто
	Роберт Пири
	Джеймс Кук

Задание

Порядковый номер задания	11
Тип	1
Вес	1

Самое короткое географическое название – в	
+	Швеции
	Финляндии
	Китае
	России

Задание

Порядковый номер задания	12
Тип	1
Вес	1

Глубина Марианской впадины _____ метров.	
+	10971
	11893
	8964
	9872

Задание

Порядковый номер задания	13
Тип	6
Вес	1

Верны ли данные утверждения? А) Самое длинное географическое название – в Таиланде. В) Самый крупный город в мире расположен в Китае. Подберите правильный ответ.	
+	А – да, В – да
	А – да, В – нет
	А – нет, В – да
	А – нет, В – нет

Задание

Порядковый номер задания	14
Тип	4
Вес	1

_____ — это метод научного исследования и обобщения, суть которого заключается в том, что изучаемые объекты, явления или процессы упорядочиваются в определенные группы, на основе каких-либо избранных признаков. Классификация

Задание

Порядковый номер задания	15
Тип	1
Вес	1

Основоположником системного метода был	
+	Людвиг фон Бергаланфи
	Михаил Ломоносов
	Николай Пржевальский
	Марко Поло

Задание

Порядковый номер задания	16
Тип	4
Вес	1

_____ — это часть территории, выделенная по одному признаку.
Ареал

Задание

Порядковый номер задания	17
Тип	4
Вес	1

_____ - это разделение территории на зоны с различной интенсивностью или плотностью какого-либо признака.
Зонирование

Задание

Порядковый номер задания	18
Тип	2
Вес	1

Дистанционные географические исследования – это :	
+	аэрокосмический мониторинг
+	наблюдения за природными объектами с судов или береговых сооружений
	классификация
	картографирование

Задание

Порядковый номер задания	19
Тип	1
Вес	1

3-летний географический прогноз – это _____ прогноз.	
+	среднесрочный
	краткосрочный
	долгосрочный
	оперативный
	сверхдолгосрочный

Задание

Порядковый номер задания	20
Тип	6
Вес	1

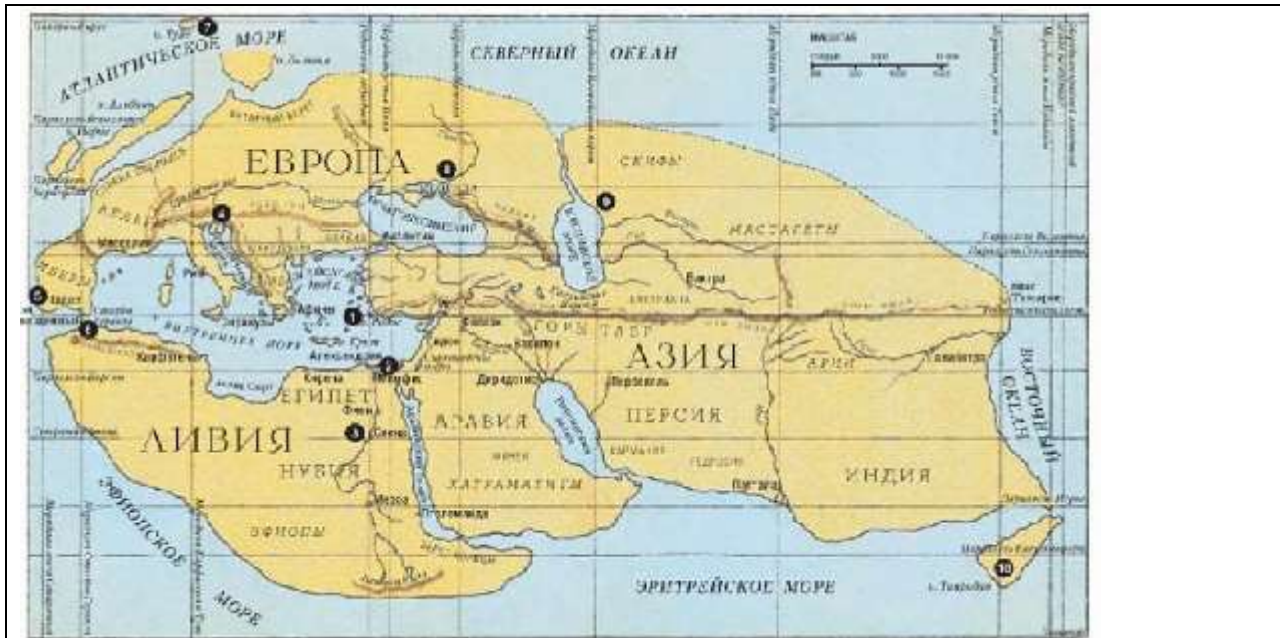
Верны ли данные утверждения? А) Экономико-математические методы в географии получили развитие с появлением компьютеров и компьютерных систем. В) Экономико-математические методы широко представлены в географии населения. Подберите правильный ответ.	
+	А – да, В – да
	А – да, В – нет
	А – нет, В – да
	А – нет, В – нет

Географические карты

Тип	Группа
Вес	12

Задание

Порядковый номер задания	21
Тип	1
Вес	1



На рисунке – карта мира по

+	Эратосфену
	Птолемию
	Бейхаму
	Меркатору

Задание

Порядковый номер задания	22
Тип	1
Вес	1

Карта мира по Птолемию была составлена в

+	II в. н.э.
	I в. до н.э.
	XV в. н.э.
	VII в. н.э.

Задание

Порядковый номер задания	23
Тип	5
Вес	1

Расположите в хронологической последовательности географические карты:

Карта Эратосфена
Карта Птолемея
Глобус Бейхама
Атлас Меркатора

Задание

Порядковый номер задания	24
Тип	4
Вес	1

На карте Птолемея земли вокруг _____ моря показаны точно, а земли по краю Ойкумены - часто неправильно.
Средиземного

Задание

Порядковый номер задания	25
Тип	2
Вес	1

Континенты, представленные на глобусе Бейхама:	
+	Африка
+	Евразия
	Америка
	Австралия

Задание

Порядковый номер задания	26
Тип	4
Вес	1

_____ — это набор карт.
Атлас

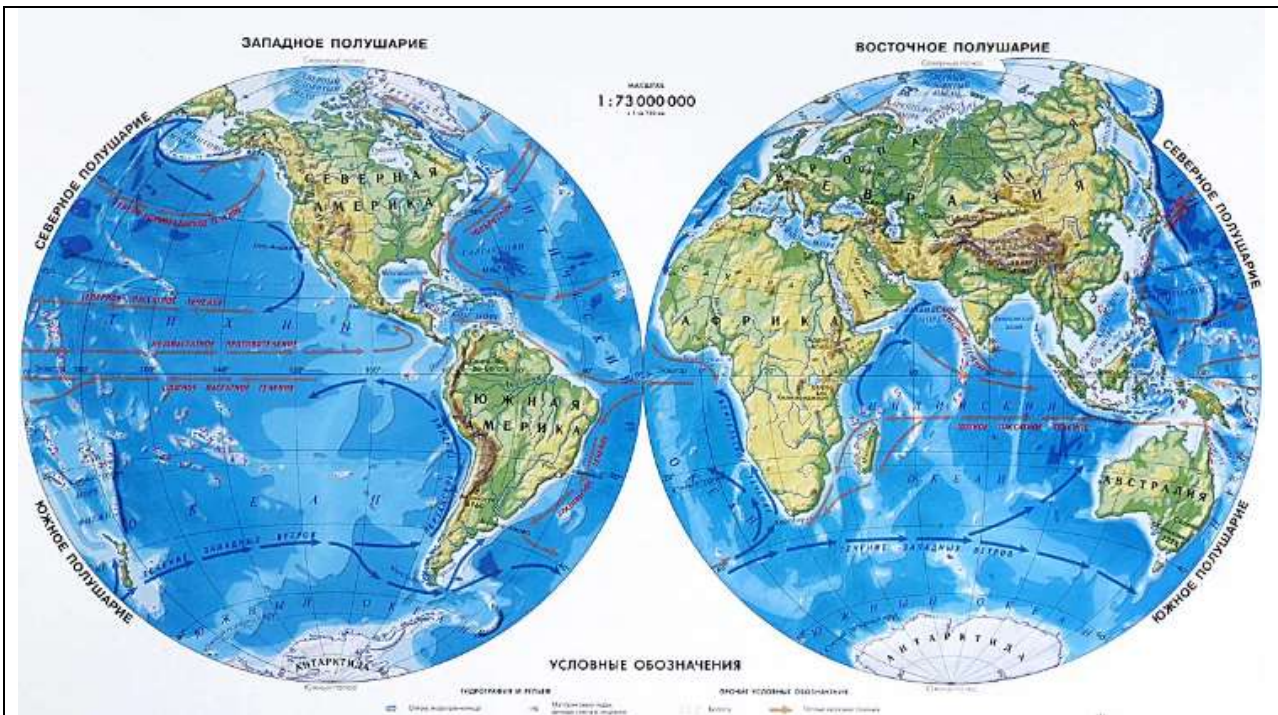
Задание

Порядковый номер задания	27
Тип	1
Вес	1

Набор карт, названный в честь древнегреческого героя, составлен	
+	Меркатором
	Бейхамом
	Птолемеем
	Эратосфеном

Задание

Порядковый номер задания	28
Тип	1
Вес	1



На рисунке - _____ карта.




+	физическая
	политическая
	контурная
	климатическая
	гидро-материковая

Задание

Порядковый номер задания	29
Тип	3
Вес	1

Установите соответствие:

Физическая карта	
------------------	--

<p>Политическая карта</p>	
<p>Историческая карта</p>	
<p>Контурная карта</p>	

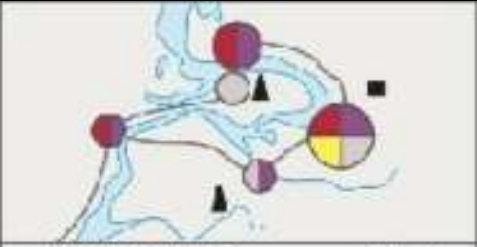


Задание

Порядковый номер задания	30
Тип	4
Вес	1

_____ — это трехмерная модель Земли.
 Глобус

Задание

Порядковый номер задания	31
Тип	3
Вес	1

Установите соответствие способов изображения в географии:																									
Способ значков	 <table border="1" data-bbox="758 705 1236 884"> <tr> <td colspan="2">Обрабатывающая промышленность</td> <td colspan="2">Добыча</td> </tr> <tr> <td>● (красный)</td> <td>машиностроение</td> <td>▲ (черный)</td> <td>ископаемые топливные ресурсы</td> </tr> <tr> <td>● (фиолетовый)</td> <td>химическая</td> <td>■ (черный)</td> <td>каменный уголь</td> </tr> <tr> <td>● (розовый)</td> <td>нефтеперерабатывающая</td> <td></td> <td></td> </tr> <tr> <td>● (серый)</td> <td>производство строительных материалов</td> <td></td> <td></td> </tr> <tr> <td>● (желтый)</td> <td>текстильная</td> <td></td> <td></td> </tr> </table>	Обрабатывающая промышленность		Добыча		● (красный)	машиностроение	▲ (черный)	ископаемые топливные ресурсы	● (фиолетовый)	химическая	■ (черный)	каменный уголь	● (розовый)	нефтеперерабатывающая			● (серый)	производство строительных материалов			● (желтый)	текстильная		
Обрабатывающая промышленность		Добыча																							
● (красный)	машиностроение	▲ (черный)	ископаемые топливные ресурсы																						
● (фиолетовый)	химическая	■ (черный)	каменный уголь																						
● (розовый)	нефтеперерабатывающая																								
● (серый)	производство строительных материалов																								
● (желтый)	текстильная																								
Способ изолиний	 <table border="1" data-bbox="758 1198 1236 1299"> <tr> <td colspan="2">Шкала высот в метрах</td> <td>Горизонтальные линии</td> </tr> <tr> <td>110</td> <td>120 130 140 150 160 170 180 190 200 210</td> <td>и др. по плану</td> </tr> </table>	Шкала высот в метрах		Горизонтальные линии	110	120 130 140 150 160 170 180 190 200 210	и др. по плану																		
Шкала высот в метрах		Горизонтальные линии																							
110	120 130 140 150 160 170 180 190 200 210	и др. по плану																							
Способ количественного фона	 <table border="1" data-bbox="758 1624 1236 1713"> <tr> <td colspan="5">Глубина расчленения рельефа в метрах превышение над уровнем рек</td> </tr> <tr> <td>менее 100</td> <td>100</td> <td>200</td> <td>300</td> <td>400 более</td> </tr> </table>	Глубина расчленения рельефа в метрах превышение над уровнем рек					менее 100	100	200	300	400 более														
Глубина расчленения рельефа в метрах превышение над уровнем рек																									
менее 100	100	200	300	400 более																					

Способ линейных знаков	
------------------------	--

Задание

Порядковый номер задания	32
Тип	3
Вес	1

Установите соответствие обозначений полезных ископаемых на картах:	
Каменный уголь	■
Нефть	▲
Природный газ	△
Вольфрамовые руды	□

Задание

Порядковый номер задания	33
Тип	3
Вес	1

На картах могут быть изображены [1] – линии равных температур – и [2] – линии равного атмосферного давления. Залежи полезных ископаемых на картах обозначается [3]. [4] на картах обозначают области распространения какого-нибудь явления. Установите соответствие:	
1	изотермы
2	изобары
3	вне масштабные значки
4	ареалы

Задание

Порядковый номер задания	34
Тип	1
Вес	1

Масштаб карты 1: 10 000 000 означает, что в 1 см	
+	100 км
	10 тыс.км
	10 км
	1 тыс.км

Задание

Порядковый номер задания	35
Тип	4

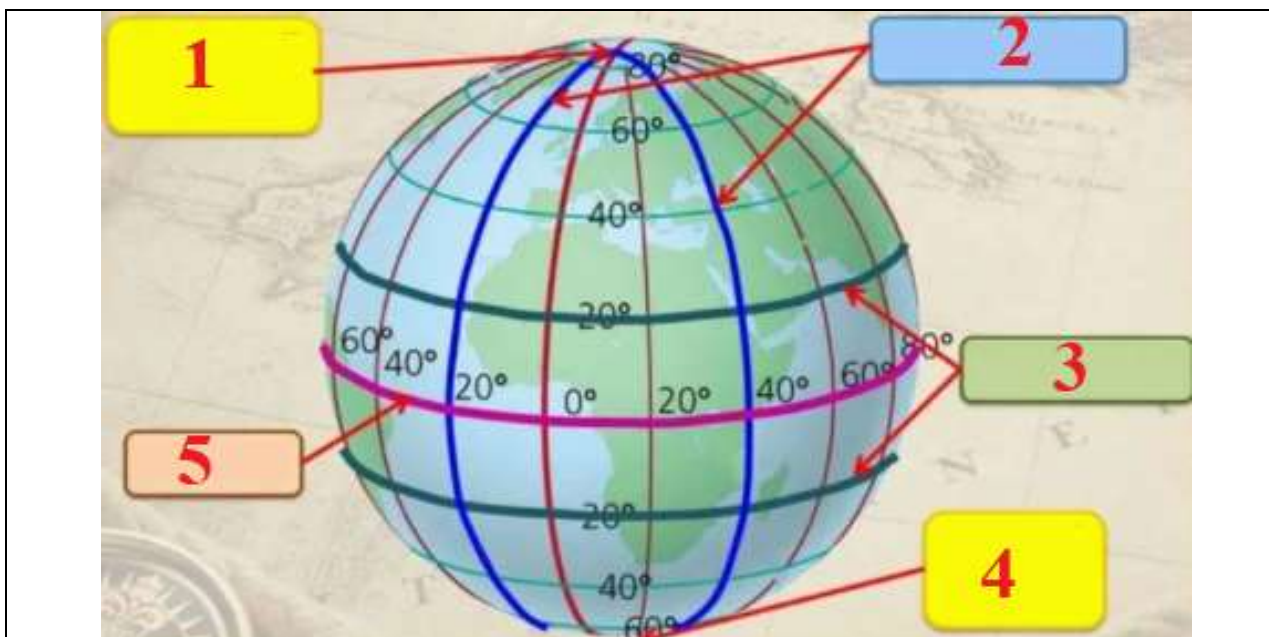
Вес	1
-----	---

Масштаб карты 1: 5 000 000.
 Расстояние на карте между двумя точками 3 см.
 Реальное расстояние между двумя объектами - ____ км.
 (В ответе укажите число цифрами)

150

Задание

Порядковый номер задания	36
Тип	3
Вес	1



Установите соответствие:

Северный полюс	1
Меридианы	2
Параллели	3
Южный полюс	4
Экватор	5

Задание

Порядковый номер задания	37
Тип	3
Вес	1

[1] – 40 тыс.км-линия, находящаяся на равном расстоянии от [2]. [3] – линии, пересекающие земной шар через [2]. Параллельно [1] расположены [4].

Установите соответствие:

1	экватор
2	полюс
3	меридиан
4	параллель

Задание

Порядковый номер задания	38
Тип	4
Вес	1

Длина экватора - ____ тыс.км. (В ответе укажите число цифрами)
40

Задание

Порядковый номер задания	39
Тип	2
Вес	1

При чтении карты необходимо:	
+	Определить масштаб карты
+	Определить ориентацию карты
+	Узнать возраст карты
+	Узнать высоту сечения карты
	Определить место своего нахождения на карте

Задание

Порядковый номер задания	40
Тип	6
Вес	1

Верны ли данные утверждения? А) Квадрокоптер – это синоним мультикоптера. Б) Если самолет летит высоко над землей, то масштаб аэрофотоснимка оказывается мелким. Подберите правильный ответ.	
	А – да, Б – да
	А – да, Б – нет
+	А – нет, Б – да
	А – нет, Б – нет

ГИС. Сравнения в географии

Тип	Группа
Вес	12

Задание

Порядковый номер задания	41
Тип	3
Вес	1

В ГИС на этапе ввода данных можно использовать [1]. Манипулирование данными включает в себя [2]. Для управления данными в ГИС используют [3]. ГИС могут визуализировать данные в виде [4]. Установите соответствие:	
1	дигитайзер
2	масштабирование
3	СУБД
4	карта

Задание

Порядковый номер задания	42
Тип	2
Вес	1

Перечислите ГИС по уровню управления:	
+	региональные гис
+	корпоративные гис
	картографические гис
	геологические гис

Задание

Порядковый номер задания	43
Тип	2
Вес	1

Перечислите ГИС по предметной области:	
+	Городские ГИС
+	Геологические ГИС
+	Природоохранные ГИС
	Федеральные ГИС

Задание

Порядковый номер задания	44
Тип	1
Вес	1

Использование больших динамических рядов для ретроспективного анализа и прогноза в географии лежит в основе	
+	сравнения во времени
	пространственного сравнения
	пространственно-временного сравнения
	международных сравнений

Задание

Порядковый номер задания	45
Тип	2
Вес	1

Подберите правильные варианты продолжения фразы: «По плотности населения и дорожной сети европейская территория России ...».	
+	превосходит азиатскую в 8 раз
+	уступает зарубежной Европе в 3 раза
	превосходит зарубежную Европу в 2 раза
	уступает азиатской в 5 раз

Задание

Порядковый номер задания	46
Тип	2
Вес	1

Целесообразно с точки зрения географии сравнивать:	
+	Россию и Канаду
+	Норвегию и Швецию
+	Конго и Амазонку
+	Норвегию и Чили
	Россию и Великобританию

Задание

Порядковый номер задания	47
Тип	6
Вес	1

Верны ли данные утверждения? А) В географии производят сравнение с целью выявления причин и следствий различий. Б) При сравнении двух географических объектов надо последовательно подробно описать каждый объект. Подберите правильный ответ.	
	А – да, Б – да

+	А – да, Б – нет
	А – нет, Б – да
	А – нет, Б – нет

Задание

Порядковый номер задания	48
Тип	2
Вес	1

Укажите страны, протянувшиеся вдоль морского берега с севера на юг, их границами с материковой стороны служат горы, находятся в разных полушариях и стремятся к 57 параллели, не пересекая ее, но с разных сторон.

+	Чили
+	Норвегия
	Швеция
	Аргентина

Задание

Порядковый номер задания	49
Тип	6
Вес	1

Верны ли данные утверждения?
 А) Целесообразно сравнивать долготы сравниваемых территорий, так как от них зависят многие характеристики климата.
 В) Кольский полуостров – часть Балтийского щита, поэтому на нем нет нефти и газа.
 Подберите правильный ответ.

	А – да, В – да
	А – да, В – нет
+	А – нет, В – да
	А – нет, В – нет

Задание

Порядковый номер задания	50
Тип	2
Вес	1

Реки Амазона и Конго:	
+	схожи по расположению в при экваториальных областях
+	отличаются бассейном и стоком
	схожи по расположению в низменном рельефе
	схожи по расположению на одном континенте

Раздел 2.

Политическая карта мира. Суверенные государства и самоуправляющиеся государственные образования

Тип	Группа
Вес	12

Задание

Порядковый номер задания	1
Тип	4
Вес	1

_____ география – это раздел географии, занимающийся изучением территориальной расстановки политических сил, систем, обусловленных социально-экономическими, политическими, историческими, этнокультурными, природными факторами, закономерностями и тенденциями.
Политическая

Задание

Порядковый номер задания	2
Тип	1
Вес	1

_____ география – это раздел географии, изучающий политические партии, группировки и блоки, и другие территориальные аспекты массовых избирательных кампаний.	
+	Электоральная
	Социальная
	Экономическая
	Геополитическая

Задание

Порядковый номер задания	3
Тип	1
Вес	1

Существование королевства Португалии, Киевской Руси, Арабского халифата характерно для _____ этапа формирования политической карты мира.	
+	средневекового
	древнего
	нового
	новейшего

Задание

Порядковый номер задания	4
Тип	4
Вес	1

Древний этап формирования политической карты мира оканчивается в ____ г. (В ответе укажите число цифрами)
410

Задание

Порядковый номер задания	5
Тип	3
Вес	1

Установите соответствие этапов формирования политической карты мира и государств, существовавших в этот период:	
Древний этап	Месопотамия
Средневековый этап	Монгольская империя
Новый этап	Российская империя
Новейший этап	Китай

Задание

Порядковый номер задания	6
Тип	2
Вес	1

Для Нового этапа формирования политической карты мира характерно:	
+	формирование империи Великих Моголов

+	возникновение Нидерландской колониальной империи
	распад Османской империи
	формирование Римской империи
	распад Римской империи

Задание

Порядковый номер задания	7
Тип	1
Вес	1

Укажите количество государств и государственных образований в мире	
+	250
	193
	197
	286

Задание

Порядковый номер задания	8
Тип	2
Вес	1

Перечислите государства на политической карте до 1990 г.:	
+	Чехословакия
+	ГДР
+	Югославия
	Сербия
	Таджикистан
	Эритрея

Задание

Порядковый номер задания	9
Тип	5
Вес	1

Расположите страны в порядке уменьшения их площади:	
	Россия
	Китай
	Бразилия
	Австралия
	Индия

Задание

Порядковый номер задания	10
Тип	2
Вес	1

Микросоударства – это :	
+	Андорра
+	Сингапур
+	Сан-Марино
	Куба

Задание

Порядковый номер задания	11
Тип	3
Вес	1

Установите соответствие стран по размерам территории:	
Бразилия, Индия	очень большие страны
Алжир, Иран	крупные страны
Италия, Вьетнам	средние страны
Ватикан, Лихтенштейн	микросоударства

Задание

Порядковый номер задания	12
Тип	5
Вес	1

Расположите государства в порядке увеличения численности населения:	
	Россия
	Индонезия
	США
	Индия
	Китай

Задание

Порядковый номер задания	13
Тип	3
Вес	1

Установите соответствие стран и уровня развития ИЧР:	
Страны с очень высоким уровнем ИЧР	Ирландия, Исландия
Страны с высоким уровнем ИЧР	Уругвай, Казахстан
Страны со средним уровнем ИЧР	Молдавия, Мальдивы
Страны с низким уровнем ИЧР	Бурунди, Непал

Задание

Порядковый номер задания	14
Тип	1
Вес	1

_____ — это политическая форма организации общества на определённой территории, политико-территориальная суверенная организация публичной власти, обладающая аппаратом управления и принуждения, которому подчиняется всё население страны.	
+	Государство
	Страна
	Государственное образование
	Ареал

Задание

Порядковый номер задания	15
Тип	2
Вес	1

Государства, обладающие зависимыми территориями:	
+	Голландия
+	Дания
+	Великобритания
	Россия
	Китай
	Германия

Задание

Порядковый номер задания	16
Тип	5
Вес	1

Расположите континенты и части света в порядке увеличения количества независимых государств на их территории:

Южная Америка
Австралия и Океания
Северная Америка
Европа
Азия
Африка

Задание

Порядковый номер задания	17
Тип	2
Вес	1

Государства Западной Азии:	
+	Грузия
+	Ирак
+	Сирия
	Таджикистан
	Афганистан

Задание

Порядковый номер задания	18
Тип	1
Вес	1

Наиболее высокая плотность населения в государстве	
+	Мальдивы
	Индия
	Китай
	Япония
	Южная Корея
	Монголия

Задание

Порядковый номер задания	19
Тип	1
Вес	1

Государство с наивысшей плотностью населения – это	
+	Сингапур
	Бангладеш
	Бахрейн
	Ватикан

Задание

Порядковый номер задания	20
Тип	2
Вес	1

В Азии и Европе одновременно находятся:

+	Казахстан
+	Турция
	Йемен
	Египет
	Индонезия

Задание

Порядковый номер задания	21
Тип	2
Вес	1

Частично признанные государства- это :	
+	Южная Осетия
+	Северный Кипр
+	Тайвань
	Израиль
	Грузия

Задание

Порядковый номер задания	22
Тип	2
Вес	1

Островные государства Северной Америки – это :	
+	Сент Люсия
+	Тринидад и Тобаго
	Сальвадор
	Мьянма
	Фиджи
	Палау

Формы правления, типы государственного устройства и формы государственного режима

Тип	Группа
Вес	12

Задание

Порядковый номер задания	23
Тип	2
Вес	1

Перечислите монархические государства:	
+	Бельгия
+	Швеция
+	Саудовская Аравия
+	Оман
	Австрия
	Греция
	Россия
	Турция

Задание

Порядковый номер задания	24
Тип	3
Вес	1

Установите соответствие государств и форм правления:	
Конституционная монархия	Швеция
Абсолютная монархия	Оман
Теократическая монархия	Ватикан
Парламентская республика	Израиль
Президентско-парламентская республика	Россия
Теократическая республика	Иран

Задание

Порядковый номер задания	25
Тип	2
Вес	1

Перечислите социалистические республики:	
+	Вьетнам
+	Китай
+	Куба
	Эстония
	Литва
	Латвия

Задание

Порядковый номер задания	26
Тип	6
Вес	1

Верны ли данные утверждения? А) Республик на политической карте больше, чем монархий. В) В мире унитарных государств больше, чем федеративных государств. Подберите правильный ответ.	
+	А – да, В – да
	А – да, В – нет
	А – нет, В – да
	А – нет, В – нет

Задание

Порядковый номер задания	27
Тип	1
Вес	1

Древнейшая республика – это	
+	Сан-Марино
	Ватикан
	Греция
	Египет

Задание

Порядковый номер задания	28
Тип	2
Вес	1

Перечислите президентские республики:	
+	США
+	Пакистан
+	Аргентина
	ФРГ
	Италия
	Индия

Задание

Порядковый номер задания	29
Тип	1
Вес	1

Не является президентской республикой	
+	Израиль
	Бразилия
	Аргентина
	Пакистан

Задание

Порядковый номер задания	30
Тип	1
Вес	1

Самая старая конституционная монархия – это	
+	Великобритания
	Япония
	Саудовская Аравия
	Франция

Задание

Порядковый номер задания	31
Тип	2
Вес	1

Федеративные государства:	
+	Австрия
+	Бельгия
+	ЮАР
	Франция

Задание

Порядковый номер задания	32
Тип	2
Вес	1

Государства, в которых федеративное устройство связано с историко-географическими особенностями:	
+	ФРГ
+	Австрия
+	США
	Россия
	Индия

Задание

Порядковый номер задания	33
Тип	1
Вес	1

Унитарное государство – это	
+	Ливия
	Эфиопия
	Швейцария
	Венесуэла
	Ирак

Задание

Порядковый номер задания	34
Тип	2
Вес	1

К США относится:	
+	Федеративное государство
+	Президентская республика
+	Демократическое государство
	Унитарное государство
	Авторитарное государство
	Парламентская республика
	Конституционная монархия

Задание

Порядковый номер задания	35
Тип	2
Вес	1

Псевдodemократические государства:	
+	КНДР
+	Куба
+	Мьянма
	КНР
	Южная Корея

Задание

Порядковый номер задания	36
Тип	6
Вес	1

Верны ли данные утверждения? А) До 2014 г. Бельгия была федеративным государством, а теперь – унитарное. В) Проблема административно-территориального устройства острее стоит в унитарных государствах, чем в федеративных. Подберите правильный ответ.	
	А – да, В – да
	А – да, В – нет
	А – нет, В – да
+	А – нет, В – нет

Типология стран по уровню социально-экономического развития

Тип	Группа
Вес	12

Задание

Порядковый номер задания	37
Тип	2
Вес	1

Перечислите группы развитых стран:	
+	«Привилегированные малые нации»
+	Страны «переселенческого капитализма»
+	«Азиатские тигры» первой волны
	Страны ОПЕК
	Страны концессионного развития

Задание

Порядковый номер задания	38
Тип	2
Вес	1

Перечислите условия социально-экономического развития развитых стран:	
+	длительный период независимого развития
+	прочные, устоявшиеся демократические традиции
+	общественная зрелость
	приоритетное развитие сферы услуг
	гибкая политическая надстройка
	хорошо отлаженный рыночный механизм

Задание

Порядковый номер задания	39
Тип	2
Вес	1

Перечислите государства из группы «Большая шестерка»:	
+	США
+	Япония
+	ФРГ
+	Франция
+	Великобритания
+	Италия
	Россия
	Канада
	Испания
	Бельгия
	Китай

Задание

Порядковый номер задания	40
Тип	6
Вес	1

Верны ли данные утверждения? А) В мире зарегистрировано более 60 тыс. ТНК. В) Менее 50% ТНК зарегистрированы в странах «Большой шестерки». Подберите правильный ответ.	
	А – да, В – да
+	А – да, В – нет
	А – нет, В – да
	А – нет, В – нет

Задание

Порядковый номер задания	41
Тип	2
Вес	1

«Привилегированные малые нации» в группе развитых государств:	
+	Австрия
+	Ирландия
+	Финляндия
	ФРГ
	ЮАР
	Греция
	Польша

Задание

Порядковый номер задания	42
Тип	3
Вес	1

Установите соответствие государств и групп развитых стран:	
«Большая шестерка»	Франция
«Привилегированные малые нации»	Голландия
Страны «переселенческого капитализма»	Израиль
Среднеразвитые страны Европы	Испания
«Азиатские тигры» первой волны	Сингапур
Бывшие социалистические страны	Чехия

Задание

Порядковый номер задания	43
Тип	2
Вес	1

Азиатские тигры первой волны:	
+	Республика Корея
+	Китайская Республика
	Индонезия
	КНДР
	Бразилия

Задание

Порядковый номер задания	44
Тип	3
Вес	1

Установите соответствие государств и групп развивающихся стран:	
Ключевые страны крупного потенциала	Индия, Мексика
Новые индустриальные страны	Вьетнам, Камбоджа
Финансово избыточные страны-экспортеры нефти и природного газа	Бруней, Ливия
Страны зависимого плантационного хозяйства	Гватемала, Шри-Ланка
Страны концессионного развития	Ямайка, Суринам
Мелкие страны-«квартиросдатчики»	Ливан, Барбадос

Задание

Порядковый номер задания	45
Тип	2
Вес	1

«Гиганты Востока» - это :	
+	Китай
+	Индия
	Бразилия
	Мексика
	Таиланд

Задание

Порядковый номер задания	46
Тип	2
Вес	1

Укажите страны зависимого плантационного хозяйства:

+	Гватемала
+	Никарагуа
+	Гондурас
	Габон
	Папуа-Новая Гвинея

Задание

Порядковый номер задания	47
Тип	4
Вес	1

_____ – это договор о передаче в эксплуатацию на определенный срок природных богатств, предприятий и других хозяйственных объектов, принадлежащих государству.
Концессия

Задание

Порядковый номер задания	48
Тип	2
Вес	1

Мелкие страны-«квартиросдатчики» - это :	
+	Кипр
+	Ливан
+	Панама
	Бурунди
	Куба

Задание

Порядковый номер задания	49
Тип	2
Вес	1

Беднейшие страны мира:	
+	Лаос
+	Афганистан
+	Бурунди
+	Либерия
	Тунис
	Венесуэла

Задание

Порядковый номер задания	50
Тип	6
Вес	1

Верны ли данные утверждения? А. Группа развивающихся мелких стран-«квартиросдатчиков» специализируется на оффшоринге финансовых услуг. В. Больше всего беднейших стран мира находится в Южной Африке. Подберите правильный ответ.	
	А – да, В – да
+	А – да, В – нет
	А – нет, В – да
	А – нет, В – нет

Взаимодействие человеческого общества и природной среды

Тип	Группа
Вес	12

Задание

Порядковый номер задания	1
Тип	4
Вес	1

Часть природы, с которой человеческое общество непосредственно взаимодействует в своей жизни и производственной деятельности на данном этапе исторического развития, - это _____ среда.
географическая

Задание

Порядковый номер задания	2
Тип	6
Вес	1

Верны ли данные утверждения?
А) «Мы не можем ждать милостей от природы, взять их у нее – наша задача» - позиция географического нигилизма.
В) Преувеличение роли географической среды называется географическим детерминизмом.
Подберите правильный ответ.

+	А – да, В – да
	А – да, В – нет
	А – нет, В – да
	А – нет, В – нет

Задание

Порядковый номер задания	3
Тип	1
Вес	1

Географический фатализм и нигилизм выделил

+	Баранский Н.Н.
	Берг Л.С.
	Герасимов И.П.
	Калесник С.В.

Задание

Порядковый номер задания	4
Тип	1
Вес	1

Укажите верное утверждение.

+	Окружающая среда = природная среда + антропогенная среда
	Окружающая среда = природная среда
	Антропогенная среда = окружающая среда + природная среда
	Антропогенная среда = природная среда – окружающая среда

Задание

Порядковый номер задания	5
Тип	1
Вес	1

Антропогенные ландшафты занимают _____ процентов земной суши.

+	60
	30
	80
	90

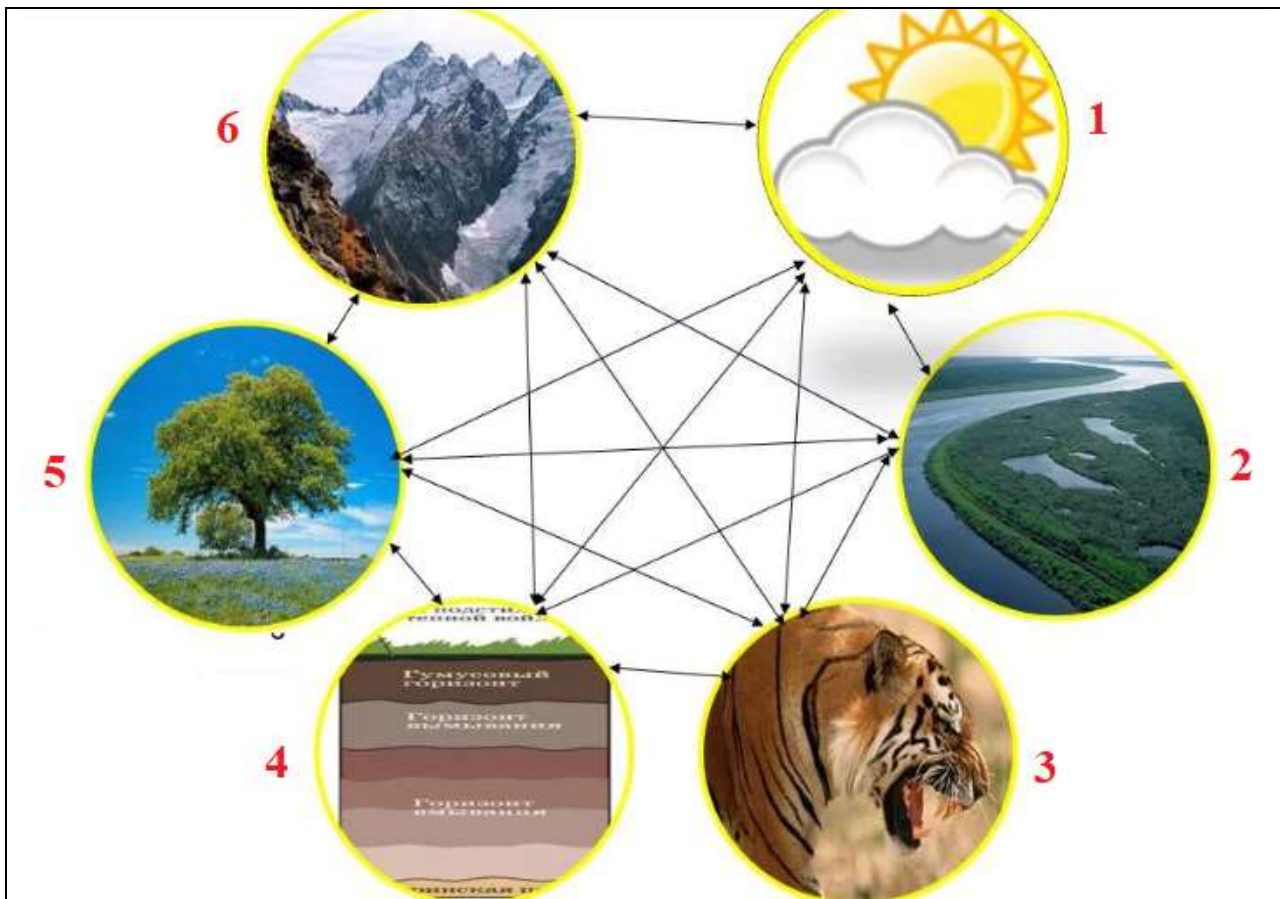
Задание

Порядковый номер задания	6
Тип	3
Вес	1

Установите соответствие территорий и долей территорий, не затронутых антропогенной деятельностью:	
Северная Америка	38%
Зарубежная Азия	14%
Зарубежная Европа	3%
Антарктика	95%

Задание

Порядковый номер задания	7
Тип	3
Вес	1



Установите соответствие компонентов природного комплекса:

1	климат и воздушные массы
2	воды
3	животные
4	почвы
5	растения
6	горные породы и рельеф

Задание

Порядковый номер задания	8
Тип	2
Вес	1

Перечислите крупные природные комплексы:	
+	материки
+	океаны
	географическая оболочка
	лес
	луг
	пойма реки

Задание

Порядковый номер задания	9
Тип	2
Вес	1

Перечислите аazonальные природные зоны:	
+	материки
+	природные страны
+	океаны
	географические пояса

Задание

Порядковый номер задания	10
Тип	3
Вес	1

Установите соответствие антропогенных природных комплексов:	
Условно измененные комплексы	Арктика
Слабо измененные комплексы	Выборочная вырубка лесов
Нарушенные комплексы	Засоление почв
Культурные ландшафты	Создание оптимальной среды для жизни людей, для укрепления их здоровья

Задание

Порядковый номер задания	11
Тип	1
Вес	1

За XX в. производство выросло в ____ раз.	
+	19
	5
	12
	36

Задание

Порядковый номер задания	12
Тип	6
Вес	1

Верны ли данные утверждения? А) В XX в. объемы потребляемого природного сырья удваивались каждые четверть века. В) Минимальное воздействие на природную среду было при феодальном строе. Подберите правильный ответ.

	А – да, В – да
	А – да, В – нет
	А – нет, В – да
+	А – нет, В – нет

Задание

Порядковый номер задания	13
Тип	1
Вес	1

Первый закон об охране окружающей среды принят в _____ году.	
+	1273
	1338
	1703
	1424
	988

Задание

Порядковый номер задания	14
Тип	4
Вес	1

Загрязнение окружающей среды, связанное с поступлением в нее неизвестных природе веществ и соединений, создаваемых в первую очередь промышленностью органического синтеза - это _____ загрязнение окружающей среды.	
качественное	

Задание

Порядковый номер задания	15
Тип	1
Вес	1

На каждого жителя Москвы в среднем за год приходится _____ кг мусора.	
+	300
	150
	700
	50

Задание

Порядковый номер задания	16
Тип	6
Вес	1

Верны ли данные утверждения? А) Азовское море грязнее Адриатического. В) Нефтяные разливы не представляют опасности для Мирового океана, потому что они занимают очень малую площадь. Подберите правильный ответ.	
	А – да, В – да
+	А – да, В – нет
	А – нет, В – да
	А – нет, В – нет

Задание

Порядковый номер задания	17
Тип	1
Вес	1

SO ₂ - это	
+	сернистый газ
	углекислый газ
	угарный газ
	озон

Задание

Порядковый номер задания	18
Тип	1
Вес	1

Экологически критические районы в России занимают ___ процентов территории.	
+	15
	5
	25
	40

Задание

Порядковый номер задания	19
Тип	5
Вес	1

Расположите страны в порядке снижения экологического дефицита:	
	Индия
	США
	Австралия
	Бразилия

Задание

Порядковый номер задания	20
Тип	4
Вес	1

Первая Конференция ООН по проблемам окружающей среды состоялась в ___ году.	
	1972

Задание

Порядковый номер задания	21
Тип	2
Вес	1

Объекты Всемирного природного наследия в России:	
+	Озеро Байкал
+	Ленские Столбы
+	вулканы Камчатки
	Валаам

Задание

Порядковый номер задания	22
Тип	1
Вес	1

Модель экономического развития, предполагающая ответственное отношение человека к ресурсам Земли – это	
+	зеленая экономика

	экологизация
	антизагрязнение
	гринпис

Природные ресурсы и ресурсообеспеченность

Тип	Группа
Вес	12

Задание

Порядковый номер задания	23
Тип	6
Вес	1

Верны ли данные утверждения?	
А) Природные ресурсы – совокупность естественных тел, веществ и явлений природы, которые на данном уровне развития производительных сил существенны для жизни и деятельности человеческого общества, хотя и не участвуют непосредственно в сфере материального производства.	
В) Природные условия – совокупность естественных тел, веществ и явлений природы, которые человек использует для достижения целей, направленных на обеспечение своего существования.	
Подберите правильный ответ.	
	А – да, В – да
	А – да, В – нет
	А – нет, В – да
+	А – нет, В – нет

Задание

Порядковый номер задания	24
Тип	3
Вес	1

Установите соответствие:	
Возобновимые природные ресурсы	способные к самовоспроизводству природные ресурсы
Исчерпаемые природные ресурсы	природные физические тела и явления, количество и качество которых существенно изменяются в процессе длительного природопользования
Невозобновимые природные ресурсы	природные ресурсы, образовавшиеся в недрах земли в течение миллионов лет, длительное пользование которыми приводит к истощению их запасов, пополнение которых практически невозможно
Неисчерпаемые природные ресурсы	природные физические явления и тела, количество и качество которых практически не меняется или меняется лишь неощутимо в процессе длительного природопользования

Задание

Порядковый номер задания	25
Тип	2
Вес	1

Относительно возобновимые природные ресурсы:	
+	лесные ресурсы
+	плодородие почв
	пресная вода
	животный мир
	минеральные ресурсы

Задание

Порядковый номер задания	26
--------------------------	----

Тип	4
Вес	1

_____ - это соотношение между величиной природных ресурсов и размерами их использования, выражаемое в количестве лет, на которые должно хватить данного ресурса.
Ресурсообеспеченность

Задание

Порядковый номер задания	27
Тип	2
Вес	1

Руды цветных металлов:	
+	Бокситы
+	Нефелины
+	Алуниты
	Фосфориты
	Апатиты
	Нектон

Задание

Порядковый номер задания	28
Тип	3
Вес	1

Установите соответствие мировых запасов полезных ископаемых:	
Общегеологический запас угля	5500 млрд.т
Общегеологический запас нефти	500 млрд.т
Разведанный запас природного газа	150 трлн.м ³
Разведанный запас железной руды	200 млрд.т

Задание

Порядковый номер задания	29
Тип	1
Вес	1

Разведанный запасы минеральных ресурсов включают категории запасов:	
+	A, B, C1
	A, B
	A, B, C, D
	C2, D

Задание

Порядковый номер задания	30
Тип	2
Вес	1

Крупнейшие запасы хромитов имеют страны:	
+	ЮАР
+	Зимбабве
+	Индия
	Китай
	Россия
	Австралия

Задание

Порядковый номер задания	31
--------------------------	----

Тип	3
Вес	1

Установите соответствие минеральных ресурсов и количества извлеченного сырья за историю человечества:	
200 млрд т	уголь
100 млрд т	нефть
50 млрд т	железная руда
2 млрд т	бокситы
100 тыс. т	золото

Задание

Порядковый номер задания	32
Тип	3
Вес	1

Установите соответствие угольных бассейнов и стран:	
Канско-Ачинский	Россия
Рурский	ФРГ
Верхнесилезский	Польша
Фушуньский	Китай

Задание

Порядковый номер задания	33
Тип	6
Вес	1

Верны ли данные утверждения?	
А) Мировые урановые запасы распределены между Австралией, Россией, Кыргызстаном, Чили и Китаем.	
В) Самыми большими запасами медных руд обладают Россия и Австралия.	
Подберите правильный ответ.	
	А – да, В – да
	А – да, В – нет
	А – нет, В – да
+	А – нет, В – нет

Задание

Порядковый номер задания	34
Тип	2
Вес	1

Геотермальные ресурсы велики в странах:	
+	Исландия
+	Италия
+	Новая Зеландия
	ОАЭ
	Канада
	Великобритания

Задание

Порядковый номер задания	35
Тип	3
Вес	1

Установите соответствие размера и структуры мирового земельного фонда:	
Обрабатываемые земли	11%
Луга и пастбища	26%
Леса и кустарники	32%

Земли населенных пунктов	3%
--------------------------	----

Задание

Порядковый номер задания	36
Тип	1
Вес	1

Среднемировой показатель обеспеченности пашней на душу населения	
+	0,2 га
	0,5 га
	0,9 га
	3 га
	0,05 га

Задание

Порядковый номер задания	37
Тип	1
Вес	1

Ресурсы пресной воды составляют ___% общего объема гидросферы.	
+	3
	33
	20
	1

Задание

Порядковый номер задания	38
Тип	5
Вес	1

Расположите страны в порядке увеличения гидроэнергетического потенциала:	
	Норвегия
	Россия
	Бразилия
	Китай

Задание

Порядковый номер задания	39
Тип	6
Вес	1

Верны ли данные утверждения? А) Ресурсы ветровой энергии сосредоточены в аридном поясе. В) Ресурсы солнечной энергии сосредоточены в умеренном поясе. Подберите правильный ответ.	
	А – да, В – да
	А – да, В – нет
	А – нет, В – да
+	А – нет, В – нет

Территориальные сочетания природных ресурсов и природно-ресурсный потенциал

Тип	Группа
Вес	12

Задание

Порядковый номер задания	40
Тип	1
Вес	1

_____ - это совокупность различных видов природных ресурсов, сосредоточенных на какой-либо ограниченной территории, которые уже вовлечены или могут быть вовлечены в будущем в хозяйственное использование.

+	ТСПР
	ПРП
	ОПТ
	МСОП

Задание

Порядковый номер задания	41
Тип	1
Вес	1

Восток Украины и Восток Индии благоприятны для развития

+	черной металлургии
	цветной металлургии
	алюминиевой промышленности
	целлюлозно-бумажной промышленности

Задание

Порядковый номер задания	42
Тип	2
Вес	1

Наиболее благоприятные в мире районы для развития черной металлургии полного цикла:

+	Донбасс
+	Приднепровье
+	Плато Чхота-Нагрупп
	Венесуэла

Задание

Порядковый номер задания	43
Тип	3
Вес	1

Установите соответствие районов и благоприятных к развитию в них отраслей экономики:

Чхота-Нагрупп	черная металлургия
Бразилия	алюминиевая промышленность
Иркутская область	целлюлозно-бумажная промышленность
Липецк	производство стройматериалов

Задание

Порядковый номер задания	44
Тип	1
Вес	1

_____ - это совокупность природных ресурсов, которые могут быть использованы в хозяйственной деятельности с учетом научно-технического прогресса.

+	ПРП территории
	ТСПР
	Ресурсный цикл территории
	Геоэкологический потенциал

Задание

Порядковый номер задания	45
Тип	2
Вес	1

Крупные страны, обладающие наибольшим природно-ресурсным потенциалом:	
+	Россия
+	Китай
+	Австралия
	Норвегия
	Саудовская Аравия

Задание

Порядковый номер задания	46
Тип	2
Вес	1

Северные страны, обладающие наибольшим природно-ресурсным потенциалом:	
+	Швеция
+	Норвегия
+	Финляндия
	Габон
	Гана
	Малайзия

Задание

Порядковый номер задания	47
Тип	5
Вес	1

Расположите российские регионы в порядке уменьшения потенциала лесных ресурсов:	
	Восточная Сибирь
	Дальний Восток
	Западная Сибирь
	Европейский Север и Северо-Запад
	Урало-Поволжье

Задание

Порядковый номер задания	48
Тип	1
Вес	1

Наибольшим ресурсным потенциалом железной руды обладает регион	
+	Центральная Россия
	Урало-Поволжье
	Восточная Сибирь
	Европейский юг

Задание

Порядковый номер задания	49
Тип	2
Вес	1

Наибольшим гидроэнергетическим потенциалом обладают 2 региона:	
+	Восточная Сибирь
+	Дальний Восток

	Западная Сибирь
	Европейский Юг
	Центральная Россия

Задание

Порядковый номер задания	50
Тип	4
Вес	1

_____ — это наука, которая с географических позиций изучает процессы и явления, возникающие в окружающей природной среде в результате антропогенного вмешательства в нее.
Геоэкология

Раздел 4.

Численность и структура населения мира

Тип	Группа
Вес	12

Задание

Порядковый номер задания	1
Тип	4
Вес	1

Численность населения Земли в 2021 г. - ___ млрд.чел. (В отчете укажите целое число цифрами)
8

Задание

Порядковый номер задания	2
Тип	1
Вес	1

В начале XXI в. приращение 1 млрд.чел. происходило за _____ лет.	
+	12
	14
	10
	8

Задание

Порядковый номер задания	3
Тип	3
Вес	1

[1] % населения мира проживает в развивающихся странах, обеспечивающих [2] % его ежегодного прироста. В Австралии и Океании проживает [3] млн.чел. Ежегодный прирост населения в Африке – [4] млн.чел. Установите соответствие и заполните пропуски:	
1	81
2	98
3	43
4	26

Задание

Порядковый номер задания	4
Тип	5
Вес	1

Расположите части света в порядке снижения численности населения:
Азия
Африка
Европа
Центральная и Южная Америка
Северная Америка

Задание

Порядковый номер задания	5
Тип	2
Вес	1

Страны, имеющие численность населения более 100 млн.чел.:	
+	Пакистан
+	Мексика
+	Филиппины
	Аргентина
	Австралия

Задание

Порядковый номер задания	6
Тип	4
Вес	1

За год родилось 3,6 млн.детей, умерло – 1,9 млн.чел. Естественный прирост населения равен ___ млн.чел. (В ответе запишите число через запятую)
1,7

Задание

Порядковый номер задания	7
Тип	4
Вес	1

В стране естественный прирост населения – 8%. Это _____ - воспроизводство населени. простое

Задание

Порядковый номер задания	8
Тип	1
Вес	1

Рождаемость - 45‰, смертность - 25‰. Это фаза	
+	демографического взрыва
	простого воспроизводства
	расширенного воспроизводства (фаза 2)
	сужающегося воспроизводства

Задание

Порядковый номер задания	9
Тип	1
Вес	1

В 1-й фазе расширенного воспроизводства находятся	
+	большинство стран Африки
	большинство стран Азии
	многие страны Латинской Америки
	развитые страны Западной Европы и Северной Америки

Задание

Порядковый номер задания	10
Тип	2
Вес	1

Развивающиеся страны, переходящие от расширенного воспроизводства к простому – это:	
+	Таиланд
+	Тунис
+	Бразилия
	Лаос

Задание

Порядковый номер задания	11
Тип	2
Вес	1

Страны с относительно высоким естественным приростом – это:	
+	Израиль
+	Ирландия
	Германия
	Япония

Задание

Порядковый номер задания	12
Тип	4
Вес	1

_____ - это выезд человека из страны в другую страну на постоянное место жительства.
Эмиграция

Задание

Порядковый номер задания	13
Тип	6
Вес	1

Верны ли данные утверждения? А. Регулярное, обычно ежедневное, перемещение населения из одного населенного пункта в другой, обычно на работу или учебу и обратно – маятниковая миграция. Б. Фертильным считается возраст 18-49 лет. Подберите правильный ответ.	
	А – да, В – да
+	А – да, В – нет
	А – нет, В – да
	А – нет, В – нет

Задание

Порядковый номер задания	14
Тип	3
Вес	1

Установите соответствие стран и коэффициентов фертильности:	
Нигер	7,0
Уганда	6,1
Южная Корея	1,2
Сингапур	0,8

Задание

Порядковый номер задания	15
Тип	1
Вес	1

Исторически сложившаяся большая группа людей, имеющих сходные, передаваемые по наследству внешние (телесные) признаки:	
+	Раса
	Нация
	Этнос
	Народ

Задание

Порядковый номер задания	16
Тип	6
Вес	1

Верны ли данные утверждения? А) Потомки европеоидов и негроидов – метисы. В) Потомки европеоидов и монголоидов – мулаты. Подверите правильный ответ.	
	А – да, В – да
	А – да, В – нет
	А – нет, В – да
+	А – нет, В – нет

Задание

Порядковый номер задания	17
Тип	1
Вес	1

Самая многочисленная языковая семья – это	
+	индоевропейская
	китайско-тибетская
	алтайская
	романская

Задание

Порядковый номер задания	18
Тип	2
Вес	1

Мировые религии:	
+	христианство
+	буддизм
+	ислам

	католицизм
	иудаизм
	индуизм
	синтоизм


Задание

Порядковый номер задания	19
Тип	2
Вес	1

Страны-лидеры по доле детей в возрастной структуре населения:	
+	Нигер
+	Уганда
+	Мали
	Катар
	Германия
	Италия

Задание

Порядковый номер задания	20
Тип	1
Вес	1



На рисунке изображена демографическая пирамида России за _____ год.

+	2002
	2017
	1989
	1970

Качество жизни. Трудовые ресурсы

Тип	Группа
Вес	12

Задание

Порядковый номер задания	21
--------------------------	----

Тип	3
Вес	1

Установите соответствие регионов и ожидаемой продолжительности жизни в 2020 г.:	
Восточное Средиземноморье	69,7
Африка	64,5
Юго-Восточная Азия	71,4
Европа	78,2

Задание

Порядковый номер задания	22
Тип	2
Вес	1

Страны с наибольшей продолжительностью жизни:	
+	Монако
+	Сингапур
	США
	Россия
	ЮАР

Задание

Порядковый номер задания	23
Тип	1
Вес	1

Среди представленных стран в 2019 г. наиболее высокий уровень младенческой смертности был в	
+	США
	Канаде
	России
	Германии

Задание

Порядковый номер задания	24
Тип	5
Вес	1

Расположите российские регионы в порядке увеличения младенческой смертности в 2020 г.:	
	Чувашия
	Санкт-Петербург
	Республика Дагестан
	Чукотский автономный округ

Задание

Порядковый номер задания	25
Тип	1
Вес	1

На Земле _____ % населения – грамотные.	
+	86
	97
	62
	74

Задание

Порядковый номер задания	26
--------------------------	----

Тип	3
Вес	1

Установите соответствие стран и уровня ИЧР:	
Очень высокий ИЧР	Россия
Высокий ИЧР	Куба
Средний ИЧР	Индия
Низкий ИЧР	Южный Судан

Задание

Порядковый номер задания	27
Тип	2
Вес	1

Страны с высоким ИЧР:	
+	Албания
+	Иран
+	Перу
	Норвегия
	Германия
	США

Задание

Порядковый номер задания	28
Тип	6
Вес	1

Верны ли данные утверждения?	
А) Трудоспособным считается возраст от 15 до 65 лет.	
В) Наименьшее количество работающих женщин в странах Персидского залива.	
Подберите правильный ответ.	
+	А – да, В – да
	А – да, В – нет
	А – нет, В – да
	А – нет, В – нет

Задание

Порядковый номер задания	29
Тип	5
Вес	1

Расположите страны в порядке уменьшения численности населения в трудоспособном возрасте:	
	Китай
	Индия
	США
	Индонезия
	Бразилия

Задание

Порядковый номер задания	30
Тип	1
Вес	1

В 2019 г. численность рабочей силы в России	
+	75 млн. чел.
	138 млн. чел.
	56 млн. чел.

	209 млн.чел.
--	--------------

Задание

Порядковый номер задания	31
Тип	1
Вес	1

Экономически активное население в мире в начале 2020-х гг.	
+	3,3 млрд.чел.
	4,6 млрд.чел.
	1,4 млрд.чел.
	7,9 млрд.чел.

Задание

Порядковый номер задания	32
Тип	2
Вес	1

Патерналистические экономические системы с невысоким уровнем безработицы:	
+	Япония
+	Южная Корея
+	Тайвань
	Германия
	Франция

Задание

Порядковый номер задания	33
Тип	6
Вес	1

Верны ли данные утверждения? А) В развивающихся странах 1-2% населения являются крупными частными собственниками, около 10-15% – мелкими частными собственниками, 80-85% – наемными работниками. В) В быстро развивающихся странах продолжительность рабочего дня выше, чем в развитых. Подберите правильный ответ.	
	А – да, В – да
	А – да, В – нет
+	А – нет, В – да
	А – нет, В – нет

Задание

Порядковый номер задания	34
Тип	2
Вес	1

Мировые лидеры по совокупному показателю рабочей силы:	
+	Северная Европа
+	Восточная Азия
	Южная Европа
	Северная Азия

Задание

Порядковый номер задания	35
Тип	2
Вес	1

Преобладает население, занятое в сельском хозяйстве, в:	
---	--

+	Анголе
+	Афганистане
+	Бангладеш
	Ираке
	Андорре

Размещение населения

Тип	Группа
Вес	12

Задание

Порядковый номер задания	36
Тип	1
Вес	1

Процент незаселенных обитаемых территорий в мире _____ процентов.	
+	15
	7
	28
	1

Задание

Порядковый номер задания	37
Тип	6
Вес	1

Верны ли данные утверждения? А) Обитаемая часть суши составляет 7%. В) Равнины и низменности заселены более плотно, по сравнению с другими территориями на Земле. Подберите правильный ответ.	
+	А – да, В – да
	А – да, В – нет
	А – нет, В – да
	А – нет, В – нет

Задание

Порядковый номер задания	38
Тип	3
Вес	1

[1] % мирового населения проживает в Северном полушарии. Средняя плотность населения Земли – [2] чел./км ² . Около 4/5 мирового населения проживают на равнинах, на долю которых приходится [3] % обитаемой суши. Пустыни, высокогорья, северные территории, составляющие [4] % обитаемой территории, не заселены. Установите соответствие:	
1	86
2	37
3	28
4	15

Задание

Порядковый номер задания	39
Тип	5
Вес	1

Расположите страны в порядке увеличения плотности населения:
--

Монголия
Россия
Беларусь
Украина
Сингапур
Монако

Задание

Порядковый номер задания	40
Тип	2
Вес	1

Страны с низкой плотностью населения:	
+	Гренландия
+	Фолклендские острова
+	Австралия
	Китай
	Индия
	Монако

Задание

Порядковый номер задания	41
Тип	1
Вес	1

_____ — это мигранты, ежедневно пересекающие границу, чтобы работать в соседнем государстве.	
+	Фронтайлеры
	Кули
	Хуанцяо
	Эмигранты
	Иммигранты

Задание

Порядковый номер задания	42
Тип	6
Вес	1

Верны ли данные утверждения? А) Немецкая этническая общность в США – наиболее многочисленная и составляет 65,5 млн.чел. В) Численность потомков итальянских иммигрантов начала XX в.в Бразилии превышает таковых в Аргентине. Подберите правильный ответ.	
+	А – да, В – да
	А – да, В – нет
	А – нет, В – да
	А – нет, В – нет

Задание

Порядковый номер задания	43
Тип	1
Вес	1

С 1970-х гг. набрал обороты миграционный поток в	
+	страны Персидского залива
	страны Латинской Америки
	США
	Германию

Задание

Порядковый номер задания	44
Тип	2
Вес	1

Страны, лидирующие по численности иммигрантов:	
+	США
+	Россия
+	Канада
	Индия
	Мексика
	Турция

Задание

Порядковый номер задания	45
Тип	1
Вес	1

Самый маленький город России – это	
+	Магас
	Мышкин
	Приморск
	Солнечногорск

Задание

Порядковый номер задания	46
Тип	1
Вес	1

_____ — это процесс миграции жителей центральной части города на его окраину или в пригород.	
+	Субурбанизация
	Урбанизация
	Ложная урбанизация
	Рурбанизация

Задание

Порядковый номер задания	47
Тип	2
Вес	1

Среднеурбанизированные страны:	
+	Греция
+	Швейцария
	Швеция
	Аргентина
	Шри-Ланка

Задание

Порядковый номер задания	48
Тип	1
Вес	1

Доля городского населения в стране 67%, значит страна	
+	среднеурбанизированная
	высокоурбанизированная
	слабоурбанизированная
	неурбанизированная

Задание

Порядковый номер задания	49
Тип	5
Вес	1

Расположите города в порядке уменьшения численности населения:
Чунцин
Шанхай
Дели
Сеул

Раздел 5.

Понятие и этапы становления мирового хозяйства

Тип	Группа
Вес	12

Задание

Порядковый номер задания	1
Тип	1
Вес	1

Первые элементы мирового хозяйства появились в эпоху	
+	Античности
	Великих географических открытий
	Реформации
	Первой мировой войны

Задание

Порядковый номер задания	2
Тип	1
Вес	1

Международная торговля стало бурно развиваться, создавая предпосылки к формированию мирового рынка, в эпоху	
+	Великих географических открытий
	между Первой и Второй мировыми войнами
	промышленной революции в Англии
	Великой французской революции

Задание

Порядковый номер задания	3
Тип	1
Вес	1

Наука, изучающая общие закономерности ведения экономической деятельности в мире в целом – это	
+	Мировая экономика
	Мировое хозяйство
	Геополитика
	Транснациональная экономика

Задание

Порядковый номер задания	4
Тип	6
Вес	1

Верны ли данные утверждения?	
А. Мировое хозяйство – исторически сложившаяся совокупность национальных хозяйств стран мира, связанных между собой всемирными экономическими отношениями.	
Б. Мировая экономика исследует экономику на уровне мира в целом.	
	А – да, В – да
+	А – да, В – нет
	А – нет, В – да
	А – нет, В – нет

Задание

Порядковый номер задания	5
Тип	5
Вес	1

Расположите этапы становления мирового хозяйства в хронологическом порядке:	
	Присваивающее хозяйство
	Аграрное хозяйство
	Индустриальное хозяйство
	Постиндустриальное хозяйство

Задание

Порядковый номер задания	6
Тип	3
Вес	1

Установите соответствие исторических периодов и типов хозяйства:	
Присваивающее хозяйство	Мезолит
Аграрное хозяйство	Неолит
Индустриальное хозяйство	1897 г.
Постиндустриальное хозяйство	1980 г.

Задание

Порядковый номер задания	7
Тип	1
Вес	1

«Юность» мировой экономики – это _____ хозяйство.	
+	аграрное
	присваивающее
	индустриальное
	постиндустриальное

Задание

Порядковый номер задания	8
Тип	2
Вес	1

Основные виды хозяйственной деятельности на стадии «детства» мировой экономики:	
+	охота
+	рыболовство
+	собираительство
	земледелие
	скотоводство

Задание

Порядковый номер задания	9
Тип	6
Вес	1

Верны ли данные утверждения? А) Присваивающее хозяйство охватывает период с 10 до 5 тысячелетия до н.э. В) Самый продолжительный период имеет индустриальный тип хозяйства. Подберите правильный ответ.	
	А – да, В – да
	А – да, В – нет
	А – нет, В – да
+	А – нет, В – нет

Задание

Порядковый номер задания	10
Тип	2
Вес	1

Типы хозяйства, главная цель человека в которых – это обеспечение себя продуктами питания:	
+	присваивающее хозяйство
+	аграрное хозяйство
	индустриальное хозяйство
	постиндустриальное хозяйство

Задание

Порядковый номер задания	11
Тип	1
Вес	1

Имущественное неравенство возникло в типе хозяйства:	
+	Аграрное хозяйство
	Индустриальное хозяйство
	Постиндустриальное хозяйство
	Присваивающее хозяйство

Задание

Порядковый номер задания	12
Тип	6
Вес	1

Верны ли данные утверждения? А) Колонии поставляли ресурсы в метрополии. В) Колонии были политически независимыми, но экономически зависимыми от метрополий. Подберите правильный ответ.	
	А – да, В – да
+	А – да, В – нет
	А – нет, В – да
	А – нет, В – нет

Задание

Порядковый номер задания	13
Тип	1
Вес	1

Постиндустриальное общество начало формироваться в:

+	1970-е гг.
	1980-е гг.
	1990-е гг.
	2000-е гг.

Мировое хозяйство в эпоху научно-технического прогресса

Тип	Группа
Вес	12

Задание

Порядковый номер задания	14
Тип	2
Вес	1

Черты современной НТР:	
+	всеохватность
+	чрезвычайное ускорение научно-технических преобразований
	военно-техническая стагнация
	снижение требований к квалификации трудовых ресурсов

Задание

Порядковый номер задания	15
Тип	6
Вес	1

Верны ли данные утверждения? А) Скорость внедрения научных открытий в производство увеличивается. В) Доля умственного труда, по сравнению с физическим, увеличивается. Подберите правильный ответ.	
+	А – да, В – да
	А – да, В – нет
	А – нет, В – да
	А – нет, В – нет

Задание

Порядковый номер задания	16
Тип	4
Вес	1

Взрыв атомной бомбы в Хиросиме произошел в ____ году.
1945

Задание

Порядковый номер задания	17
Тип	4
Вес	1

_____ - это уровень (долей) затрат на научные исследования и разработки в общих затратах на производство той или иной продукции.
Научоемкость

Задание

Порядковый номер задания	18
Тип	1
Вес	1

функция - это исторически первая функция техники и технологии.	
+	Трудосберегающая
	Ресурсосберегающая
	Природоохранительная
	Информационная

Задание

Порядковый номер задания	19
Тип	6
Вес	1

Верны ли данные утверждения?	
А) Революционный путь НТР – это дальнейшее совершенствование уже известной техники и технологии, увеличение мощности (производительности) машин и оборудования, рост грузоподъемности транспортных средств.	
В) Переход к принципиально новой технике и технологии – эволюционный путь НТР.	
Подберите правильный ответ.	
	А – да, В – да
	А – да, В – нет
	А – нет, В – да
+	А – нет, В – нет

Задание

Порядковый номер задания	20
Тип	2
Вес	1

Направления производства в эпоху НТР:	
+	электронизация
+	энергопотребление
+	производство новых материалов
	дискретная автоматизация

Задание

Порядковый номер задания	21
Тип	1
Вес	1

Страна, лидирующая по оснащенности производства роботами:	
+	Япония
	США
	Россия
	Германия

Задание

Порядковый номер задания	22
Тип	1
Вес	1

Совокупности промышленных методов, использующих живые организмы и биологические процессы для производства различных продуктов, -	
+	биотехнологии
	нанотехнологии
	биология
	биохимические технологии

Задание

Порядковый номер задания	23
Тип	1
Вес	1

Известие о Крымской войне 1854 г. дошло до Австралии за _____ дней.	
+	114
	80
	276
	39

Задание

Порядковый номер задания	24
Тип	6
Вес	1

Верны ли данные утверждения? А) Число пользователей соцсетей превышает число пользователей Интернет на 0,5 млрд. чел. В) 60% населения в мире имеют доступ к Интернету. Подберите правильный ответ.	
	А – да, В – да
	А – да, В – нет
+	А – нет, В – да
	А – нет, В – нет

Задание

Порядковый номер задания	25
Тип	1
Вес	1

Система или способ организации взаимозависимого производства, при котором предприятия разных стран специализируются на производстве определенных видов товаров и услуг, а затем обмениваются ими:	
+	Разделение труда
	Специализация труда
	Кооперирование труда
	Интеграция
	Глобализация

Задание

Порядковый номер задания	26
Тип	3
Вес	1

Установите соответствие:	
Международное кооперирование	установление устойчивых взаимосвязей между отдельными предприятиями разных стран мира, участвующими в производстве какого-либо товара или услуги
Международный аутсорсинг	передача некоторых этапов в производстве продукта или услуги чужим компаниям в другой стране
Международный офшоринг	осуществление производства некоторых этапов в производстве продукта или услуги в представительствах своей компании, но расположенных в других странах
Международная экономическая интеграция	объективный процесс развития особенно глубоких и устойчивых взаимосвязей отдельных групп стран, основанный на проведении ими согласованной межгосударственной политики

Задание

Порядковый номер задания	27
Тип	6
Вес	1

Верны ли данные утверждения? А. «Манаус» - свободная экономическая зона в Бразилии. Б. Первая СЭЗ в Индии появилась в 1965 г. Подберите правильный ответ.	
+	А – да, В – да
	А – да, В – нет
	А – нет, В – да
	А – нет, В – нет

Задание

Порядковый номер задания	28
Тип	1
Вес	1

В 2019 г. _____ % свободных экономических зон мира было сосредоточено в развивающихся странах.	
+	89
	47
	25
	63

Задание

Порядковый номер задания	29
Тип	4
Вес	1

В наличное обращение евро было введено в _____ году. 2002	
--	--

Задание

Порядковый номер задания	30
Тип	3
Вес	1

Установите соответствие страну и год ее вступления в Евросоюз:	
Франция	1957
Дания	1973
Испания	1986
Австрия	1995
Чехия	2004

Задание

Порядковый номер задания	31
Тип	3
Вес	1

Установите соответствие региона и региональной экономической организации:	
Юго-Восточная Азия	АСЕАН
Азия и Тихий океан	АТЭС
Северная Америка	НАФТА
Латинская Америка	ЛАИ

Задание

Порядковый номер задания	32
Тип	4
Вес	1

Отраслевая экономическая группировка стран-экспортеров нефти:
ОПЕК

Задание

Порядковый номер задания	33
Тип	2
Вес	1

Члены АТЭС:	
+	Бруней
+	Таиланд
	Уругвай
	Лаос

Задание

Порядковый номер задания	34
Тип	1
Вес	1

Государство, входящее в АТЭС и ЛАИ	
+	Перу
	Россия
	Таиланд
	Бразилия

Задание

Порядковый номер задания	35
Тип	2
Вес	1

Технологические ТНК США:	
+	INTEL CORP
+	ADOBE INC
	SAMSUNG ELECTRONICS
	WALMART INC

Задание

Порядковый номер задания	36
Тип	2
Вес	1

Страны с аграрной структурой экономики:	
+	Афганистан
+	Лаос
	Индия
	Саудовская Аравия

Задание

Порядковый номер задания	37
Тип	2
Вес	1

Страны с постиндустриальной структурой хозяйства:	
+	Австралия
+	Канада
+	Япония
	Индия

Задание

Порядковый номер задания	38
Тип	6
Вес	1

Верны ли данные утверждения? А) В двухчленной модели мирового хозяйства развитым является Юг. В) В трехчленной модели мирового хозяйства Периферия включает в себя 25-30 стран. Подберите правильный ответ.	
	А – да, В – да
	А – да, В – нет
	А – нет, В – да
+	А – нет, В – нет

Задание

Порядковый номер задания	39
Тип	5
Вес	1

Расположите регионы в порядке уменьшения ВВП в 2019 г.:	
	Северная Америка
	Зарубежная Европа
	Китай
	Япония
	СНГ
	Индия

Задание

Порядковый номер задания	40
Тип	4
Вес	1

Старопромышленный район, достигший в прошлом достаточно высокого уровня развития, но в эпоху НТР в силу преобладания старых производств, потерявший многие стимулы экономического развития, - _____ район. депрессивный	
--	--

Современные проблемы и тенденции развития глобальной экономики

Тип	Группа
Вес	12

Задание

Порядковый номер задания	41
Тип	1
Вес	1

Наиболее масштабный вид взаимодействия стран
--

+	международная торговля
	производственные связи
	финансовые связи
	миграционные потоки

Задание

Порядковый номер задания	42
Тип	1
Вес	1

Проблемы народонаселения, образования, культуры, здравоохранения - это	
+	антропосоциальные проблемы
	общественно-политические проблемы
	природно-ресурсные проблемы
	смешанные проблемы

Задание

Порядковый номер задания	43
Тип	6
Вес	1

Верны ли данные утверждения? А) В настоящее время производство продовольствия составляет всего лишь 80% от потребностей в нем. В) Наиболее остро проблема нехватки продовольствия и недоедания населения стоит в Бангладеш, Гаити, Непале, Сальвадоре, в странах Тропической Африки. Подберите правильный ответ.	
	А – да, В – да
	А – да, В – нет
+	А – нет, В – да
	А – нет, В – нет

Задание

Порядковый номер задания	44
Тип	1
Вес	1

В начале XXI в. доходы 20% самого богатого населения отличаются от 20% самого бедного населения в	
+	82 раза
	30 раз
	47 раз
	65 раз

Задание

Порядковый номер задания	45
Тип	6
Вес	1

Верны ли данные утверждения? А) Лавинообразный рост мирового финансового рынка обостряет глобальные финансовые риски. В) Объем нелегальной торговли составляет более 8% мирового товарооборота. Подберите правильный ответ.	
+	А – да, В – да
	А – да, В – нет
	А – нет, В – да
	А – нет, В – нет

Задание

Порядковый номер задания	46
Тип	2
Вес	1

Изменения в финансовой сфере, породившие неустойчивость и масштабные противоречия финансовой системы:	
+	Сочетание технической легкости быстро выросших в объемах и высокодоходных сделок с виртуальными деньгами и слабость национальных систем контроля
+	Утрата денежной монополии национальных государств
	Недостаточное распространение деривативов
	Связь денег с материальной основой

Задание

Порядковый номер задания	47
Тип	6
Вес	1

Верны ли данные утверждения? А) На современном этапе развития банки предпочитают инвестиции в реальный сектор деривативам. В) Кризис 2008 г. – кризис перепроизводства. Подберите правильный ответ.	
	А – да, В – да
	А – да, В – нет
+	А – нет, В – да
	А – нет, В – нет

Задание

Порядковый номер задания	48
Тип	2
Вес	1

Страны, размер международного долга которых превышает 400% ВВП:	
+	США
+	Япония
	Западная Европа
	Россия

Задание

Порядковый номер задания	49
Тип	2
Вес	1

Черты старой модели глобального развития мировой экономики:	
+	поддерживаемый ростом кредитов и долгов совокупный спрос
+	кредитные механизмы поддержания высокого уровня жизни
	валютная система, построенная на доверии к евро
	стабильный уровень занятости в развитых странах как следствие относительно дорогого труда

Задание

Порядковый номер задания	50
Тип	2
Вес	1

В 1945 г. созданы международные экономические организации:	
+	ООН
+	МВФ

	ВТО
	АТЭС

Раздел 6.

География отраслей первичной сферы мирового хозяйства

Тип	Группа
Вес	12

Задание

Порядковый номер задания	1
Тип	2
Вес	1

Отрасли первичной сферы мирового хозяйства:	
+	сельское хозяйство
+	рыболовство
+	добывающая промышленность
	нефтехимическая промышленность
	трубопроводный транспорт

Задание

Порядковый номер задания	2
Тип	2
Вес	1

Особенности сельского хозяйства:	
+	большая длительность производственного процесса
+	зависимость от природных условий
+	повышенные риски воздействия экономических кризисов
	высокая материалоемкость
	низкая трудоемкость

Задание

Порядковый номер задания	3
Тип	6
Вес	1

Верны ли данные утверждения? А) Сельское хозяйство не нуждается в государственной поддержке. В) У сельскохозяйственной продукции низкая добавленная стоимость. Подберите правильный ответ.	
	А – да, В – да
	А – да, В – нет
+	А – нет, В – да
	А – нет, В – нет

Задание

Порядковый номер задания	4
Тип	1
Вес	1

Хозяйство, включающее как интенсивное земледелие с плодосменными севооборотами, интенсивное животноводство с заготовкой кормов, садоводство и огородничество, так и экстенсивное земледелие	
---	--

парового и залежного типа, пастбищное животноводство, — это _____ сельское хозяйство.	
+	товарное
	потребительское
	сырьевое
	традиционное

Задание

Порядковый номер задания	5
Тип	5
Вес	1

Расположите страны в порядке увеличения количества вносимых удобрений на 1 га пашни:	
	ФРГ
	Япония
	Нидерланды
	Новая Зеландия

Задание

Порядковый номер задания	6
Тип	4
Вес	1

_____ — это сочетание производства сельскохозяйственной продукции с ее переработкой, хранением, перевозкой и сбытом, а также с выпуском техники, удобрений и др.	
Агробизнес	

Задание

Порядковый номер задания	7
Тип	6
Вес	1

Верны ли данные утверждения?	
А) «Зеленая революция» включает выведение новых скороспелых сортов культур, расширение ирригации и широкое применение современной техники.	
В) Родоначальник «зеленой революции» - Китай.	
Подберите правильный ответ.	
	А – да, В – да
+	А – да, В – нет
	А – нет, В – да
	А – нет, В – нет

Задание

Порядковый номер задания	8
Тип	2
Вес	1

Основные зерновые культуры:	
+	Пшеница
+	Рис
+	Кукуруза
	Рожь
	Ячмень
	Овес

Задание

Порядковый номер задания	9
--------------------------	---

Тип	1
Вес	1

Главный пшеничный пояс находится в	
+	Северном полушарии
	Южном полушарии
	Восточном полушарии
	Западном полушарии

Задание

Порядковый номер задания	10
Тип	1
Вес	1

Главный регион производства риса – это	
+	Азия
	Европа
	Южная Америка
	Северная Америка
	Африка

Задание

Порядковый номер задания	11
Тип	1
Вес	1

Родина кукурузы – это	
+	Мексика
	Перу
	Бразилия
	США

Задание

Порядковый номер задания	12
Тип	3
Вес	1

Родина чая – [1]. Родина кофе – [2], но в наши дни 2/3 его сбора дает [3]. Основные производители хлопчатника – [1] и [4]	
Установите соответствие:	
1	Китай
2	Африка
3	Латинская Америка
4	США

Задание

Порядковый номер задания	13
Тип	3
Вес	1

Установите соответствие сельскохозяйственных культур и центров их происхождения:	
Средиземноморский	овес, маслина, капуста, морковь, лаванда
Среднеазиатский	горох, чечевица, чеснок, абрикос, виноград
Китайский	гречиха, соя, горчица, слива, хурма
Эфиопский	сорго, клещевина, кофе, сорго, мягкая пшеница

Задание

Порядковый номер задания	14
Тип	2
Вес	1

Сельскохозяйственные культуры, произошедшие из Южной Америки:	
+	картофель
+	арахис
+	ананас
+	клубника
	кукуруза
	тыква

Задание

Порядковый номер задания	15
Тип	5
Вес	1

Расположите страны в порядке уменьшения поголовья крупного рогатого скота:	
	Индия
	Бразилия
	Китай
	США
	Аргентина

Задание

Порядковый номер задания	16
Тип	1
Вес	1

Лидер в свиноводстве – это	
+	Китай
	Россия
	США
	Германия

Задание

Порядковый номер задания	17
Тип	6
Вес	1

Верны ли данные утверждения? А) Доля деловой древесины в развитых странах превышает 90%, а в развивающихся – не превышает 40%. В) Среди европейских стран по лесозаготовке лидируют Швеция, Финляндия, Норвегия, Германия и Франция. Подберите правильный ответ.	
+	А – да, В – да
	А – да, В – нет
	А – нет, В – да
	А – нет, В – нет

Задание

Порядковый номер задания	18
Тип	1
Вес	1

Океан, в котором вылавливают больше всего рыбы – это _____ океан.	
+	Тихий
	Атлантический
	Индийский
	Северный ледовитый

Задание

Порядковый номер задания	19
Тип	2
Вес	1

Страны-лидеры по вылову рыбы в 1950-х гг., но потерявшие эти позиции в XXI в.:	
+	Великобритания
+	Канада
+	ФРГ
	Индия
	Китай
	Норвегия

Задание

Порядковый номер задания	20
Тип	5
Вес	1

Расположите страны в порядке уменьшения вылова рыбы на душу населения:	
	Исландия
	Гренландия
	Норвегия
	Чили
	Россия

Задание

Порядковый номер задания	21
Тип	1
Вес	1

Укажите неверное утверждение.	
+	С 1960-х гг., когда возник устойчивый спрос на природный газ, по его добыче лидирует Россия (СССР)
	В общем объеме добываемого угля: каменный уголь составляет 87%, бурый – 13%
	Наибольшее количество железных руд добывают: Китай, Австралия, Бразилия, Индия, Россия и Украина
	Свыше 85% мировой добычи бериллиевых руд обеспечивают США

Задание

Порядковый номер задания	22
Тип	5
Вес	1

Расположите руды в порядке снижения объемов их добычи:	
	Медные руды
	Цинковые руды
	Свинцовые руды
	Никелевые руды
	Оловянные руды

Задание

Порядковый номер задания	23
Тип	3
Вес	1

Установите соответствие стран и добываемых в них драгоценных и полудрагоценных камней:	
Бирюза	Индия
Лазурит	Афганистан
Топаз	Бразилия
Изумруд	Колумбия

География отраслей вторичной сферы мирового хозяйства

Тип	Группа
Вес	12

Задание

Порядковый номер задания	24
Тип	6
Вес	1

Верны ли данные утверждения? А) Максимальное число залежей нефти располагается на глубине 1-3 км. В) Средняя себестоимость добычи нефти составляет 7 долларов за баррель. Подберите правильный ответ.	
+	А – да, В – да
	А – да, В – нет
	А – нет, В – да
	А – нет, В – нет

Задание

Порядковый номер задания	25
Тип	2
Вес	1

Основные импортеры нефти в Европе:	
+	Франция
+	Германия
+	Италия
	Великобритания
	Норвегия

Задание

Порядковый номер задания	26
Тип	2
Вес	1

Страны-импортеры угля:	
+	Япония
+	Италия
+	Франция
	Китай
	Индия
	Казахстан

Задание

Порядковый номер задания	27
--------------------------	----

Тип	3
Вес	1

Установите соответствие:	
Атомная электростанция	электростанция, в которой ядерная энергия преобразуется в электрическую
Гидроэлектростанция	электростанция, в качестве источника энергии использующая энергию водного потока
Тепловая электростанция	электростанция, вырабатывающая электрическую энергию в результате преобразования энергии, выделяющейся при сжигании органического топлива
Электроэнергетика	отрасль энергетики, включающая в себя производство, передачу и сбыт электроэнергии

Задание

Порядковый номер задания	28
Тип	1
Вес	1

Первая ТЭС появилась в России в	
+	Санкт-Петербурге в 1883 г.
	Москве в 1882 г.
	Кенигсберге в 1884 г.
	Нижнем Новгороде в 1897 г.

Задание

Порядковый номер задания	29
Тип	2
Вес	1

Факторы расположения ГЭС:	
+	большие уклоны реки
+	каньонообразные виды рельефа
+	гарантированная обеспеченность водой круглый год
	районы высокой сейсмичности

Задание

Порядковый номер задания	30
Тип	5
Вес	1

Расположите страны в порядке уменьшения производства ядерной электроэнергии:	
	США
	Франция
	Япония
	Россия
	Корея

Задание

Порядковый номер задания	31
Тип	2
Вес	1

Черная металлургия:	
+	тяготеет к грузопотокам сырья
+	использует легирующие металлы
	в качестве основного сырья использует железную руду, лидером по добыче которой является

	Германия
	трудоемкая

Задание

Порядковый номер задания	32
Тип	3
Вес	1

Установите соответствие цветных металлов:	
Тяжелые металлы	медь, цинк, олово, никель
Легкие металлы	алюминий, магний, титан
Тугоплавкие металлы	вольфрам, молибден
Редкие металлы	уран, ванадий

Задание

Порядковый номер задания	33
Тип	2
Вес	1

Лидирующие европейские машиностроительные страны:	
+	Германия
+	Италия
+	Франция
+	Великобритания
	Россия
	Польша
	Испания
	Чехия

Задание

Порядковый номер задания	34
Тип	2
Вес	1

Центры автомобилестроения в Германии:	
+	Кёльн
+	Штутгарт
+	Вольфсбург
	Торонто
	Кобе
	Детройт

Задание

Порядковый номер задания	35
Тип	1
Вес	1

Центр судостроения в Польше – это	
+	Гданьск
	Пусан
	Гамбург
	Тулон

Задание

Порядковый номер задания	36
Тип	3
Вес	1

Установите соответствие центров авиастроения в мире:	
Франция	Тулуза
США	Сиэтл
Германия	Гамбург
Канада	Монреаль

Задание

Порядковый номер задания	37
Тип	3
Вес	1

Установите соответствие подотраслей химической промышленности:	
Горно-химическая промышленность	занимается добычей, обогащением и первичной обработкой горно-химического сырья
Основная химия	занимается производством минеральных удобрений, кислот и солей
Химия органического синтеза	занимается производством пластмасс, химических волокон, синтетического каучука, красителей
Тонкая химия	занимается производством бытовой химии, парфюмерно-косметических продуктов, лекарств

Задание

Порядковый номер задания	38
Тип	2
Вес	1

Особенности развития легкой промышленности:	
+	перенос производства дешёвой продукции массового потребления (одежда, обувь) из Европы и США в страны с дешёвой и малоквалифицированной рабочей силой
+	замена натурального сырья синтетическим
+	переориентирование лёгкой промышленности Западной Европы и США на изготовление уникальных и дорогих изделий
	увеличение производства тканей и кожи при снижении производства одежды и обуви

Задание

Порядковый номер задания	39
Тип	1
Вес	1

Лидер по экспорту текстильной продукции – это	
+	Китай
	Индия
	США
	Турция
	Италия

География отраслей третичной сферы мирового хозяйства

Тип	Группа
Вес	12

Задание

Порядковый номер задания	40
Тип	1
Вес	1

Скорость, развитая поездом на магнитной подвеске в 1999 г. в Японии

+	552 км/ч
	478 км/ч
	614 км/ч
	347 км/ч

Задание

Порядковый номер задания	41
Тип	1
Вес	1

Сверхзвуковой пассажирский лайнер, совершивший в 1995 г. кругосветный перелет за 31,5 часа – это	
+	«Конкорд»
	«Титаник»
	«Катюша»
	«Баргузин»

Задание

Порядковый номер задания	42
Тип	1
Вес	1

В Индии и Бразилии преобладает:	
+	Железнодорожный транспорт
	Речной транспорт
	Трубопроводный транспорт
	Воздушный транспорт

Задание

Порядковый номер задания	43
Тип	1
Вес	1

«Железный Шелковый путь» соединяет Китай с	
+	Турцией
	Россией
	Европой
	США

Задание

Порядковый номер задания	44
Тип	2
Вес	1

Лидеры в морских перевозках:	
+	Панама
+	Либерия
	Турция
	Египет

Задание

Порядковый номер задания	45
Тип	1
Вес	1

Канал, который был блокирован в 2021 г. севшим на мель контейнеровозом	
+	Суэцкий
	Панамский

	Гибралтарский
	Малаккский

Задание

Порядковый номер задания	46
Тип	5
Вес	1

Расположите аэропорты в порядке уменьшения в них пассажиропотока:	
Атланта («Хартсфилд и Хартсфилд-Джексон»)	
Чикаго («О`Хара»)	
Лондон («Хитроу»)	
Париж («Шарль де Голль»)	

Задание

Порядковый номер задания	47
Тип	1
Вес	1

Объем мировой торговли в начале 2020-х гг.	
+	13 трлн долл.
	125 млрд долл
	9 трлн долл
	350 млрд долл

Задание

Порядковый номер задания	48
Тип	6
Вес	1

Верны ли данные утверждения? А) Доля машин и оборудования за полвека в мировой торговле выросла на 20%. В) Доля топлива в мировой торговле за полвека снизилась. Подберите правильный ответ.	
+	А – да, В – да
	А – да, В – нет
	А – нет, В – да
	А – нет, В – нет

Задание

Порядковый номер задания	49
Тип	4
Вес	1

За год страна ввезла товаров на 600 млрд.\$, вывезла – на 720 млрд.\$. Торговый баланс - _____ млрд.\$.
120

Раздел 7.

Общая характеристика Зарубежной Европы

Тип	Группа
Вес	12

Задание

Порядковый номер задания	1
Тип	4
Вес	1

Протяженность территории Зарубежной Европы с севера на юг - ____ тыс.км. (В ответе укажите число цифрами)
5

Задание

Порядковый номер задания	2
Тип	4
Вес	1

Протяженность территории Зарубежной Европы с запада на восток - ____ тыс.км. (В ответе укажите число цифрами)
3

Задание

Порядковый номер задания	3
Тип	1
Вес	1

Самая длинная страна Зарубежной Европы – это	
+	Норвегия
	Франция
	ФРГ
	Венгрия

Задание

Порядковый номер задания	4
Тип	1
Вес	1

_____ — это самое большое из микросоударств.	
+	Андорра
	Лихтенштейн
	Сан-Марино
	Монако
	Ватикан

Задание

Порядковый номер задания	5
Тип	6
Вес	1

Верны ли данные утверждения? А) Границы между странами Западной Европы проходят по природным рубежам, создающим значительные препятствия для транспортных связей. В) Населенные пункты в странах Европы удалены от границ не более, чем на 100 км. Подберите правильный ответ.	
	А – да, В – да
	А – да, В – нет
	А – нет, В – да
+	А – нет, В – нет

Задание

Порядковый номер задания	6
Тип	1
Вес	1

_____ - это консультативная политическая организация, созданная в 1949 г. для содействия интеграционным процессам в области прав человека, основных свобод и парламентской демократии.

+	Совет Европы
	ОБСЕ
	НАТО
	ВТО

Задание

Порядковый номер задания	7
Тип	6
Вес	1

Верны ли данные утверждения?
А) Северная часть Европы – платформенная.
В) Южная часть Европы – складчатая.
Подберите правильный ответ.

+	А – да, В – да
	А – да, В – нет
	А – нет, В – да
	А – нет, В – нет

Задание

Порядковый номер задания	8
Тип	1
Вес	1

В северной части Зарубежной Европы распространены полезные ископаемые

+	рудные и топливные
	рудные
	топливные
	нерудные
	рудные и нерудные
	нерудные и топливные

Задание

Порядковый номер задания	9
Тип	1
Вес	1

Система пользователей распространена в

+	Нидерландах
	Франции
	Германии
	Швейцарии

Задание

Порядковый номер задания	10
Тип	1
Вес	1

Противоречия между фламандцами и валлонами существуют в

+	Бельгии
---	---------

	Венгрии
	Испании
	Румынии

Задание

Порядковый номер задания	11
Тип	4
Вес	1

Город-государство в Европе с населением около 1 тыс.чел., основная функция которого – религиозная: Ватикан

Задание

Порядковый номер задания	12
Тип	2
Вес	1

Крупные городские агломерации в Европе:
+ Лондонская
+ Парижская
+ Нижнерейнско-Рурская
Варшавская

Задание

Порядковый номер задания	13
Тип	1
Вес	1

Экономический лидер в Зарубежной Европе
+ ФРГ
Великобритания
Франция
Италия

Задание

Порядковый номер задания	14
Тип	3
Вес	1

Установите соответствие стран и марок автомобилей:	
Рено	Франция
Фольксваген	ФРГ
Фиат	Италия
Вольво	Швеция

Задание

Порядковый номер задания	15
Тип	1
Вес	1

Страна Зарубежной Европы с самой мощной химической промышленностью
+ ФРГ
Франция
Швейцария
Бельгия

Задание

Порядковый номер задания	16
Тип	1
Вес	1

Ущелье Железные ворота, в котором построен гидроузел, расположено на реке	
+	Дунай
	Днепр
	Эльба
	Одра

Задание

Порядковый номер задания	17
Тип	2
Вес	1

Ведущую роль ГЭС играют в странах:	
+	Норвегия
+	Швеция
+	Швейцария
	Исландия
	Франция
	Германия

Задание

Порядковый номер задания	18
Тип	1
Вес	1

Фабрика Koh-i-Noor – это _____ фабрика.	
+	Чешская
	Австрийская
	Французская
	Немецкая

Общая характеристика Зарубежной Азии

Тип	Группа
Вес	12

Задание

Порядковый номер задания	19
Тип	5
Вес	1

Расположите страны Западной Азии в порядке уменьшения максимальной протяженности от одной границы до другой (с севера на юг или с запада на восток):	
	Индонезия
	Япония
	Филиппины
	Турция

Задание

Порядковый номер задания	20
Тип	2
Вес	1

Экономико-географическое положение стран Западной Азии:	
+	границы большинства стран проходят по хорошо выраженным природным рубежам и создают серьезные препятствия для связей
+	приморское положение большинства стран создает предпосылки для развития
+	Монголия – самое большое государство, не имеющее выхода к морю
	в Азии отсутствуют территориальные споры

Задание

Порядковый номер задания	21
Тип	2
Вес	1

Особенности Западной Азии:	
+	Необходимость рационального использования агроклиматических ресурсов
+	На значительной части территории региона природные условия не позволяют людям заниматься сельским и лесным хозяйством
	Естественная убыль населения
	Избыток земельных ресурсов

Задание

Порядковый номер задания	22
Тип	1
Вес	1

Большинство стран Зарубежной Азии находится на _____ этапе демографического перехода.	
+	II
	I
	III
	IV

Задание

Порядковый номер задания	23
Тип	3
Вес	1

Установите соответствие субрегионов Западной Азии и демографической ситуации:	
Восточная Азия	демографическая политика привела к значительному снижению рождаемости и естественного прироста населения
Юго-Восточная Азия	темпы естественного прироста населения начали постепенно уменьшаться
Южная Азия	снижение темпов естественного прироста населения есть, но медленное, по сравнению с другими субрегионами
Юго-Западная Азия	эпицентр демографического взрыва

Задание

Порядковый номер задания	24
Тип	5
Вес	1

Расположите страны в порядке уменьшения количества народностей, проживающих в них:	
	Индия
	Филиппины
	Китай
	Таиланд

Задание

Порядковый номер задания	25
Тип	4
Вес	1

_____ - это политика, направленная на отделение, обособление и ставящая главной целью создание собственного национального или религиозного государственного образования.
Сепаратизм

Задание

Порядковый номер задания	26
Тип	2
Вес	1

Курды проживают на территории:	
+	Турции
+	Ирана
+	Ирака
+	Сирии
	Курдистана

Задание

Порядковый номер задания	27
Тип	1
Вес	1

Слово «баду», присутствующее в названии одного из народов Азии, означает	
+	пустыня
	кочевник
	праведник
	шатер

Задание

Порядковый номер задания	28
Тип	1
Вес	1

Единственный член G-7 в Азии	
+	Япония
	Китай
	США
	Индия

Задание

Порядковый номер задания	29
Тип	1
Вес	1

Государство, название которого в переводе означает «город льва»	
+	Сингапур
	Гонконг
	Тайвань
	Корея

Задание

Порядковый номер задания	30
--------------------------	----

Тип	4
Вес	1

_____ выращивается не только на затопляемых полях, но и в ладонях крестьян.
Рис

Задание

Порядковый номер задания	31
Тип	1
Вес	1

Страна экстенсивного животноводства в Азии	
+	Монголия
	Китай
	Афганистан
	КНДР

Субрегионы и страны Зарубежной Европы и Зарубежной Азии

Тип	Группа
Вес	12

Задание

Порядковый номер задания	32
Тип	3
Вес	1

Установите соответствие районов Зарубежной Европы:	
Высокоразвитые районы	Большой Лондон, Большой Париж
Старопромышленные районы	Эльзас, Йоркшир, Саар
Отсталые аграрные районы	Запад Франции, Юг Италии
Районы нового освоения	Тролль, Статфьорд

Задание

Порядковый номер задания	33
Тип	2
Вес	1

Страны Западной Европы:	
+	Австрия
+	Швейцария
	Дания
	Болгария

Задание

Порядковый номер задания	34
Тип	3
Вес	1

Установите соответствие стран и субрегионов Европы:	
Северная Европа	Норвегия
Западная Европа	Австрия
Восточная Европа	Словакия
Южная Европа	Италия

Задание

Порядковый номер задания	35
--------------------------	----

Тип	3
Вес	1

ФРГ и ГДР были образованы в [1] г. [4] был объявлен столицей ФРГ в [2] г. В [3] г. [5] – один из древних городов Германии – отметил свое 2000-летие.

Установите соответствие:

1	1949
2	1991
3	1989
4	Берлин
5	Бонн

Задание

Порядковый номер задания	36
Тип	1
Вес	1

ФРГ — это _____ республика.	
+	Парламентская
	Президентская
	Смешанная

Задание

Порядковый номер задания	37
Тип	3
Вес	1

Установите соответствие предприятий ФРГ и отраслей:	
БАСФ	Химическая промышленность
Роберт Бош	Электротехника
Даймлер-Крайслер	Автомобилестроение
Тиссен	Черная металлургия
Адидас	Легкая промышленность

Задание

Порядковый номер задания	38
Тип	2
Вес	1

Топливо-энергетическое хозяйство ФРГ ориентировано на импортные:	
+	нефть
+	газ
	бурый уголь
	каменный уголь

Задание

Порядковый номер задания	39
Тип	2
Вес	1

Охраняемые природные территории ФРГ:	
+	Баварский Лес
+	Франковский Лес
+	Тевтобургский Лес
	Ланды Гаскони
	Карнатака

Задание

Порядковый номер задания	40
Тип	6
Вес	1

Верны ли данные утверждения? А) Территория Гонконга возвращена Великобританией Китаю в 1997 г. В) Аомынь – территория на юге Китая, бывшая португальская колония. Подберите правильный ответ.	
+	А – да, В – да
	А – да, В – нет
	А – нет, В – да
	А – нет, В – нет

Задание

Порядковый номер задания	41
Тип	6
Вес	1

Верны ли данные утверждения? А) Китайцы называют себя ханьцы. В) В китайском языке три основных диалекта. Подберите правильный ответ.	
	А – да, В – да
+	А – да, В – нет
	А – нет, В – да
	А – нет, В – нет

Задание

Порядковый номер задания	42
Тип	2
Вес	1

Административно-территориальные единицы Восточной экономической зоны Китая:	
+	Шаньдун
+	Хайнань
	Шаньси
	Юньнань

Задание

Порядковый номер задания	43
Тип	4
Вес	1

Китай был принят в ВТО в _____ году.
2002

Задание

Порядковый номер задания	44
Тип	1
Вес	1

Современное название древней страны Ниппон – это	
+	Япония
	Вьетнам
	Индонезия
	Малайзия

Задание

Порядковый номер задания	45
Тип	4
Вес	1

Однонациональная страна с двумя основными религиями – буддизмом и синтоизмом, - находящаяся в центре Азиатско-Тихоокеанского региона – это
Япония

Задание

Порядковый номер задания	46
Тип	2
Вес	1

Крупнейшие японские агломерации:	
+	Токио
+	Осака
+	Нагоя
	Хиросима

Задание

Порядковый номер задания	47
Тип	3
Вес	1

[1] добилась независимости от [2] в [3] г., а в [4] г. была провозглашена республикой. Установите соответствие:	
1	Индия
2	Великобритания
3	1947
4	1950
	1951
	Франция
	Китай

Задание

Порядковый номер задания	48
Тип	1
Вес	1

_____ принадлежит первое место в Азии по длине железных дорог, но половина из них имеет узкую колею.	
+	Индия
	Китай
	Индонезия
	Япония

Раздел 8.

США

Тип	Группа
Вес	12

Задание

Порядковый номер задания	1
Тип	5

Вес	1
-----	---

Расположите страны в порядке уменьшения площади:	
Россия	
Канада	
Китай	
США	

Задание

Порядковый номер задания	2
Тип	4
Вес	1

Количество частей в США - ____. (В ответе укажите число цифрами)
3

Задание

Порядковый номер задания	3
Тип	3
Вес	1

Установите соответствие штатов США и их расположения на карте:	
Запад	Калифорния
Восток	Виргиния
Север	Миннесота
Юг	Техас

Задание

Порядковый номер задания	4
Тип	4
Вес	1

Количество штатов в США - ____. (В ответе укажите число цифрами)
50

Задание

Порядковый номер задания	5
Тип	3
Вес	1

Установите соответствие штатов США:	
5	Флорида
6	Нью-Йорк
7	Миннесота
8	Калифорния

Задание

Порядковый номер задания	7
Тип	3
Вес	1

Установите соответствие названий штатов США:	
Дэлавер	«первый штат»
Флорида	«солнечный штат»
Калифорния	«ЗОЛОТОЙ ШТАТ»
Канзас	«штат подсолнуха»

Задание

Порядковый номер задания	8
Тип	1
Вес	1

Ведущая политическая партия США, неофициальный символ которой – осел	
+	Демократическая партия
	Республиканская партия
	Лейбористская партия
	Либеральная партия

Задание

Порядковый номер задания	9
Тип	2
Вес	1

Политические партии США:	
+	Демократическая партия
+	Республиканская партия
	Лейбористская партия
	Либеральная партия

Задание

Порядковый номер задания	10
Тип	5
Вес	1

Расположите страны в порядке увеличения численности населения:	
	Бразилия
	Пакистан
	Индонезия
	США
	Индия
	Китай

Задание

Порядковый номер задания	11
Тип	6

Вес	1
-----	---

Верны ли данные утверждения? А) Брасерос – рабочие, нелегально прибывшие в США из Латинской Америки на заработки. Б) Среди иммигрантов в США европейцы составляют меньшинство. Подберите правильный ответ.	
+	А – да, В – да
	А – да, В – нет
	А – нет, В – да
	А – нет, В – нет

Задание

Порядковый номер задания	12
Тип	2
Вес	1

Штаты, в которых проживает наибольшее число афроамериканцев:	
+	Калифорния
+	Джорджия
+	Техас
	Вашингтон
	Северная Дакота

Задание

Порядковый номер задания	13
Тип	6
Вес	1

Верны ли данные утверждения? А) Натурализация – негативное или предвзятое отношение к человеку, или лишение его определённых прав на основании наличия какого-то признака. В) Дискриминация – политика принудительного отделения какой-либо группы населения по расовому или этническому признаку. Подберите правильный ответ.	
	А – да, В – да
	А – да, В – нет
	А – нет, В – да
+	А – нет, В – нет

Задание

Порядковый номер задания	14
Тип	5
Вес	1

Расположите штаты США в порядке снижения плотности населения:	
	Калифорния
	Южная Каролина
	Техас
	Небраска
	Монтана

Задание

Порядковый номер задания	15
Тип	6
Вес	1

Верны ли данные утверждения?	
------------------------------	--

А) Деловой район американского города – даунтаун.	
В) Североамериканский тип города имеет круговую планировку.	
Подберите правильный ответ.	
	А – да, В – да
+	А – да, В – нет
	А – нет, В – да
	А – нет, В – нет

Задание

Порядковый номер задания	16
Тип	2
Вес	1

Американские города-миллионеры:	
+	Нью-Йорк
+	Лос-Анджелес
+	Чикаго
	Вашингтон

Задание

Порядковый номер задания	17
Тип	2
Вес	1

Мегаполисы США:	
+	Северо-Восточный
+	Приозерный
+	Калифорнийский
	Техасский

Задание

Порядковый номер задания	18
Тип	2
Вес	1

Отличительные особенности промышленности США:	
+	Высокий уровень качества
+	Высокая производственная концентрация
	Низкая территориальная концентрация
	Рассредоточенность производства

Задание

Порядковый номер задания	19
Тип	3
Вес	1

Установите соответствие штатов США и направлений сельского хозяйства:	
Выращивание риса, сахарного тростника, фруктов	Флорида
Выращивание хлопчатника, сои, табака, арахиса	Теннесси
Пастбищное мясо-шерстяное животноводство	Невада
Выращивание пшеницы	Северная Дакота

Задание

Порядковый номер задания	20
Тип	2
Вес	1

Университеты США:	
+	Йельский
+	Стенфордский
+	Гарвардский
	Манчестерский
	Сорбонна

Задание

Порядковый номер задания	21
Тип	6
Вес	1

Верны ли данные утверждения? А) Детройт – депрессивный район США. В) В 2005 г. на США обрушился ураган «Катрина». Подберите правильный ответ.	
+	А – да, В – да
	А – да, В – нет
	А – нет, В – да
	А – нет, В – нет

Задание

Порядковый номер задания	22
Тип	2
Вес	1

Нефть в США добывают в:	
+	Мексиканском заливе
+	Штате Канзас
+	Штате Калифорния
+	Аляске
	Северо-Восточном районе

Задание

Порядковый номер задания	23
Тип	6
Вес	1

Верны ли данные утверждения? А) На востоке США преобладают рудные полезные ископаемые. В) На западе США преобладают топливные полезные ископаемые.	
	А – да, В – да
	А – да, В – нет
	А – нет, В – да
+	А – нет, В – нет

Задание

Порядковый номер задания	24
Тип	1
Вес	1

Основное производство компании «Боинг» расположено в городе:	
+	Сиэтл
	Лос-Анджелес
	Детройт
	Чикаго
	Вашингтон

Задание

Порядковый номер задания	25
Тип	3
Вес	1

Установите соответствие городов США и их специализации:	
Лос-Анджелес	авиаракетостроение
Хьюстон	нефтехимия
Сиэтл	самолетостроение
Детройт	автомобилестроение

Задание

Порядковый номер задания	26
Тип	3
Вес	1

Установите соответствие сельскохозяйственных районов США:	
Великие равнины	Пшеничный пояс
Центральные равнины	Кукурузный пояс
Нижнее течение Миссисипи	Хлопковый пояс
Горные штаты	Пояс животноводства

Задание

Порядковый номер задания	27
Тип	6
Вес	1

Верны ли данные утверждения? А) Курорт Майами-Бич расположен во Флориде. В) Курорт Санта-Круз расположен в Калифорнии. Подберите правильный ответ.	
+	А – да, В – да
	А – да, В – нет
	А – нет, В – да
	А – нет, В – нет

Задание

Порядковый номер задания	28
Тип	3
Вес	1

Установите соответствие макрорайонов США:	
Северо-Восток	«мастерская нации»
Средний Запад	крупная промышленность и сельское хозяйство
Юг	«макрорайон больших перемен»
Запад	самый молодой и динамичный макрорайон

Канада. Бразилия

Тип	Группа
Вес	12

Задание

Порядковый номер задания	29
Тип	1
Вес	1

Канада - ___-е по площади государства в мире.	
+	2
	1
	3
	4

Задание

Порядковый номер задания	30
Тип	6
Вес	1

Верны ли данные утверждения? А) Канада стала доминионом в составе Британской империи в 1897 г. В) Территория Нунавута в основном заселена эскимосами. Подберите правильный ответ.	
	А – да, В – да
	А – да, В – нет
+	А – нет, В – да
	А – нет, В – нет

Задание

Порядковый номер задания	31
Тип	2
Вес	1

Группы отраслей международной специализации Канады:	
+	Горно-добывающая промышленность
+	Цветная металлургия
+	Деревообрабатывающая и целлюлозно-бумажная промышленность
+	Сельское хозяйство и пищевая промышленность
	Черная металлургия
	Машиностроение

Задание

Порядковый номер задания	32
Тип	1
Вес	1

Канада специализируется на производстве:	
+	пшеницы
	риса
	кукурузы
	ржи

Задание

Порядковый номер задания	33
Тип	6
Вес	1

Верны ли данные утверждения? А) На севере Канады преобладает очаговый тип освоения территории. В) Основная часть населения и хозяйства Канады концентрируется в южной полосе на границе с Мексикой. Подберите правильный ответ.	
	А – да, В – да
+	А – да, В – нет
	А – нет, В – да
	А – нет, В – нет

Задание

Порядковый номер задания	34
Тип	1
Вес	1

Португальцы заготавливали в бразильских лесах	
+	Красное дерево
	Авокадо
	Каучуковое дерево
	Шоколадное дерево

Задание

Порядковый номер задания	35
Тип	5
Вес	1

Расположите в хронологической последовательности бразильские «лихорадки» - вывозимые в Европу из Бразилии продукты:	
	Красное дерево
	Сахар
	Золото
	Кофе

Задание

Порядковый номер задания	36
Тип	2
Вес	1

Бразильские ГЭС:	
+	Туркуруи
+	Итайцу
	Паскуа
	Бэйкер

Задание

Порядковый номер задания	37
Тип	1
Вес	1

Столица Бразилии – это	
+	Бразилиа
	Рио-де-Жанейро
	Сан-Паулу
	Сальвадор

Задание

Порядковый номер задания	38
Тип	1
Вес	1

Бразилиа имеет очертания	
+	самолета
	ракеты
	фрегата
	веера

Латинская Америка

Тип	Группа
Вес	12

Задание

Порядковый номер задания	39
Тип	3
Вес	1

Установите соответствие размеров латиноамериканских государств:	
Бразилия	Очень большое
Мексика	Среднее
Куба	Небольшое
Доминиканская Республика	Маленькое

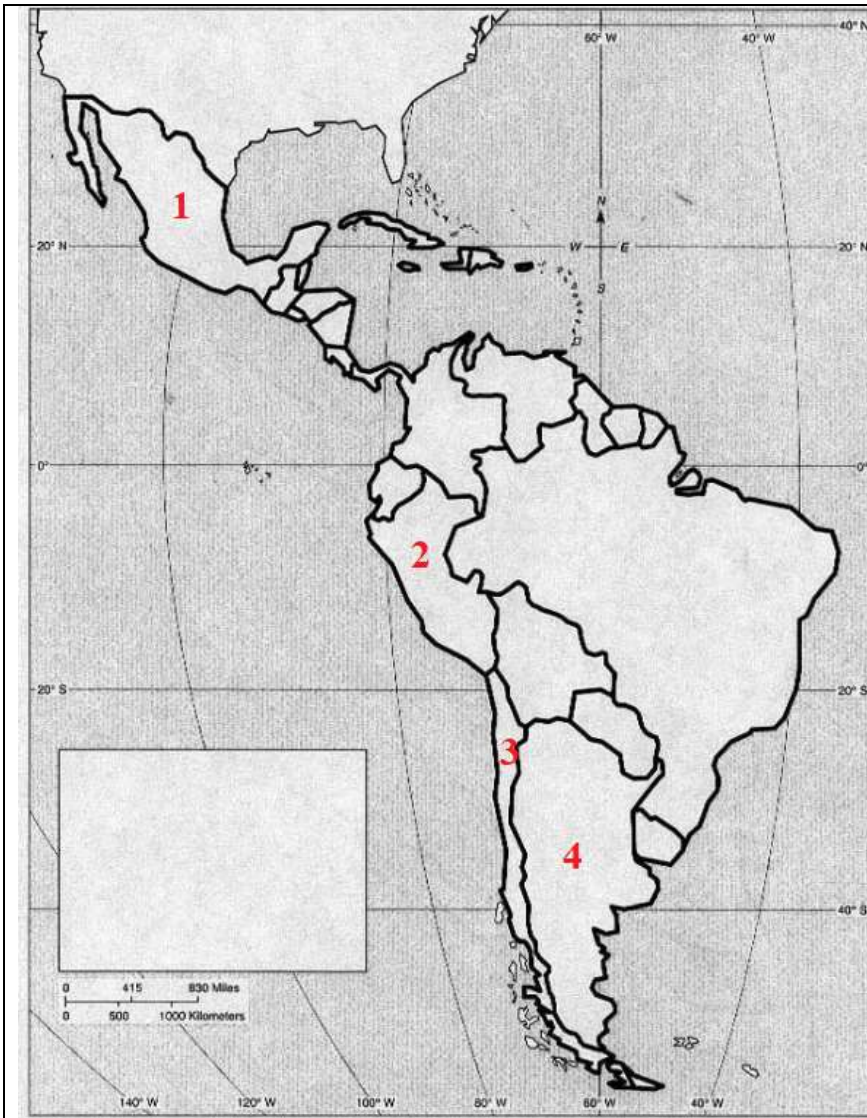
Задание

Порядковый номер задания	40
Тип	3
Вес	1

Территория Латинской Америки протягивается с севера на юг на [1] тыс. км, а с запада на восток максимально на [2] тыс. км. Морская трасса Одесса – Буэнос-Айрес составляет [3] тыс. км. Авиарейс Москва – Буэнос-Айрес – [4] часов. Установите соответствие:	
1	13
2	5
3	14
4	19

Задание

Порядковый номер задания	41
Тип	3
Вес	1

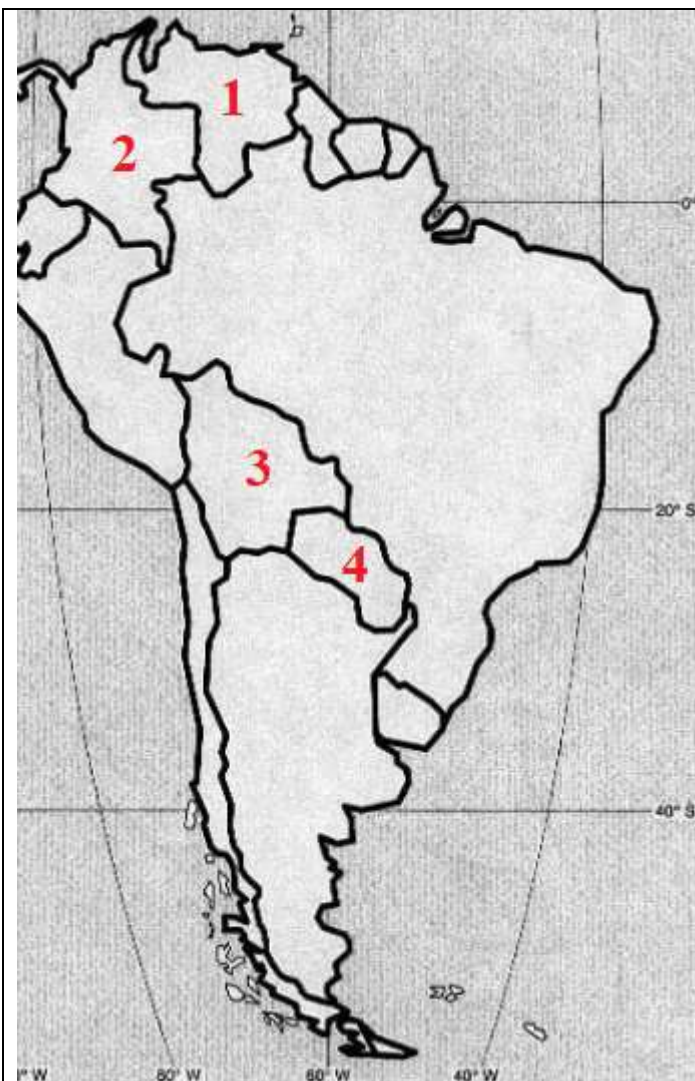


Установите соответствие латиноамериканских государств:

1	Мексика
2	Перу
3	Чили
4	Аргентина

Задание

Порядковый номер задания	42
Тип	3
Вес	1



Установите соответствие латиноамериканских государств:

1	Венесуэла
2	Колумбия
3	Боливия
4	Парагвай

Задание

Порядковый номер задания	43
Тип	6
Вес	1

Верны ли данные утверждения?

А) На гербе Кубы расположен ключ.

В) Независимые государства Латинской Америки – парламентские республики.

Подберите правильный ответ.

	А – да, В – да
+	А – да, В – нет
	А – нет, В – да
	А – нет, В – нет

Задание

Порядковый номер задания	44
Тип	6
Вес	1

Верны ли данные утверждения?	
А) В Бразилии годовое количество осадков выше, чем в Аргентине.	
В) В Перу выпадает больше осадков, чем в Коста-Рика.	
Подберите правильный ответ.	
	А – да, В – да
+	А – да, В – нет
	А – нет, В – да
	А – нет, В – нет

Задание

Порядковый номер задания	45
Тип	1
Вес	1

Колесание температуры поверхностного слоя воды в экваториальной части Тихого океана, оказывающее заметное влияние на климат	
+	Эль-Ниньо
	Брасеро
	Тьерра фриа
	Манитоба

Задание

Порядковый номер задания	46
Тип	3
Вес	1

Установите соответствие латиноамериканских государств и животных, изображенных на их гербах:	
Перу	лама
Ямайка	крокодил
Гренада	броненосец
Гайана	ягуар

Задание

Порядковый номер задания	47
Тип	2
Вес	1

Индийские корни в названии стран и городов:	
+	Гватемала
+	Никарагуа
+	Перу
	Гвадалахара
	Кордова

Задание

Порядковый номер задания	48
Тип	1
Вес	1

Подавляющее большинство латиноамериканцев исповедуют	
+	католицизм
	православие
	протестантизм
	буддизм

Раздел 9.

Африка

Тип	Группа
Вес	12

Задание

Порядковый номер задания	51
Тип	1
Вес	1

Протяженность Африки с севера на юг _____ тыс. км.	
+	8
	7
	6
	5

Задание

Порядковый номер задания	52
Тип	1
Вес	1

С Алжиром, Нигером и Чадом граничит	
+	Ливия
	Тунис
	Египет
	Судан

Задание

Порядковый номер задания	53
Тип	1
Вес	1

Выходы к Красному и Средиземному морю имеет	
+	Египет
	Ливия
	Судан
	Тунис

Задание

Порядковый номер задания	54
Тип	6
Вес	1

Верны ли данные утверждения? А) Нигерия на юге граничит с Нигером. В) Мавритания не граничит с Нигером. Подберите правильный ответ.	
	А – да, В – да
	А – да, В – нет
+	А – нет, В – да
	А – нет, В – нет

Задание

Порядковый номер задания	55
Тип	5

Вес	1
-----	---

Расположите африканские государства с севера на юг:	
	Алжир
	Чад
	Конго
	Ангола

Задание

Порядковый номер задания	56
Тип	5
Вес	1

Расположите африканские государства с запада на восток:	
	Мавритания
	Мали
	Чад
	Эфиопия

Задание

Порядковый номер задания	57
Тип	6
Вес	1

Верны ли данные утверждения? А) Мали крупнее Ганы. В) Сомали находится на побережье Атлантического океана. Подберите правильный ответ.	
	А – да, В – да
+	А – да, В – нет
	А – нет, В – да
	А – нет, В – нет

Задание

Порядковый номер задания	58
Тип	1
Вес	1

Укажите государство Африки с максимальной площадью	
+	Судан
	Алжир
	Ливия
	Ангола

Задание

Порядковый номер задания	59
Тип	2
Вес	1

Укажите африканские государства, не имеющие выхода к морю:	
+	Уганда
+	Мали
+	Чад
	Ангола
	Габон

Задание

Порядковый номер задания	60
Тип	2
Вес	1

Укажите африканские государства с монархической формой правления:	
+	Лесото
+	Марокко
+	Эсватини
	Ангола
	Египет

Задание

Порядковый номер задания	61
Тип	3
Вес	1

Первый госпереворот в Африке произошел в [1] г. в [2], группа армейских офицеров заставила короля [3] отречься от престола и распустить [4]. Установите соответствие:	
1	1952
2	Египет
3	Фарук
4	парламент
	1963
	Того
	Сильванус Олипио
	правительство

Задание

Порядковый номер задания	62
Тип	2
Вес	1

Острые территориальные споры в Африке существуют между:	
+	Марокко и Западной Сахарой
+	Эфиопией и Сомали
	Чадом и Ливаном
	Гвинеей и Ганой

Задание

Порядковый номер задания	63
Тип	1
Вес	1

Организация африканского единства создана в _____ году.	
+	1963
	2002
	1952
	1987

Задание

Порядковый номер задания	64
Тип	1
Вес	1

Полезные ископаемые на севере Африки – это
--

+	нефть и газ
	каменный уголь и алюминиевые руды
	золото и бриллианты
	медные и оловянные руды

Задание

Порядковый номер задания	65
Тип	5
Вес	1

Расположите страны Африки в порядке увеличения количества осадков:	
	Алжир
	Ботсвана
	Демократическая Республика Конго
	Либерия

Задание

Порядковый номер задания	66
Тип	1
Вес	1

Река в Африке с наибольшим гидропотенциалом – это	
+	Конго
	Нил
	Нигер
	Лимпопо

Задание

Порядковый номер задания	67
Тип	1
Вес	1

Средняя продолжительность жизни женщин в Африке	
+	52 года
	46 лет
	37 лет
	65 лет
	72 года

Задание

Порядковый номер задания	68
Тип	4
Вес	1

_____ - это истребление целых групп населения по расовым, национальным, этническим или религиозным признакам.	
	Геноцид

Задание

Порядковый номер задания	69
Тип	2
Вес	1

Перечислите бывшие французские колонии в Африке:	
+	Марокко
+	Алжир

+	Мали
	Ливия
	Египет
	Западная Сахара

Задание

Порядковый номер задания	70
Тип	3
Вес	1

Установите соответствие бывших колоний в Африке и метрополий:	
Франция	Центрально-Африканская Республика
Великобритания	Судан
Португалия	Мозамбик
Испания	Западная Сахара

Задание

Порядковый номер задания	71
Тип	2
Вес	1

Укажите в каких африканских странах официальный язык английский:	
+	Замбия
+	Танзания
+	Сьерра-Леоне
	Кот-д'Ивуар
	Кабо-Верде
	Гвинея-Бисау

Задание

Порядковый номер задания	72
Тип	2
Вес	1

Перечислите города-миллионеры в Африке:	
+	Каир
+	Киншаса
+	Лагос
	Кадуна

Задание

Порядковый номер задания	73
Тип	6
Вес	1

Верны ли данные утверждения? А) В большинстве африканских стран – колониальный тип отраслевой структуры хозяйства. В) В экономике африканских стран преобладают монокультуры. Подберите правильный ответ.	
+	А – да, В – да
	А – да, В – нет
	А – нет, В – да
	А – нет, В – нет

Задание

Порядковый номер задания	74
Тип	2

Вес	1
-----	---

Африканские государства, экспортирующие руды, уран и алмазы – это :	
+	Замбия
+	Либерия
+	Ботсвана
	Ангола
	Габон
	Ливия

Задание

Порядковый номер задания	75
Тип	3
Вес	1

Установите соответствие изображений на гербах африканских государств:	
Кофейное дерево	Кения
Дерево какао	Гана
Масличная пальма	Руанда
Хлопок	Ангола

Задание

Порядковый номер задания	76
Тип	3
Вес	1

Установите соответствие государств и субрегионов Африки:	
Северная Африка	Алжир
Западная Африка	Мали
Центральная Африка	Габон
Восточная Африка	Сомали
Южная Африка	Ангола

Задание

Порядковый номер задания	77
Тип	1
Вес	1

Северная Африка – это	
+	арабская
	христианская
	буддистская
	синтоистская

Задание

Порядковый номер задания	78
Тип	3
Вес	1

Установите соответствие:	
Касба	расположенное на возвышенном месте укрепление
Медина	старый город, окруженный защитными стенами
Оазис	богатое растительностью место в пустыне или полупустыне, изолированное от других массивов растительности
Сахель	тропический саванный регион в Африке, который является своеобразным переходом между Сахарой на севере и более плодородными землями на юге, более известными как африканский регион Судан

Задание

Порядковый номер задания	79
Тип	1
Вес	1

Укажите название гидроузла на Ниле.	
+	Асуанский
	Гранд Инга
	Тукуруи
	Богучанский

Задание

Порядковый номер задания	80
Тип	4
Вес	1

_____ - это крайняя форма расовой дискриминации; означает лишение или существенное ограничение политических, экономических и гражданских прав какой-либо группы населения, вплоть до ее территориальной изоляции в специальных местах.
Апартеид

Австралия

Тип	Группа
Вес	12

Задание

Порядковый номер задания	81
Тип	3
Вес	1



Установите соответствие:

1	Большой водораздельный хребет
2	Центральная низменность
3	Большая пустыня Виктория

4	Большая Песчаная пустыня
---	--------------------------

Задание

Порядковый номер задания	82
Тип	3
Вес	1



Установите соответствие:

1	Большой Австралийский залив
2	Тасманово море
3	Коралловое море
4	Арафурское море

Задание

Порядковый номер задания	83
Тип	6
Вес	1

Верны ли данные утверждения?

А) Поселение Сидней было основано голландцами в 1788 г.

В) Национальный праздник Австралии – 26 марта.

Подберите правильный ответ.

	А – да, В – да
	А – да, В – нет
	А – нет, В – да
+	А – нет, В – нет

Задание

Порядковый номер задания	84
Тип	4
Вес	1

_____ - это фактически самоуправляющееся государство в составе бывшей Британской империи,

признающее своим главой английского короля (королеву).	
+	Доминион

Задание

Порядковый номер задания	85
Тип	1
Вес	1

Австралия - это _____ государство.	
+	федеративное
	унитарное
	конфедеративное
	президентское

Задание

Порядковый номер задания	86
Тип	1
Вес	1

Средняя плотность населения в Австралии - _____ чел. на 1 км ² .	
+	2
	12
	22
	32

Задание

Порядковый номер задания	87
Тип	6
Вес	1

Верны ли данные утверждения? А) В ВВП Австралии менее 30% приходится на услуги. В) Австралия занимает первое место по добыче никеля и золота. Подберите правильный ответ.	
	А – да, В – да
	А – да, В – нет
	А – нет, В – да
+	А – нет, В – нет

Задание

Порядковый номер задания	88
Тип	1
Вес	1

Основные экспортные потоки из Австралии идут в	
+	Японию
	Китай
	Россию
	США

Задание

Порядковый номер задания	89
Тип	1
Вес	1

Главный каменноугольный бассейн в Австралии расположен в районе	
+	Сиднея

	Дарвина
	Калгурли
	Таунсвилла

Задание

Порядковый номер задания	90
Тип	6
Вес	1

Верны ли данные утверждения?	
А) На восточных склонах Большого Водораздельного хребта – хозяйства с зерново-овцеводческой специализацией.	
В) На Центральных равнинах Австралии распространено интенсивное пастбищное животноводство мясо-шерстяного направления.	
Подберите правильный ответ.	
	А – да, В – да
+	А – да, В – нет
	А – нет, В – да
	А – нет, В – нет

Океания

Тип	Группа
Вес	12

Задание

Порядковый номер задания	91
Тип	3
Вес	1

Острова Океании простираются с севера на юг от [1]° северной широты до [2]° южной широты. С запада на восток они протягиваются между [3]° восточной долготы и [4]° западной долготы.	
Установите соответствие:	
1	28
2	52
3	130
4	105

Задание

Порядковый номер задания	92
Тип	1
Вес	1

Укажите самый северный остров в Океании	
+	атолл Куре
	о. Кэмпбелл
	о. Мисоол
	о. Сала-и-Гомес

Задание

Порядковый номер задания	93
Тип	1
Вес	1

Укажите самый южный остров в Океании:	
+	о. Кэмпбелл
	о. Мисоол
	о. Сала-и-Гомес

	атолл Куре
--	------------

Задание

Порядковый номер задания	94
Тип	1
Вес	1

Ближе всего к острову Новая Гвинея расположено государство	
+	Папуа-Новая Гвинея
	Маршалловы острова
	Фиджи
	Кирибати

Задание

Порядковый номер задания	95
Тип	2
Вес	1

Укажите 3 крупных острова в Океании:	
+	Новая Гвинея
+	Северный остров Новой Зеландии
+	Южный остров Новой Зеландии
	Мадагаскар
	Тасмания
	Мисоол

Задание

Порядковый номер задания	96
Тип	4
Вес	1

_____ - это острова, расположенные в юго-западной части акватории Тихого океана.	
Меланезия	

Задание

Порядковый номер задания	97
Тип	4
Вес	1

_____ - это острова, расположенные в западной части акватории Тихого океана.	
Микронезия	

Задание

Порядковый номер задания	98
Тип	4
Вес	1

_____ - это острова, расположенные в центральной части акватории Тихого океана.	
Полинезия	

Задание

Порядковый номер задания	99
Тип	1
Вес	1

Папуа-Новая Гвинея – независимое государство с _____ года.	
--	--

+	1975
	1945
	1963
	1988

Задание

Порядковый номер задания	100
Тип	1
Вес	1

Острова Туамоту, Маркизские входят в	
+	Французскую Полинезию
	Английскую Полинезию
	Английскую Меланезию
	Французскую Меланезию

Раздел 10.

Геополитическое и географическое положение России

Тип	Группа
Вес	12

Задание

Порядковый номер задания	101
Тип	1
Вес	1

Российская Федерация существует с _____ года.	
+	1991
	1990
	1917
	1922
	1924

Задание

Порядковый номер задания	102
Тип	4
Вес	1



В указанных на карте границах РФ существует с _____ года.

2014

Задание

Порядковый номер задания	103
Тип	4
Вес	1

СССР образовался в _____ году.

1922

Задание

Порядковый номер задания	104
Тип	4
Вес	1

Количество республик, входивших в СССР к 1991 г., -
(В ответе укажите число цифрами)

15

Задание

Порядковый номер задания	105
Тип	2
Вес	1

Государства, не входившие в СНГ на момент его образования:

+	Литва
+	Латвия
+	Эстония
	Грузия
	Казахстан

Задание

Порядковый номер задания	106
--------------------------	-----

Тип	6
Вес	1

Верны ли данные утверждения? А) Россия состоит из 85 субъектов. В) Россия – федеративное государство. Подберите правильный ответ.	
+	А – да, В – да
	А – да, В – нет
	А – нет, В – да
	А – нет, В – нет

Задание

Порядковый номер задания	107
Тип	3
Вес	1

Установите соответствие субъектов РФ и их количества:	
Республики	22
Края	9
Области	46
Города федерального подчинения	3
Автономные области	1
Автономные округа	4
	2

Задание

Порядковый номер задания	108
Тип	4
Вес	1

Территориальные воды – это воды, граница которых проходит на расстоянии ____ морских миль от береговой линии. (В ответе укажите число)	
12	

Задание

Порядковый номер задания	109
Тип	1
Вес	1

Россия занимает ____ % мировой суши.	
+	9
	11
	13
	15

Задание

Порядковый номер задания	110
Тип	3
Вес	1

На Европейскую Россию приходится [1] % общей площади Европы и [2] % ее населения, на Азиатскую Россию – [3] % территории всей Азии и [4] % населения. [5] % населения проживает в азиатской части России. [6] % территории страны расположены в Европе. Установите соответствие:	
1	42
2	18

3	29
4	1
5	20
6	25
	7

Задание

Порядковый номер задания	111
Тип	6
Вес	1

Верны ли данные утверждения? А) Крайняя северная точка РФ – гора Базардюзю. В) Крайняя восточная материковая точка РФ – мыс Ратманова. Подберите правильный ответ.	
	А – да, В – да
+	А – да, В – нет
	А – нет, В – да
	А – нет, В – нет

Задание

Порядковый номер задания	112
Тип	1
Вес	1

Протяженность России с севера на юг ____ километров.	
+	4400
	9000
	2200
	6100

Задание

Порядковый номер задания	113
Тип	1
Вес	1

По возвышенности Манселькя РФ граничит с	
+	Финляндией
	Норвегией
	Польшей
	Литвой

Задание

Порядковый номер задания	114
Тип	1
Вес	1

Кратчайшее расстояние между РФ и США равно _____ километрам.	
+	5
	9700
	4300
	26

Задание

Порядковый номер задания	115
Тип	6
Вес	1

Верны ли данные утверждения?	
А) Самая протяженная граница у РФ – с Китаем.	
В) На территории РФ выделено 9 часовых зон.	
Подберите правильный ответ.	
	А – да, В – да
	А – да, В – нет
	А – нет, В – да
+	А – нет, В – нет

Задание

Порядковый номер задания	116
Тип	4
Вес	1

Когда в Москве 15 часов, в Екатеринбурге _____ часов.
17

Задание

Порядковый номер задания	117
Тип	4
Вес	1

_____ - это обширный участок земной коры с устойчивым, малоподвижным фундаментом, который сложен кристаллическими магматическими и метаморфическими породами и перекрыт чехлом осадочных пород.
Платформа

Задание

Порядковый номер задания	118
Тип	2
Вес	1

Складчатые горы – это:	
+	Карпаты
+	Кавказ
	Уральские горы
	Хибины

Задание

Порядковый номер задания	119
Тип	3
Вес	1

Установите соответствие городов и климата в них:	
Благовещенск	муссонный климат
Иркутск	умеренный резко континентальный климат
Омск	умеренный континентальный климат
Норильск	субарктический климат

Задание

Порядковый номер задания	120
Тип	6
Вес	1

Верны ли данные утверждения?	
А) Теплый фронт приносит морозящие дожди.	

В) Холодный фронт приносит ливневые дожди и сильные порывы ветра.	
+	А – да, В – да
	А – да, В – нет
	А – нет, В – да
	А – нет, В – нет

Задание

Порядковый номер задания	121
Тип	4
Вес	1

_____ - это мощный атмосферный вихрь с пониженным давлением в центре и восходящим вращением воздуха против часовой стрелки.
Циклон


Задание

Порядковый номер задания	122
Тип	1
Вес	1

_____ - это самый холодный регион в России.	
+	Якутия
	Мурманск
	Магадан
	Норильск

Задание

Порядковый номер задания	123
Тип	1
Вес	1



На графике -	
+	умеренно континентальный климат
	резко континентальный климат
	муссонный климат
	субарктический климат
	арктический климат

Задание

Порядковый номер задания	124
Тип	5
Вес	1

Расположите реки в порядке уменьшения их протяженности:

Лена
Обь
Енисей
Ока

Задание

Порядковый номер задания	125
Тип	2
Вес	1

Перечислите реки бассейна Северного Ледовитого океана.	
+	Печора
+	Обь
+	Индигоирка
	Волга
	Урал
	Амур

Задание

Порядковый номер задания	126
Тип	4
Вес	1

Исток реки на уровне 230 м над уровнем моря, устье на уровне 20 м ниже уровня моря, длина реки 3500 км. Падение реки - ____ м. (В ответе укажите целое число цифрами)
250

Задание

Порядковый номер задания	127
Тип	3
Вес	1

Установите соответствие происхождения озер:	
Тектоническое	Байкал
Ледниковое	Валдай
Карстовое	Провал
Вулканическое	Курильское

Задание

Порядковый номер задания	128
Тип	6
Вес	1

Верны ли данные утверждения? А) Болота богаты черноземом. В) Болота имеют водоохранное значение. Подберите правильный ответ.	
	А – да, В – да
	А – да, В – нет
+	А – нет, В – да
	А – нет, В – нет

Задание

Порядковый номер задания	129
Тип	5

Вес	1
-----	---

Расположите земельный фонд России в порядке уменьшения площади:	
	Леса
	Олени пастбища
	Сельскохозяйственные земли
	Болота

Задание

Порядковый номер задания	130
Тип	5
Вес	1

Расположите типы почв в порядке увеличения гумуса:	
	Бурые
	Подзолистые
	Каштановые
	Черноземы

Население России

Тип	Группа
Вес	12

Задание

Порядковый номер задания	131
Тип	6
Вес	1

Верны ли данные утверждения? А) Численность населения в России в 2019 г. – 147 млн.чел. В) Последняя перепись населения в России проводилась в 2020 г. Подберите правильный ответ.	
	А – да, В – да
+	А – да, В – нет
	А – нет, В – да
	А – нет, В – нет

Задание

Порядковый номер задания	132
Тип	1
Вес	1

_____ - это резкое уменьшение численности населения в результате превышения смертности над рождаемостью.	
+	Демографический кризис
	Естественное движение населения
	Механическое движение населения
	Современный тип воспроизводства населения

Задание

Порядковый номер задания	133
Тип	6
Вес	1

Верны ли данные утверждения?	
------------------------------	--

А) Изменение численности населения за счет рождения и смертей – естественное движение населения. В) Механическое движение населения – изменение численности населения за счет миграций. Подберите правильный ответ.	
+	А – да, В – да
	А – да, В – нет
	А – нет, В – да
	А – нет, В – нет

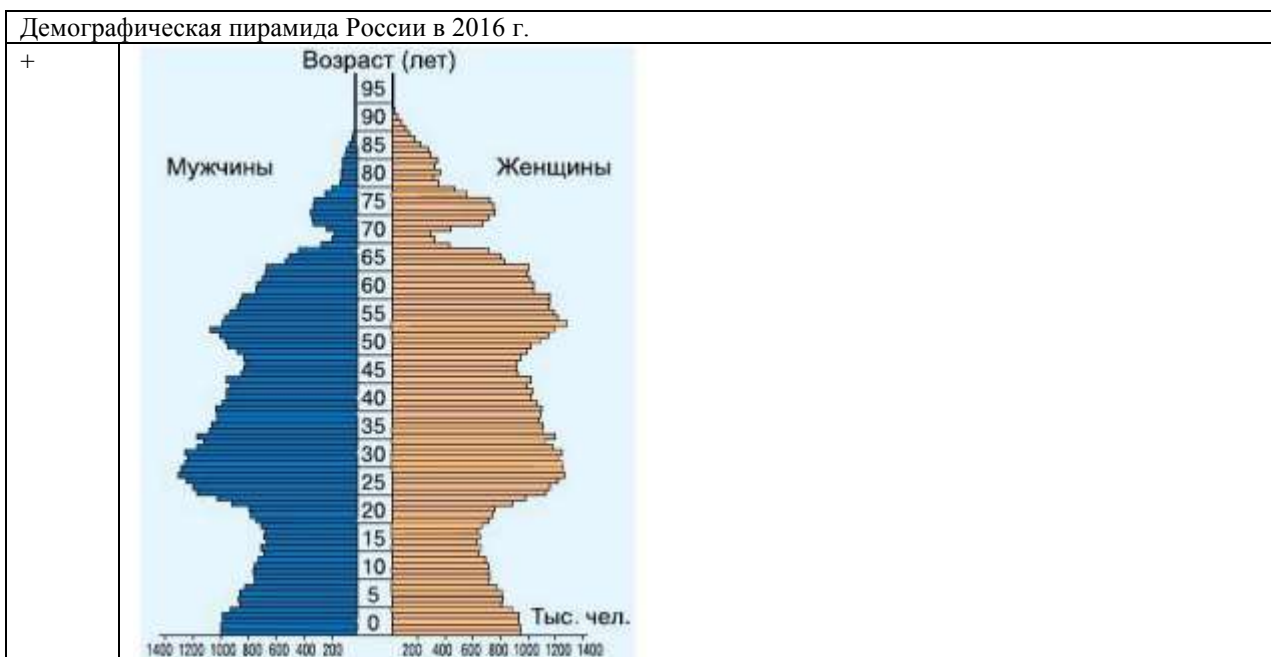
Задание

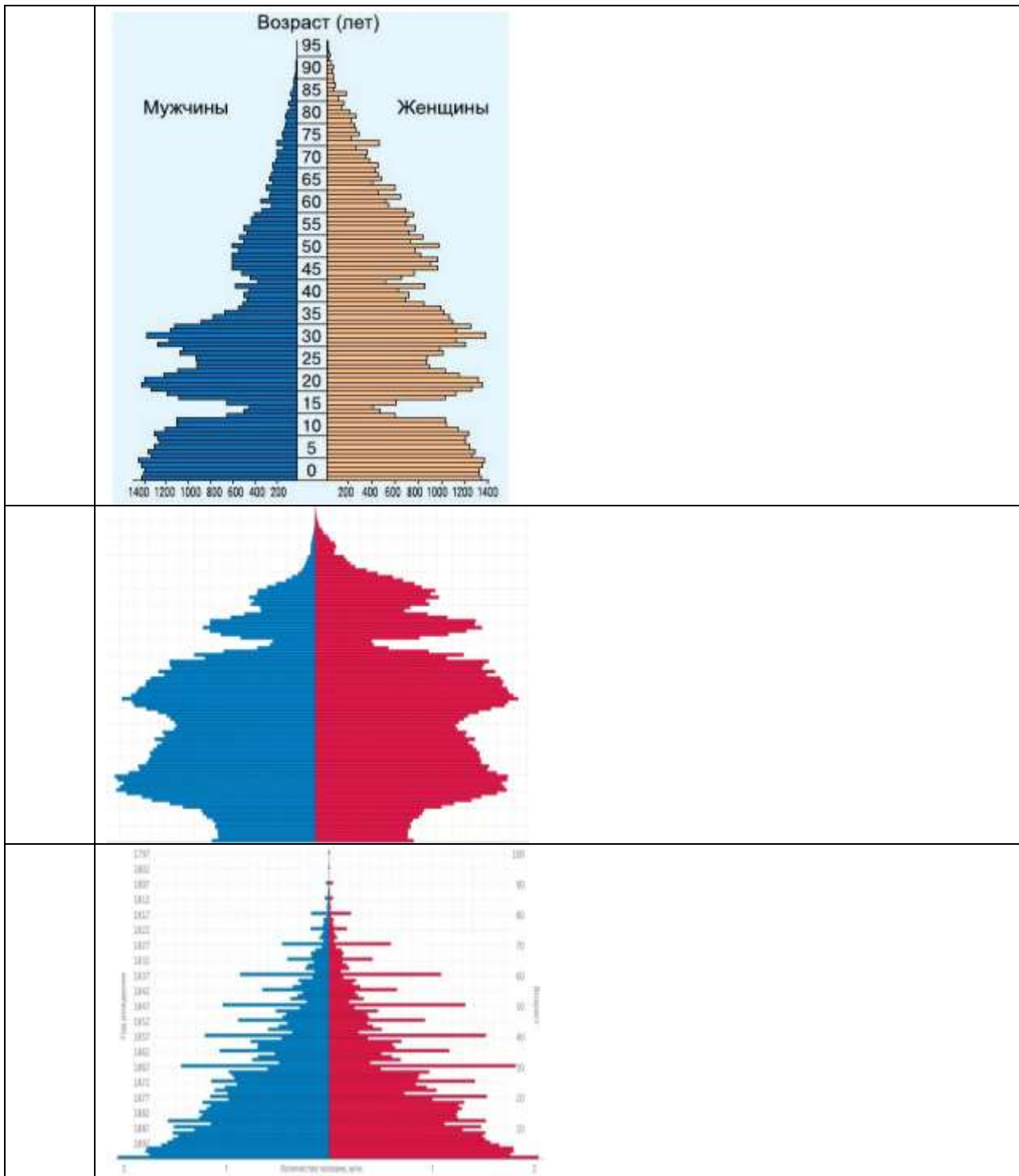
Порядковый номер задания	134
Тип	1
Вес	1

Современный тип воспроизводства населения характеризуется	
+	планированием числа детей в семье
	многодетностью
	коэффициентом фертильности более 2,8
	политикой чайлд-фри

Задание

Порядковый номер задания	135
Тип	1
Вес	1





Задание

Порядковый номер задания	136
Тип	6
Вес	1

Верны ли данные утверждения?	
А) В середине XX в. в России преобладали «центростремительные» миграции населения.	
В) В начале XXI в. в России преобладали «центробежные» миграции населения.	
Подберите правильный ответ.	
	А – да, В – да
	А – да, В – нет
	А – нет, В – да
+	А – нет, В – нет

Задание

Порядковый номер задания	137
Тип	1
Вес	1

Назовите основной источник миграционного притока в Россию в начале XXI в.	
+	СНГ
	ЕС
	Китай
	Прибалтика

Задание

Порядковый номер задания	138
Тип	2
Вес	1

Укажите факторы повышения территориальной подвижности населения:	
+	развитие транспорта
+	рост уровня жизни
	уменьшение свободного времени
	объединение мест работы и жительства

Задание

Порядковый номер задания	139
Тип	1
Вес	1

Величина рабочей силы в России в начале 2020-х гг.	
+	77 млн.чел.
	69 млн.чел.
	83 млн.чел.
	147 млн.чел.

Задание

Порядковый номер задания	140
Тип	4
Вес	1

_____ - это превышение предложения рабочей силы над спросом на нее.
Безработица

Хозяйство России

Тип	Группа
Вес	12

Задание

Порядковый номер задания	141
Тип	1
Вес	1

Главная топливная база России	
+	Западная Сибирь
	Восточная Сибирь
	Дальний Восток
	Поволжье

Задание

Порядковый номер задания	142
Тип	2
Вес	1

Российские месторождения газа	
+	Уренгойское
+	Ямбургское
+	Астраханское
	Тунгусское
	Кузнецкое

Задание

Порядковый номер задания	143
Тип	6
Вес	1

Верны ли данные утверждения? А) Наибольшее количество электроэнергии в России производится на ГЭС. В) Самые крупные в России ГЭС построены на Енисее и Ангаре. Подберите правильный ответ.	
	А – да, В – да
	А – да, В – нет
+	А – нет, В – да
	А – нет, В – нет

Задание

Порядковый номер задания	144
Тип	5
Вес	1

Расположите страны в порядке увеличения добычи алюминиевого сырья:	
	Россия
	Бразилия
	Китай
	Австралия

Задание

Порядковый номер задания	145
Тип	3
Вес	1

Установите соответствие городов и отраслей машиностроения:	
авиастроение	Комсомольск-на-Амуре, Казань, Ульяновск, Самара
тракторостроение	Челябинск, Волгоград, Санкт-Петербург, Барнаул, Петрозаводск
железнодорожное	Коломна, Брянск, Новочеркасск, Верхняя Пышма
судостроение	Санкт-Петербург, Северодвинск, Нижний Новгород

Задание

Порядковый номер задания	146
Тип	2
Вес	1

Удобрения в России производятся в:	
+	Соликамске
+	Новомосковске

+	Кирово-Чепецке
	Красноярске
	Стерлитамаке

Задание

Порядковый номер задания	147
Тип	3
Вес	1

Установите соответствие российских регионов и городов:	
Центральная Россия	Муром, Углич
Европейский Север	Мурманск, Архангельск
Европейский Юг	Новороссийск, Ростов-на-Дону
Европейский Северо-Запад	Великий Новгород, Калининград
Поволжье	Самара, Казань

Задание

Порядковый номер задания	148
Тип	2
Вес	1

Отрасли специализации Санкт-Петербурга:	
+	судостроение
+	военная продукция
+	производство оборудования для электростанций
	авиастроение
	лесообрабатывающая промышленность

Задание

Порядковый номер задания	149
Тип	1
Вес	1

_____ - это поселок златокузнецов в Дагестане, крупный художественный центр.	
+	Кубачи
	Кизи
	Жигули
	Касли

Задание

Порядковый номер задания	150
Тип	2
Вес	1

Крупнейшие города Дальнего Востока:	
+	Хабаровск
+	Владивосток
	Якутск
	Магадан

Раздел 11.

Глобализация и связанные с ней проблемы человечества

Тип	Группа
Вес	12

Задание

Порядковый номер задания	151
Тип	4
Вес	1

_____ - это резкое расширение и углубление взаимосвязей и взаимозависимостей между странами, народами и отдельными людьми, охватывает сферы политики, экономики, культуры.
Глобализация

Задание

Порядковый номер задания	152
Тип	1
Вес	1

Термин, введенный М. Маклюэн в отношении глобализации	
+	глобальная деревня
	глобальная цивилизация
	глобальный мегаполис
	глобальная агломерация

Задание

Порядковый номер задания	153
Тип	1
Вес	1

Термин «Глобальная деревня» введен	
+	М. Маклюэн
	Б. Барбером
	Д. Корненом
	Г. Дейли

Задание

Порядковый номер задания	154
Тип	6
Вес	1

Верны ли данные утверждения? А) Международная торговля и свобода информационного обмена – факторы глобализации. В) Современное общество не глобальное. Подберите правильный ответ.	
	А – да, В – да
+	А – да, В – нет
	А – нет, В – да
	А – нет, В – нет

Задание

Порядковый номер задания	155
Тип	2
Вес	1

Признаки глобализации:	
+	стирание языковых барьеров
+	мгновенное распространение и доступность информации
+	обмен достижениями науки, идеями и концепциями
	появление пространственных барьеров
	проявление культурных различий

Задание

Порядковый номер задания	156
Тип	6
Вес	1

Верны ли данные утверждения?

А) Глобализация характеризуется взаимосвязанностью всех государств между собой.

В) Современные виды транспорта позволяют выбирать между скоростью и стоимостью.

Подберите правильный ответ.

+	А – да, В – да
	А – да, В – нет
	А – нет, В – да
	А – нет, В – нет

Задание

Порядковый номер задания	157
Тип	1
Вес	1

Самый дорогой вид транспорта

+	авиационный
	железнодорожный
	морской
	речной

Задание

Порядковый номер задания	158
Тип	2
Вес	1

Причины глобализации в экономике:

+	научно-технический прогресс
+	международное разделение труда
+	появление электронных систем мгновенных денежных расчётов
	обмен плодами интеллектуальной деятельности

Задание

Порядковый номер задания	159
Тип	2
Вес	1

Причины глобализации в культуре:

+	туризм
+	музыка, фильмы, доступные по всему миру
	повсеместное распространение «восточной» культуры
	трудовая миграция населения

Задание

Порядковый номер задания	160
Тип	1
Вес	1

_____ - это нетерпимость к кому-либо или чему-либо чужому, незнакомому, непривычному; восприятие чужого как неприятного и опасного.

+	Ксенофобия
	Этноцентризм
	Национализм

	Толерантность
--	---------------

Задание

Порядковый номер задания	161
Тип	1
Вес	1

Глобальные проблемы – это проблемы, которые	
+	охватывают весь мир, создают угрозу для его настоящего и будущего и требуют для своего решения объединенных усилий, совместных действий всех государств и народов
	охватывают весь мир, все человечество
	создают угрозу для человечества
	решаются совместными действиями всех государств и народов

Задание

Порядковый номер задания	162
Тип	1
Вес	1

_____ - это стремление территорий к отделению.	
+	Сепаратизм
	Ксенофобия
	Конверсия
	Депорирование

Задание

Порядковый номер задания	163
Тип	2
Вес	1

Очаги сепаратизма:	
+	Тайвань
+	Абхазия
+	Палестина
	Техас

Задание

Порядковый номер задания	164
Тип	5
Вес	1

Расположите страны в порядке увеличения угрозы терроризма:	
	Литва
	Судан
	Филлипины
	Афганистан

Задание

Порядковый номер задания	165
Тип	1
Вес	1

Основоположник учения о ноосфере	
+	Вернадский В.И.
	Моисеев Н.Н.
	Барбер Б.

	Бьюкенен П.
--	-------------

Задание

Порядковый номер задания	166
Тип	1
Вес	1

_____ - это событие, приведшее к антропогенному или техногенному загрязнению или деградации природной системы.

+	Экологическая катастрофа
	Экоразвитие
	Демографический взрыв
	Депорирование

Задание

Порядковый номер задания	167
Тип	6
Вес	1

Верны ли данные утверждения?
 А) В 2021 г. в Крыму были наводнения.
 В) В начале 1960-х гг. население мира увеличивалось в среднем на 2 %.

+	А – да, В – да
	А – да, В – нет
	А – нет, В – да
	А – нет, В – нет

Задание

Порядковый номер задания	168
Тип	1
Вес	1

Декларация Земли принята в:

+	2000 г.
	1987 г.
	1994 г.
	2008 г.

Задание

Порядковый номер задания	169
Тип	6
Вес	1

Верны ли данные утверждения?
 А. Демографическая проблема – глобальная проблема человечества, связанная со снижением численности населения.
 Б. По прогнозам, к 2050 г. Китай выйдет на первое место по численности населения.
 Подберите правильный ответ.

	А – да, В – да
	А – да, В – нет
	А – нет, В – да
+	А – нет, В – нет

Задание

Порядковый номер задания	170
Тип	1
Вес	1

В XX в. в ходе мировых и локальных войн погибли _____ миллионов человек.	
+	100
	50
	200
	250

Задание

Порядковый номер задания	171
Тип	1
Вес	1

_____ - это складирование опасных радиоактивных или химических отходов в определенных местах, разделенных по определенным признакам.

+	Депорирование
	Глобализм
	Дефляция
	Конверсия

Задание

Порядковый номер задания	172
Тип	4
Вес	1

_____ - это ветровая эрозия почв, которая при экстенсивном земледелии выводит поля из оборота или резко снижает их плодородие.

Дефляция

Задание

Порядковый номер задания	173
Тип	3
Вес	1

Установите соответствие глобальных проблем:

Проблема предотвращения мировой ядерной войны	одна из глобальных проблем человечества, связанная с развитием ядерного оружия в некоторых странах, представляющего угрозу миру на Земле в целом
Продовольственная проблема	глобальная проблема, состоящая в нехватке калорийного питания, которым по данным ООН обеспечена лишь 1/3 часть населения Земли
Экологическая катастрофа	событие, приведшее к антропогенному или техногенному загрязнению или деградации природной системы
Энергетическая проблема	глобальная проблема обеспечения человечества топливом и сырьем

Задание

Порядковый номер задания	174
Тип	1
Вес	1

Увеличение территориального разрыва между районами добычи и потребления полезных ископаемых, ограниченность разведанных природных запасов ведут к _____ проблеме.

+	энергетической
	экологической
	демографической
	продовольственной

Задание

Порядковый номер задания	175
--------------------------	-----

Тип	2
Вес	1

К нетрадиционной энергетике относятся:	
+	гелиоэнергетика
+	ветроэнергетика
+	геотермальная энергетика
	гидроэнергетика

Задание

Порядковый номер задания	176
Тип	4
Вес	1

В гелиоэнергетике используется энергия солнца	
---	--

Задание

Порядковый номер задания	177
Тип	1
Вес	1

Кислогубская электростанция – это	
+	приливная станция
	атомная станция
	гелиостанция
	ветростанция

Задание

Порядковый номер задания	178
Тип	3
Вес	1

Установите соответствие глобальных проблем здоровья и дат пандемий:	
оспа	1967 г.
ковид	2020-2021 гг.
СПИД	конец XX в.
свиной грипп	2009 г.

Задание

Порядковый номер задания	179
Тип	1
Вес	1

Мировой океан занимает ___ % поверхности Земли.	
+	71
	51
	31
	91

Задание

Порядковый номер задания	180
Тип	1
Вес	1

Разведение рыбы и других живых организмов в природной морской среде:	
+	марикультура

	аквакультура
	рыболовство
	мониторинг биоресурсов

Глобальные прогнозы, гипотезы и проекты. Стратегия устойчивого развития

Тип	Группа
Вес	12

Задание

Порядковый номер задания	181
Тип	1
Вес	1

Комплексная система наблюдений, оценки и прогноза изменений состояния окружающей среды под воздействием природных и антропогенных факторов -	
+	Экологический мониторинг
	Региональный мониторинг
	Глобальный мониторинг
	Марикультурный мониторинг

Задание

Порядковый номер задания	182
Тип	1
Вес	1

Первый проект трансатлантического кабеля был предложен в _____ году.	
+	1843
	1858
	1812
	1828

Задание

Порядковый номер задания	183
Тип	6
Вес	1

Верны ли данные утверждения? А) Освоение космоса предполагает отказ от военных программ. В) На Земле в условиях крайнего обнищания живет ½ всего населения. Подберите правильный ответ.	
+	А – да, В – да
	А – да, В – нет
	А – нет, В – да
	А – нет, В – нет

Задание

Порядковый номер задания	184
Тип	1
Вес	1

Из-за болезней, связанных с недоеданием и голодом, недостатком чистой воды в развивающихся странах ежегодно умирает _____ миллионов человек.	
+	40
	60
	80

	100
--	-----

Задание

Порядковый номер задания	185
Тип	1
Вес	1

Пессимистический подход к глобальному прогнозированию разрабатывается	
+	римским клубом
	парижским клубом
	франкфуртским клубом
	берлинским клубом

Задание

Порядковый номер задания	186
Тип	1
Вес	1

Ученых, прогнозирующих наступление глобального ресурсного, экологического и продовольственного кризиса, называют	
+	алармистами
	хаосистами
	пессимистами
	реалистами

Задание

Порядковый номер задания	187
Тип	1
Вес	1

_____ - это положение, выдвигаемое в качестве предварительного, условного объяснения некоторого глобального явления или группы глобальных явлений; предположение о существовании некоторого глобального явления.	
+	Глобальная гипотеза
	Глобальный прогноз
	Глобальный проект
	Фоновый мониторинг

Задание

Порядковый номер задания	188
Тип	1
Вес	1

К концу XXI в., по консервативным прогнозам, уровень моря поднимется, по сравнению с 2010 г., на _____ сантиметров.	
+	65
	35
	110
	170

Задание

Порядковый номер задания	189
Тип	1
Вес	1

К. Доксиадис выдвинул гипотезу	
+	Ойкуменополиса

	Марикультуры
	Алармизма
	Ксенофобии

Задание

Порядковый номер задания	190
Тип	1
Вес	1

Создание искусственного моря в бассейне Конго – это	
+	глобальный проект
	глобальная гипотеза
	глобальный прогноз
	глобальная стратегия

Глобализация – за и против

Тип	Группа
Вес	12

Задание

Порядковый номер задания	191
Тип	1
Вес	1

Термин «устойчивое развитие» вошел в государственный и научный оборот в _____ году.	
+	1992
	1998
	2000
	2008

Задание

Порядковый номер задания	192
Тип	2
Вес	1

Стратегия устойчивого развития включает:	
+	экологически устойчивое развитие
+	экономически устойчивое развитие
+	устойчивое социальное развитие
	устойчивое демографическое развитие

Задание

Порядковый номер задания	193
Тип	1
Вес	1

_____ развитие – это сбалансированное решение демографических проблем, проблем занятости, уровня и качества жизни, расширение доступа к знаниям, культурным ценностям, обеспечение гражданских прав и личной безопасности людей.	
+	Устойчивое социальное
	Устойчивое демографическое
	Экологически устойчивое
	Экономически устойчивое

Задание

Порядковый номер задания	194
--------------------------	-----

Тип	1
Вес	1

Международный географический союз основан в _____ году.	
+	1922
	1992
	1945
	2005

Задание

Порядковый номер задания	195
Тип	1
Вес	1

От глобализации	
+	выигрывают развитые страны в большей степени
	развивающиеся страны выигрывают в большей степени, чем развитые
	все страны выигрывают
	выигрывает только США

Задание

Порядковый номер задания	196
Тип	6
Вес	1

Верны ли данные утверждения? А) ВТО создана в 1998 г. В) ТНК являются сторонниками глобализации. Подберите правильный ответ.	
	А – да, В – да
	А – да, В – нет
+	А – нет, В – да
	А – нет, В – нет

Задание

Порядковый номер задания	197
Тип	2
Вес	1

Рыночные факторы, определяющие прямое зарубежное инвестирование ТНК:	
+	объем зарубежного рынка
+	создание экспортной базы для экспорта своих товаров и услуг в третьи страны
	доступ к определенным видам природных, научно-технических, трудовых и прочих ресурсов
	нетарифные барьеры

Задание

Порядковый номер задания	198
Тип	2
Вес	1

Наибольшее количество ТНК имеют:	
+	США
+	Великобритания
+	Франция
	Норвегия
	Канада

Задание

Порядковый номер задания	199
Тип	1
Вес	1

Формирование торговых блоков, ослабление глобального управления, реализация национальных интересов, усиление маргинализации Юга - _____ подход к оценке процесса глобализации.	
+	скептический
	революционный
	эволюционный
	оптимистический

Задание

Порядковый номер задания	200
Тип	1
Вес	1

Дж. Розенау и А. Гидденс – сторонники _____ подхода к оценке процесса глобализации.	
+	эволюционного
	революционного
	скептического
	дискретного

3. ФОНД ОЦЕНОЧНЫХ СРЕДСТВ ДЛЯ ПРОВЕДЕНИЯ ПРОМЕЖУТОЧНОЙ АТТЕСТАЦИИ

Источники географической информации. Методы географических исследований

Тип	Группа
Вес	12

Задание

Порядковый номер задания	1
Тип	3
Вес	1

Установите соответствие источников географической информации и их предназначение:	
Карты и атласы	определение местоположения объекта
Путешествия и экспедиции	расширение кругозора, получение наглядной информации
Аэрокосмические снимки	изучение местности, ее рельефа и природы
Геоинформационные системы	навигация, автоматизация процессов сбора и анализа данных

Задание

Порядковый номер задания	2
Тип	4
Вес	1

_____ — это отображение земной поверхности в уменьшенном виде, нанесенное на какую-нибудь плоскость с последующим соблюдением специальных математических закономерностей, и отображением расположения, а также совмещения и объединения разнообразных явлений природы и общества.
Карта

Задание

Порядковый номер задания	3
Тип	6
Вес	1

Верны ли данные утверждения? А) План, в отличие от карты, охватывает большую по площади территорию. В) Масштаб карты 1 : 500 000 – крупный. Подберите правильный ответ.	
	А – да, В – да
	А – да, В – нет
	А – нет, В – да
+	А – нет, В – нет

Задание

Порядковый номер задания	4
Тип	2
Вес	1

К крупномасштабным картам относится:	
+	1 : 200 000
+	1 : 100 000
	1 : 600 000
	1 : 1 000 000

Задание

Порядковый номер задания	5
Тип	1
Вес	1

Мелкомасштабная карта – это	
+	1 : 1 000 000
	1 : 800 000
	1 : 600 000
	1 : 400 000
	1 : 200 000

Задание

Порядковый номер задания	6
Тип	2
Вес	1

Перечислите источники географической информации:	
+	нормативно-правовые источники
+	социологические опросы
+	карты
	художественные фильмы

Задание

Порядковый номер задания	7
Тип	4
Вес	1

_____ система – это информационная система, обеспечивающая сбор, хранение, обработку, анализ и отображение пространственных данных и связанных с ними непространственных, а также получение на их основе информации и знаний о геопространстве.
Геоинформационная

Задание

Порядковый номер задания	8
Тип	5
Вес	1

Расположите в хронологической последовательности:
Описание океанов, рек и гор в «Махабхарата»
8-томное сочинение «География» Птолемея
Путешествие А. Никитина за три моря
Открытие полюсов Земли

Задание

Порядковый номер задания	9
Тип	5
Вес	1

Расположите в хронологической последовательности:
Создание Географического департамента
Образование Русского географического общества
Открытие Северного полюса
Открытие Южного полюса

Задание

Порядковый номер задания	10
Тип	1
Вес	1

Первым Южный полюс Земли покорил	
+	Руал Амундсен
	Жак Ив Кусто
	Роберт Пири
	Джеймс Кук

Задание

Порядковый номер задания	11
Тип	1
Вес	1

Самое короткое географическое название – в	
+	Швеции
	Финляндии
	Китае
	России

Задание

Порядковый номер задания	12
Тип	1
Вес	1

Глубина Марианской впадины _____ метров.	
+	10971
	11893
	8964
	9872

Задание

Порядковый номер задания	13
Тип	6
Вес	1

Верны ли данные утверждения? А) Самое длинное географическое название – в Таиланде. В) Самый крупный город в мире расположен в Китае. Подберите правильный ответ.	
+	А – да, В – да
	А – да, В – нет
	А – нет, В – да
	А – нет, В – нет

Задание

Порядковый номер задания	14
Тип	4
Вес	1

_____ — это метод научного исследования и обобщения, суть которого заключается в том, что изучаемые объекты, явления или процессы упорядочиваются в определенные группы, на основе каких-либо избранных признаков.
Классификация

Задание

Порядковый номер задания	15
Тип	1
Вес	1

Основоположителем системного метода был	
+	Людвиг фон Бергаланфи
	Михаил Ломоносов
	Николай Пржевальский
	Марко Поло

Задание

Порядковый номер задания	16
Тип	4
Вес	1

_____ — это часть территории, выделенная по одному признаку.
Ареал

Задание

Порядковый номер задания	17
Тип	4
Вес	1

_____ - это разделение территории на зоны с различной интенсивностью или плотностью какого-либо признака.
Зонирование

Задание

Порядковый номер задания	18
Тип	2
Вес	1

Дистанционные географические исследования – это :	
+	аэрокосмический мониторинг
+	наблюдения за природными объектами с судов или береговых сооружений
	классификация
	картографирование

Задание

Порядковый номер задания	19
Тип	1
Вес	1

3-летний географический прогноз – это _____ прогноз.	
+	среднесрочный
	краткосрочный
	долгосрочный
	оперативный
	сверхдолгосрочный

Задание

Порядковый номер задания	20
Тип	6
Вес	1

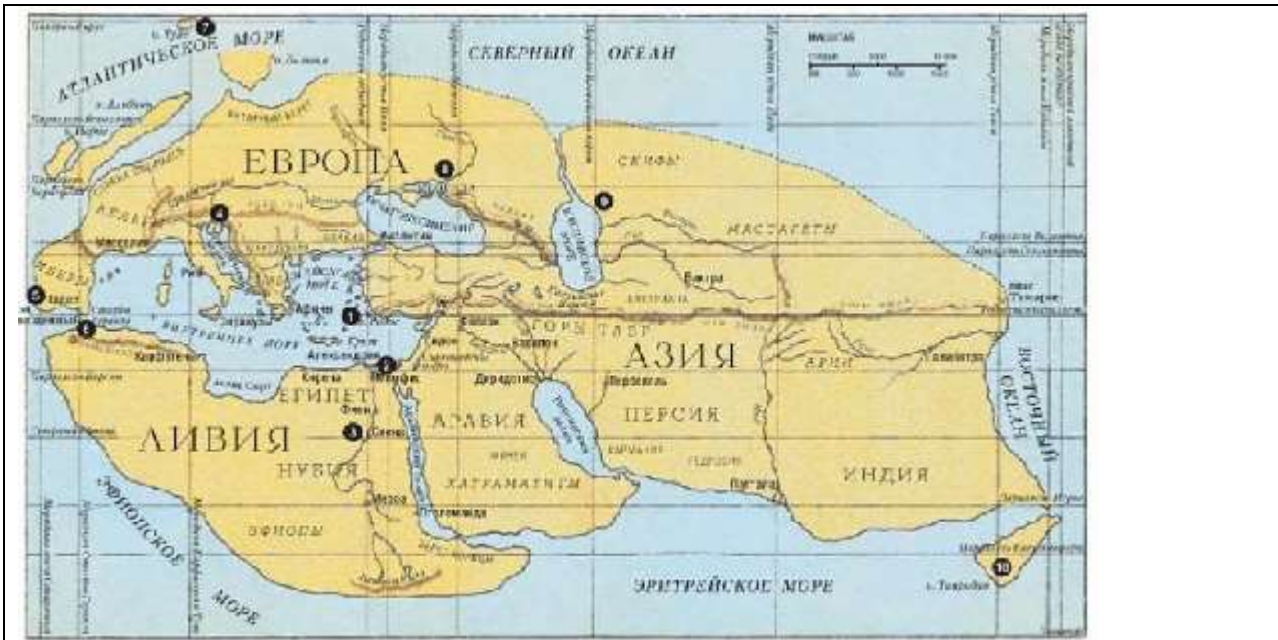
Верны ли данные утверждения? А) Экономико-математические методы в географии получили развитие с появлением компьютеров и компьютерных систем. В) Экономико-математические методы широко представлены в географии населения. Подберите правильный ответ.	
+	А – да, В – да
	А – да, В – нет
	А – нет, В – да
	А – нет, В – нет

Географические карты

Тип	Группа
Вес	12

Задание

Порядковый номер задания	21
Тип	1
Вес	1



На рисунке – карта мира по

+	Эратосфену
	Птолемию
	Бейхаму
	Меркатору

Задание

Порядковый номер задания	22
Тип	1
Вес	1

Карта мира по Птолемию была составлена в

+	II в. н.э.
	I в. до н.э.
	XV в. н.э.
	VII в. н.э.

Задание

Порядковый номер задания	23
Тип	5
Вес	1

Расположите в хронологической последовательности географические карты:

Карта Эратосфена
Карта Птолемя
Глобус Бейхама
Атлас Меркатора

Задание

Порядковый номер задания	24
Тип	4
Вес	1

На карте Птолемя земли вокруг _____ моря показаны точно, а земли по краю Ойкумены - часто неправильно.

Средиземного

Задание

Порядковый номер задания	25
Тип	2
Вес	1

Континенты, представленные на глобусе Бейхама:	
+	Африка
+	Евразия
	Америка
	Австралия

Задание

Порядковый номер задания	26
Тип	4
Вес	1

_____ — это набор карт.
Атлас

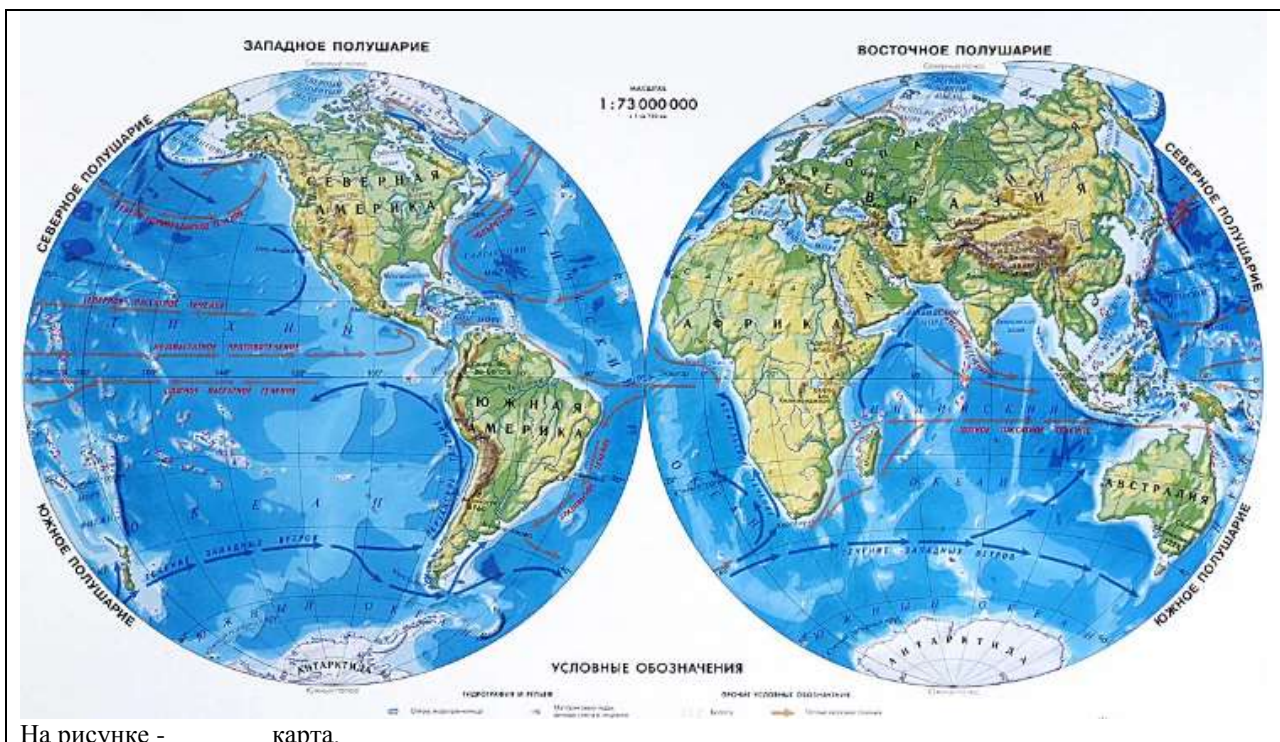
Задание

Порядковый номер задания	27
Тип	1
Вес	1

Набор карт, названный в честь древнегреческого героя, составлен	
+	Меркатором
	Бейхамом
	Птоломеем
	Эратосфеном

Задание

Порядковый номер задания	28
Тип	1
Вес	1



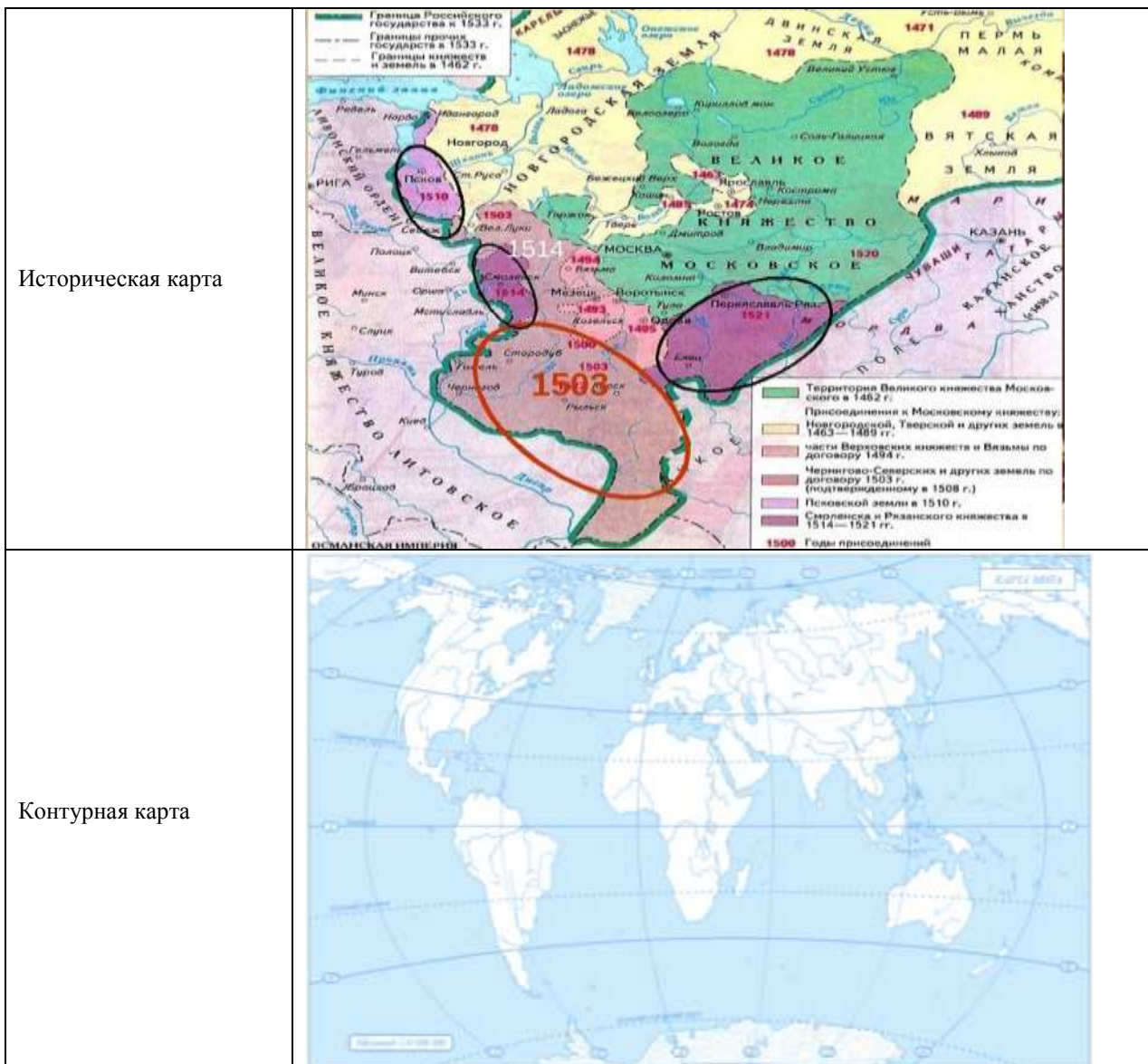
+	физическая
	политическая
	контурная
	климатическая
	гидро-материковая

Задание

Порядковый номер задания	29
Тип	3
Вес	1

Установите соответствие:

<p>Физическая карта</p>	
<p>Политическая карта</p>	



Задание


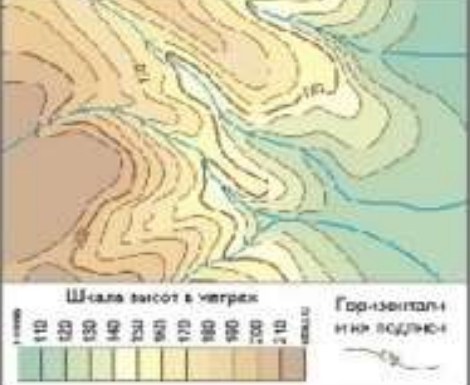


Порядковый номер задания	30
Тип	4
Вес	1

_____ — это трехмерная модель Земли.
Глобус

Задание

Порядковый номер задания	31
Тип	3
Вес	1





Установите соответствие способов изображения в географии:

<p>Способ значков</p>	 <p>Обработка ископаемой промышленности</p> <ul style="list-style-type: none"> ● малая мощность из ● средняя ● нефтеперерабатывающая ● производство строительных материалов ● химия <p>Добыча</p> <ul style="list-style-type: none"> ▲ нефть ■ каменного угля
<p>Способ изолиний</p>	 <p>Шкала высот в метрах</p> <p>110 120 130 140 150 160 170 180 190 200 210</p> <p>Горизонталь и др. подлин.</p>
<p>Способ количественного фона</p>	 <p>Глубина расчленения рельефа в метрах превышение над уровнем рек</p> <p>менее 100 100 200 200 300 300 400 400 более</p>
<p>Способ линейных знаков</p>	 <ul style="list-style-type: none"> --- Границы областей — Железные дороги — Автодороги — Нефтепроводы — Газопроводы — Реки

Задание

Порядковый номер задания	32
Тип	3
Вес	1

Установите соответствие обозначений полезных ископаемых на картах:

Каменный уголь	
Нефть	
Природный газ	
Вольфрамовые руды	

Задание

Порядковый номер задания	33
Тип	3
Вес	1

На картах могут быть изображены [1] – линии равных температур – и [2] – линии равного атмосферного давления. Залежи полезных ископаемых на картах обозначается [3]. [4] на картах обозначают области распространения какого-нибудь явления.

Установите соответствие:

1	изотермы
2	изобары
3	вне масштабные значки
4	ареалы

Задание

Порядковый номер задания	34
Тип	1
Вес	1

Масштаб карты 1: 10 000 000 означает, что в 1 см

+	100 км
	10 тыс.км
	10 км
	1 тыс.км

Задание

Порядковый номер задания	35
Тип	4
Вес	1

Масштаб карты 1: 5 000 000.

Расстояние на карте между двумя точками 3 см.

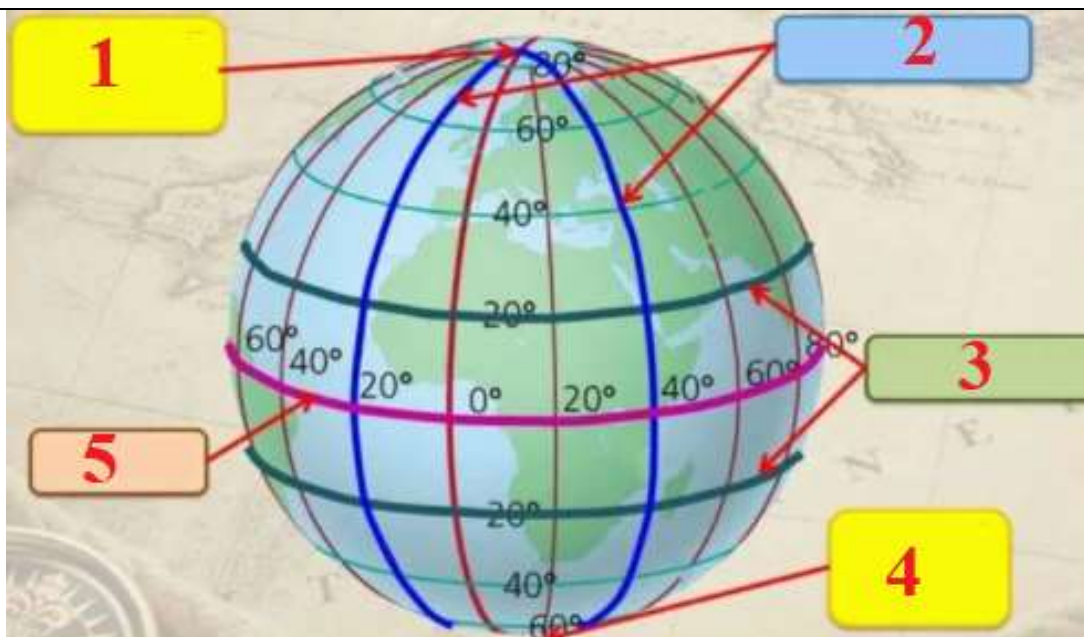
Реальное расстояние между двумя объектами - ____ км.

(В ответе укажите число цифрами)

150

Задание

Порядковый номер задания	36
Тип	3
Вес	1



Установите соответствие:

Северный полюс	1
Меридианы	2
Параллели	3
Южный полюс	4
Экватор	5

Задание

Порядковый номер задания	37
Тип	3
Вес	1

[1] – 40 тыс.км-линия, находящаяся на равном расстоянии от [2]. [3] – линии, пересекающие земной шар через [2]. Параллельно [1] расположены [4].

Установите соответствие:

1	экватор
2	полюс
3	меридиан
4	параллель

Задание

Порядковый номер задания	38
Тип	4
Вес	1

Длина экватора - ____ тыс.км.
(В ответе укажите число цифрами)

40

Задание

Порядковый номер задания	39
Тип	2
Вес	1

При чтении карты необходимо:

+	Определить масштаб карты
+	Определить ориентацию карты
+	Узнать возраст карты
+	Узнать высоту сечения карты

	Определить место своего нахождения на карте
--	---

Задание

Порядковый номер задания	40
Тип	6
Вес	1

Верны ли данные утверждения? А) Квадрокоптер – это синоним мультикоптера. Б) Если самолет летит высоко над землей, то масштаб аэрофотоснимка оказывается мелким. Подберите правильный ответ.	
	А – да, Б – да
	А – да, Б – нет
+	А – нет, Б – да
	А – нет, Б – нет

ГИС. Сравнения в географии

Тип	Группа
Вес	12

Задание

Порядковый номер задания	41
Тип	3
Вес	1

В ГИС на этапе ввода данных можно использовать [1]. Манипулирование данными включает в себя [2]. Для управления данными в ГИС используют [3]. ГИС могут визуализировать данные в виде [4]. Установите соответствие:	
1	дигитайзер
2	масштабирование
3	СУБД
4	карта

Задание

Порядковый номер задания	42
Тип	2
Вес	1

Перечислите ГИС по уровню управления:	
+	региональные гис
+	корпоративные гис
	картографические гис
	геологические гис

Задание

Порядковый номер задания	43
Тип	2
Вес	1

Перечислите ГИС по предметной области:	
+	Городские ГИС
+	Геологические ГИС
+	Природоохранные ГИС
	Федеральные ГИС

Задание

Порядковый номер задания	44
Тип	1
Вес	1

Использование больших динамических рядов для ретроспективного анализа и прогноза в географии лежит в основе	
+	сравнения во времени
	пространственного сравнения
	пространственно-временного сравнения
	международных сравнений

Задание

Порядковый номер задания	45
Тип	2
Вес	1

Подберите правильные варианты продолжения фразы: «По плотности населения и дорожной сети европейская территория России ...».	
+	превосходит азиатскую в 8 раз
+	уступает зарубежной Европе в 3 раза
	превосходит зарубежную Европу в 2 раза
	уступает азиатской в 5 раз

Задание

Порядковый номер задания	46
Тип	2
Вес	1

Целесообразно с точки зрения географии сравнивать:	
+	Россию и Канаду
+	Норвегию и Швецию
+	Конго и Амазонку
+	Норвегию и Чили
	Россию и Великобританию

Задание

Порядковый номер задания	47
Тип	6
Вес	1

Верны ли данные утверждения? А) В географии производят сравнение с целью выявления причин и следствий различий. Б) При сравнении двух географических объектов надо последовательно подробно описать каждый объект. Подберите правильный ответ.	
	А – да, Б – да
+	А – да, Б – нет
	А – нет, Б – да
	А – нет, Б – нет

Задание

Порядковый номер задания	48
Тип	2
Вес	1

Укажите страны, протянувшиеся вдоль морского берега с севера на юг, их границами с материковой стороны служат горы, находятся в разных полушариях и стремятся к 57 параллели, не пересекая ее, но с

разных сторон.	
+	Чили
+	Норвегия
	Швеция
	Аргентина

Задание

Порядковый номер задания	49
Тип	6
Вес	1

Верны ли данные утверждения?	
А) Целесообразно сравнивать долги сравниваемых территорий, так как от них зависят многие характеристики климата.	
В) Кольский полуостров – часть Балтийского щита, поэтому на нем нет нефти и газа.	
Подберите правильный ответ.	
	А – да, В – да
	А – да, В – нет
+	А – нет, В – да
	А – нет, В – нет

Задание

Порядковый номер задания	50
Тип	2
Вес	1

Реки Амазона и Конго:	
+	схожи по расположению в при экваториальных областях
+	отличаются бассейном и стоком
	схожи по расположению в низменном рельефе
	схожи по расположению на одном континенте

Политическая карта мира. Суверенные государства и несамоуправляющиеся государственные образования

Тип	Группа
Вес	12

Задание

Порядковый номер задания	51
Тип	4
Вес	1

_____ география – это раздел географии, занимающийся изучением территориальной расстановки политических сил, систем, обусловленных социально-экономическими, политическими, историческими, этнокультурными, природными факторами, закономерностями и тенденциями.	
Политическая	

Задание

Порядковый номер задания	52
Тип	1
Вес	1

_____ география – это раздел географии, изучающий политические партии, группировки и блоки, и другие территориальные аспекты массовых избирательных кампаний.	
+	Электоральная
	Социальная
	Экономическая

	Геополитическая
--	-----------------

Задание

Порядковый номер задания	53
Тип	1
Вес	1

Существование королевства Португалии, Киевской Руси, Арабского халифата характерно для _____ этапа формирования политической карты мира.	
+	средневекового
	древнего
	нового
	новейшего

Задание

Порядковый номер задания	54
Тип	4
Вес	1

Древний этап формирования политической карты мира оканчивается в ____ г. (В ответе укажите число цифрами)	
410	

Задание

Порядковый номер задания	55
Тип	3
Вес	1

Установите соответствие этапов формирования политической карты мира и государств, существовавших в этот период:	
Древний этап	Месопотамия
Средневековый этап	Монгольская империя
Новый этап	Российская империя
Новейший этап	Китай

Задание

Порядковый номер задания	56
Тип	2
Вес	1

Для Нового этапа формирования политической карты мира характерно:	
+	формирование империи Великих Моголов
+	возникновение Нидерландской колониальной империи
	распад Османской империи
	формирование Римской империи
	распад Римской империи

Задание

Порядковый номер задания	57
Тип	1
Вес	1

Укажите количество государств и государственных образований в мире	
+	250
	193
	197
	286

Задание

Порядковый номер задания	58
Тип	2
Вес	1

Перечислите государства на политической карте до 1990 г.:	
+	Чехословакия
+	ГДР
+	Югославия
	Сербия
	Таджикистан
	Эритрея

Задание

Порядковый номер задания	59
Тип	5
Вес	1

Расположите страны в порядке уменьшения их площади:	
	Россия
	Китай
	Бразилия
	Австралия
	Индия

Задание

Порядковый номер задания	60
Тип	2
Вес	1

Микросоударства – это :	
+	Андорра
+	Сингапур
+	Сан-Марино
	Куба

Задание

Порядковый номер задания	61
Тип	3
Вес	1

Установите соответствие стран по размерам территории:	
Бразилия, Индия	очень большие страны
Алжир, Иран	крупные страны
Италия, Вьетнам	средние страны
Ватикан, Лихтенштейн	микросоударства

Задание

Порядковый номер задания	62
Тип	5
Вес	1

Расположите государства в порядке увеличения численности населения:	
	Россия
	Индонезия

США
Индия
Китай

Задание

Порядковый номер задания	63
Тип	3
Вес	1

Установите соответствие стран и уровня развития ИЧР:	
Страны с очень высоким уровнем ИЧР	Ирландия, Исландия
Страны с высоким уровнем ИЧР	Уругвай, Казахстан
Страны со средним уровнем ИЧР	Молдавия, Мальдивы
Страны с низким уровнем ИЧР	Бурунди, Непал

Задание

Порядковый номер задания	64
Тип	1
Вес	1

_____ — это политическая форма организации общества на определённой территории, политико-территориальная суверенная организация публичной власти, обладающая аппаратом управления и принуждения, которому подчиняется всё население страны.	
+	Государство
	Страна
	Государственное образование
	Ареал

Задание

Порядковый номер задания	65
Тип	2
Вес	1

Государства, обладающие зависимыми территориями:	
+	Голландия
+	Дания
+	Великобритания
	Россия
	Китай
	Германия

Задание

Порядковый номер задания	66
Тип	5
Вес	1

Расположите континенты и части света в порядке увеличения количества независимых государств на их территории:	
	Южная Америка
	Австралия и Океания
	Северная Америка
	Европа
	Азия
	Африка

Задание

Порядковый номер задания	67
Тип	2
Вес	1

Государства Западной Азии:	
+	Грузия
+	Ирак
+	Сирия
	Таджикистан
	Афганистан

Задание

Порядковый номер задания	68
Тип	1
Вес	1

Наиболее высокая плотность населения в государстве	
+	Мальдивы
	Индия
	Китай
	Япония
	Южная Корея
	Монголия

Задание

Порядковый номер задания	69
Тип	1
Вес	1

Государство с наивысшей плотностью населения – это	
+	Сингапур
	Бангладеш
	Бахрейн
	Ватикан

Задание

Порядковый номер задания	70
Тип	2
Вес	1

В Азии и Европе одновременно находятся:	
+	Казахстан
+	Турция
	Йемен
	Египет
	Индонезия

Задание

Порядковый номер задания	71
Тип	2
Вес	1

Частично признанные государства- это :	
+	Южная Осетия
+	Северный Кипр
+	Тайвань

	Израиль
	Грузия

Задание

Порядковый номер задания	72
Тип	2
Вес	1

Островные государства Северной Америки – это :	
+	Сент Люсия
+	Тринидад и Тобаго
	Сальвадор
	Мьянма
	Фиджи
	Палау

Формы правления, типы государственного устройства и формы государственного режима

Тип	Группа
Вес	12

Задание

Порядковый номер задания	73
Тип	2
Вес	1

Перечислите монархические государства:	
+	Бельгия
+	Швеция
+	Саудовская Аравия
+	Оман
	Австрия
	Греция
	Россия
	Турция

Задание

Порядковый номер задания	74
Тип	3
Вес	1

Установите соответствие государств и форм правления:	
Конституционная монархия	Швеция
Абсолютная монархия	Оман
Теократическая монархия	Ватикан
Парламентская республика	Израиль
Президентско-парламентская республика	Россия
Теократическая республика	Иран

Задание

Порядковый номер задания	75
Тип	2
Вес	1

Перечислите социалистические республики:	
+	Вьетнам

+	Китай
+	Куба
	Эстония
	Литва
	Латвия

Задание

Порядковый номер задания	76
Тип	6
Вес	1

Верны ли данные утверждения? А) Республик на политической карте больше, чем монархий. В) В мире унитарных государств больше, чем федеративных государств. Подберите правильный ответ.	
+	А – да, В – да
	А – да, В – нет
	А – нет, В – да
	А – нет, В – нет

Задание

Порядковый номер задания	77
Тип	1
Вес	1

Древнейшая республика – это	
+	Сан-Марино
	Ватикан
	Греция
	Египет

Задание

Порядковый номер задания	78
Тип	2
Вес	1

Перечислите президентские республики:	
+	США
+	Пакистан
+	Аргентина
	ФРГ
	Италия
	Индия

Задание

Порядковый номер задания	79
Тип	1
Вес	1

Не является президентской республикой	
+	Израиль
	Бразилия
	Аргентина
	Пакистан

Задание

Порядковый номер задания	80
--------------------------	----

Тип	1
Вес	1

Самая старая конституционная монархия – это	
+	Великобритания
	Япония
	Саудовская Аравия
	Франция

Задание

Порядковый номер задания	81
Тип	2
Вес	1

Федеративные государства:	
+	Австрия
+	Бельгия
+	ЮАР
	Франция

Задание

Порядковый номер задания	82
Тип	2
Вес	1

Государства, в которых федеративное устройство связано с историко-географическими особенностями:	
+	ФРГ
+	Австрия
+	США
	Россия
	Индия

Задание

Порядковый номер задания	83
Тип	1
Вес	1

Унитарное государство – это	
+	Ливия
	Эфиопия
	Швейцария
	Венесуэла
	Ирак

Задание

Порядковый номер задания	84
Тип	2
Вес	1

К США относится:	
+	Федеративное государство
+	Президентская республика
+	Демократическое государство
	Унитарное государство
	Авторитарное государство
	Парламентская республика
	Конституционная монархия

Задание

Порядковый номер задания	85
Тип	2
Вес	1

Псевдодемократические государства:	
+	КНДР
+	Куба
+	Мьянма
	КНР
	Южная Корея

Задание

Порядковый номер задания	86
Тип	6
Вес	1

Верны ли данные утверждения? А) До 2014 г. Бельгия была федеративным государством, а теперь – унитарное. В) Проблема административно-территориального устройства острее стоит в унитарных государствах, чем в федеративных. Подберите правильный ответ.	
	А – да, В – да
	А – да, В – нет
	А – нет, В – да
+	А – нет, В – нет

Типология стран по уровню социально-экономического развития

Тип	Группа
Вес	12

Задание

Порядковый номер задания	87
Тип	2
Вес	1

Перечислите группы развитых стран:	
+	«Привилегированные малые нации»
+	Страны «переселенческого капитализма»
+	«Азиатские тигры» первой волны
	Страны ОПЕК
	Страны концессионного развития

Задание

Порядковый номер задания	88
Тип	2
Вес	1

Перечислите условия социально-экономического развития развитых стран:	
+	длительный период независимого развития
+	прочные, устоявшиеся демократические традиции
+	общественная зрелость
	приоритетное развитие сферы услуг
	гибкая политическая надстройка
	хорошо отлаженный рыночный механизм

Задание

Порядковый номер задания	89
Тип	2
Вес	1

Перечислите государства из группы «Большая шестерка»:	
+	США
+	Япония
+	ФРГ
+	Франция
+	Великобритания
+	Италия
	Россия
	Канада
	Испания
	Бельгия
	Китай

Задание

Порядковый номер задания	90
Тип	6
Вес	1

Верны ли данные утверждения? А) В мире зарегистрировано более 60 тыс. ТНК. В) Менее 50% ТНК зарегистрированы в странах «Большой шестерки». Подберите правильный ответ.	
	А – да, В – да
+	А – да, В – нет
	А – нет, В – да
	А – нет, В – нет

Задание

Порядковый номер задания	91
Тип	2
Вес	1

«Привилегированные малые нации» в группе развитых государств:	
+	Австрия
+	Ирландия
+	Финляндия
	ФРГ
	ЮАР
	Греция
	Польша

Задание

Порядковый номер задания	92
Тип	3
Вес	1

Установите соответствие государств и групп развитых стран:	
«Большая шестерка»	Франция
«Привилегированные малые нации»	Голландия
Страны «переселенческого капитализма»	Израиль
Среднеразвитые страны Европы	Испания
«Азиатские тигры» первой волны	Сингапур
Бывшие социалистические страны	Чехия

Задание

Порядковый номер задания	93
Тип	2
Вес	1

Азиатские тигры первой волны:	
+	Республика Корея
+	Китайская Республика
	Индонезия
	КНДР
	Бразилия

Задание

Порядковый номер задания	94
Тип	3
Вес	1

Установите соответствие государств и групп развивающихся стран:	
Ключевые страны крупного потенциала	Индия, Мексика
Новые индустриальные страны	Вьетнам, Камбоджа
Финансово избыточные страны-экспортеры нефти и природного газа	Бруней, Ливия
Страны зависимого плантационного хозяйства	Гватемала, Шри-Ланка
Страны концессионного развития	Ямайка, Суринам
Мелкие страны-«квартиросдатчики»	Ливан, Барбадос

Задание

Порядковый номер задания	95
Тип	2
Вес	1

«Гиганты Востока» - это :	
+	Китай
+	Индия
	Бразилия
	Мексика
	Таиланд

Задание

Порядковый номер задания	96
Тип	2
Вес	1

Укажите страны зависимого плантационного хозяйства:	
+	Гватемала
+	Никарагуа
+	Гондурас
	Габон
	Папуа-Новая Гвинея

Задание

Порядковый номер задания	97
Тип	4
Вес	1

_____ – это договор о передаче в эксплуатацию на определенный срок природных богатств, предприятий и других хозяйственных объектов, принадлежащих государству.

Концессия

Задание

Порядковый номер задания	98
Тип	2
Вес	1

Мелкие страны-«квартиросдатчики» - это :	
+	Кипр
+	Ливан
+	Панама
	Бурунди
	Куба

Задание

Порядковый номер задания	99
Тип	2
Вес	1

Беднейшие страны мира:	
+	Лаос
+	Афганистан
+	Бурунди
+	Либерия
	Тунис
	Венесуэла

Задание

Порядковый номер задания	100
Тип	6
Вес	1

Верны ли данные утверждения? А. Группа развивающихся мелких стран-«квартиросдатчиков» специализируется на оффшоринге финансовых услуг. В. Больше всего беднейших стран мира находится в Южной Африке. Подберите правильный ответ.	
	А – да, В – да
+	А – да, В – нет
	А – нет, В – да
	А – нет, В – нет

Взаимодействие человеческого общества и природной среды

Тип	Группа
Вес	12

Задание

Порядковый номер задания	101
Тип	4
Вес	1

Часть природы, с которой человеческое общество непосредственно взаимодействует в своей жизни и производственной деятельности на данном этапе исторического развития, - это _____ среда. географическая

Задание

Порядковый номер задания	102
Тип	6
Вес	1

Верны ли данные утверждения?

А) «Мы не можем ждать милостей от природы, взять их у нее – наша задача» - позиция географического нигилизма.

В) Преувеличение роли географической среды называется географическим детерминизмом.

Подберите правильный ответ.

+	А – да, В – да
	А – да, В – нет
	А – нет, В – да
	А – нет, В – нет

Задание

Порядковый номер задания	103
Тип	1
Вес	1

Географический фатализм и нигилизм выделил

+	Баранский Н.Н.
	Беррг Л.С.
	Герасимов И.П.
	Калесник С.В.

Задание

Порядковый номер задания	104
Тип	1
Вес	1

Укажите верное утверждение.

+	Окружающая среда = природная среда + антропогенная среда
	Окружающая среда = природная среда
	Антропогенная среда = окружающая среда + природная среда
	Антропогенная среда = природная среда – окружающая среда

Задание

Порядковый номер задания	105
Тип	1
Вес	1

Антропогенные ландшафты занимают _____ процентов земной суши.

+	60
	30
	80
	90

Задание

Порядковый номер задания	106
Тип	3
Вес	1

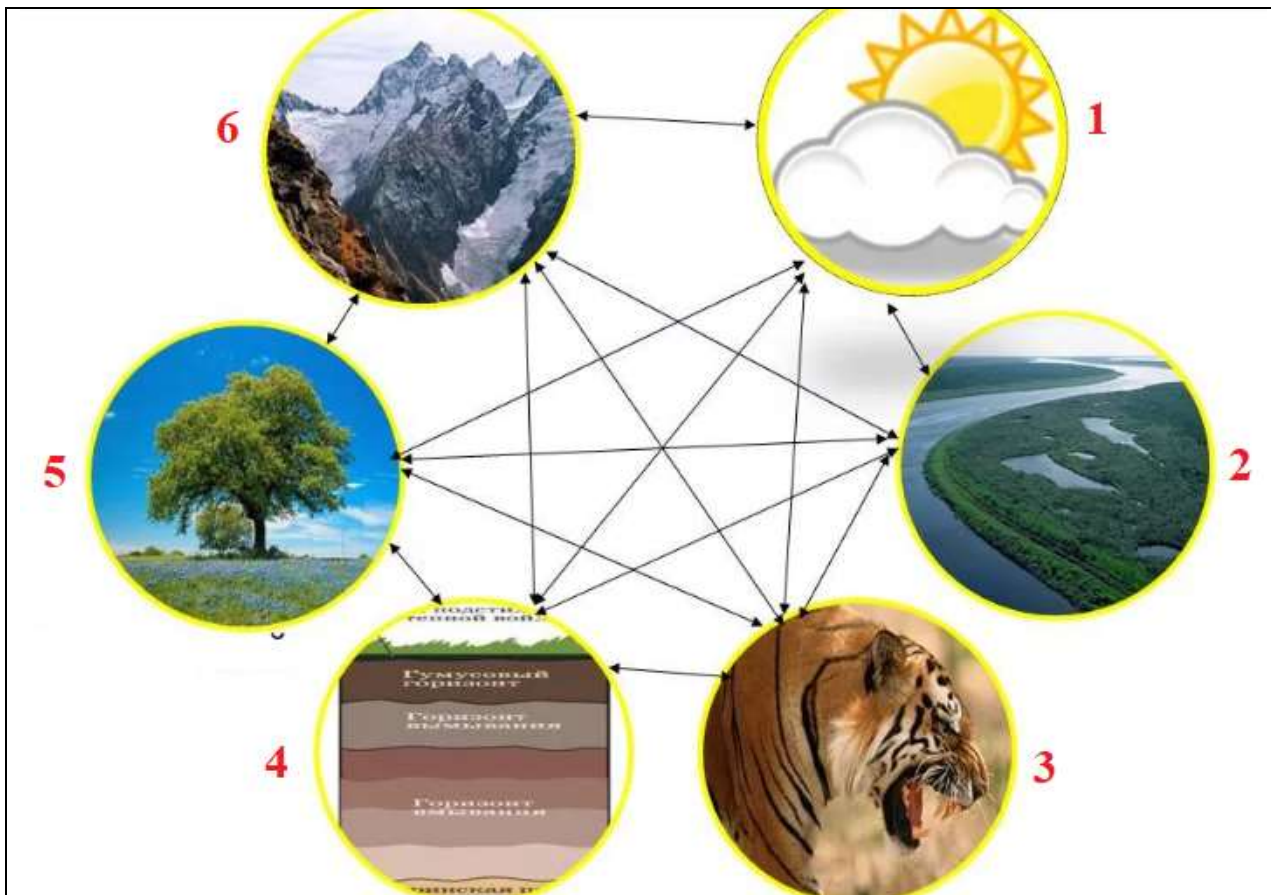
Установите соответствие территорий и долей территорий, не затронутых антропогенной деятельностью:

Северная Америка	38%
Зарубежная Азия	14%
Зарубежная Европа	3%

Антарктика	95%
------------	-----

Задание

Порядковый номер задания	107
Тип	3
Вес	1



Установите соответствие компонентов природного комплекса:

1	климат и воздушные массы
2	воды
3	животные
4	почвы
5	растения
6	горные породы и рельеф

Задание

Порядковый номер задания	108
Тип	2
Вес	1

Перечислите крупные природные комплексы:

+	материки
+	океаны
	географическая оболочка
	лес
	луг
	пойма реки

Задание

Порядковый номер задания	109
--------------------------	-----

Тип	2
Вес	1

Перечислите азональные природные зоны:	
+	материки
+	природные страны
+	океаны
	географические пояса

Задание

Порядковый номер задания	110
Тип	3
Вес	1

Установите соответствие антропогенных природных комплексов:	
Условно измененные комплексы	Арктика
Слабо измененные комплексы	Выборочная вырубка лесов
Нарушенные комплексы	Засоление почв
Культурные ландшафты	Создание оптимальной среды для жизни людей, для укрепления их здоровья

Задание

Порядковый номер задания	111
Тип	1
Вес	1

За XX в. производство выросло в _____ раз.	
+	19
	5
	12
	36

Задание

Порядковый номер задания	112
Тип	6
Вес	1

Верны ли данные утверждения? А) В XX в. объемы потребляемого природного сырья удваивались каждые четверть века. В) Минимальное воздействие на природную среду было при феодальном строе. Подберите правильный ответ.	
	А – да, В – да
	А – да, В – нет
	А – нет, В – да
+	А – нет, В – нет

Задание

Порядковый номер задания	113
Тип	1
Вес	1

Первый закон об охране окружающей среды принят в _____ году.	
+	1273
	1338
	1703
	1424

988

Задание

Порядковый номер задания	114
Тип	4
Вес	1

Загрязнение окружающей среды, связанное с поступлением в нее неизвестных природе веществ и соединений, создаваемых в первую очередь промышленностью органического синтеза - это _____
качественное

Задание

Порядковый номер задания	115
Тип	1
Вес	1

На каждого жителя Москвы в среднем за год приходится _____ кг мусора.
+ 300
150
700
50

Задание

Порядковый номер задания	116
Тип	6
Вес	1

Верны ли данные утверждения? А) Азовское море грязнее Адриатического. В) Нефтяные разливы не представляют опасности для Мирового океана, потому что они занимают очень малую площадь. Подберите правильный ответ.
A – да, B – да
+ A – да, B – нет
A – нет, B – да
A – нет, B – нет

Задание

Порядковый номер задания	117
Тип	1
Вес	1

SO ₂ - это
+ сернистый газ
углекислый газ
угарный газ
озон

Задание

Порядковый номер задания	118
Тип	1
Вес	1

Экологически критические районы в России занимают _____ процентов территории.
+ 15
5

	25
	40

Задание

Порядковый номер задания	119
Тип	5
Вес	1

Расположите страны в порядке снижения экологического дефицита:	
	Индия
	США
	Австралия
	Бразилия

Задание

Порядковый номер задания	120
Тип	4
Вес	1

Первая Конференция ООН по проблемам окружающей среды состоялась в _____ году. 1972

Задание

Порядковый номер задания	121
Тип	2
Вес	1

Объекты Всемирного природного наследия в России:	
+	Озеро Байкал
+	Ленские Столбы
+	вулканы Камчатки
	Валаам

Задание

Порядковый номер задания	122
Тип	1
Вес	1

Модель экономического развития, предполагающая ответственное отношение человека к ресурсам Земли – это	
+	зеленая экономика
	экологизация
	антизагрязнение
	гринпис

Природные ресурсы и ресурсообеспеченность

Тип	Группа
Вес	12

Задание

Порядковый номер задания	123
Тип	6
Вес	1

Верны ли данные утверждения?

А) Природные ресурсы – совокупность естественных тел, веществ и явлений природы, которые на данном уровне развития производительных сил существенны для жизни и деятельности человеческого общества, хотя и не участвуют непосредственно в сфере материального производства.	
В) Природные условия – совокупность естественных тел, веществ и явлений природы, которые человек использует для достижения целей, направленных на обеспечение своего существования.	
Подберите правильный ответ.	
	А – да, В – да
	А – да, В – нет
	А – нет, В – да
+	А – нет, В – нет

Задание

Порядковый номер задания	124
Тип	3
Вес	1

Установите соответствие:	
Возобновимые природные ресурсы	способные к самовоспроизводству природные ресурсы
Исчерпаемые природные ресурсы	природные физические тела и явления, количество и качество которых существенно изменяются в процессе длительного природопользования
Невозобновимые природные ресурсы	природные ресурсы, образовавшиеся в недрах земли в течение миллионов лет, длительное пользование которыми приводит к истощению их запасов, пополнение которых практически невозможно
Неисчерпаемые природные ресурсы	природные физические явления и тела, количество и качество которых практически не меняется или меняется лишь неощутимо в процессе длительного природопользования

Задание

Порядковый номер задания	125
Тип	2
Вес	1

Относительно возобновимые природные ресурсы:	
+	лесные ресурсы
+	плодородие почв
	пресная вода
	животный мир
	минеральные ресурсы

Задание

Порядковый номер задания	126
Тип	4
Вес	1

_____ - это соотношение между величиной природных ресурсов и размерами их использования, выражаемое в количестве лет, на которые должно хватить данного ресурса.
Ресурсообеспеченность

Задание

Порядковый номер задания	127
Тип	2
Вес	1

Руды цветных металлов:	
+	Бокситы
+	Нефелины

+	Алуниты
	Фосфориты
	Апатиты
	Нектон

Задание

Порядковый номер задания	128
Тип	3
Вес	1

Установите соответствие мировых запасов полезных ископаемых:	
Общегеологический запас угля	5500 млрд.т
Общегеологический запас нефти	500 млрд.т
Разведанный запас природного газа	150 трлн.м ³
Разведанный запас железной руды	200 млрд.т

Задание

Порядковый номер задания	129
Тип	1
Вес	1

Разведанный запасы минеральных ресурсов включают категории запасов:	
+	A, B, C1
	A, B
	A, B, C, D
	C2, D

Задание

Порядковый номер задания	130
Тип	2
Вес	1

Крупнейшие запасы хромитов имеют страны:	
+	ЮАР
+	Зимбабве
+	Индия
	Китай
	Россия
	Австралия

Задание

Порядковый номер задания	131
Тип	3
Вес	1

Установите соответствие минеральных ресурсов и количества извлеченного сырья за историю человечества:	
200 млрд т	уголь
100 млрд т	нефть
50 млрд т	железная руда
2 млрд т	бокситы
100 тыс. т	золото

Задание

Порядковый номер задания	132
Тип	3
Вес	1

Установите соответствие угольных бассейнов и стран:	
Канско-Ачинский	Россия
Рурский	ФРГ
Верхнесилезский	Польша
Фушуньский	Китай

Задание

Порядковый номер задания	133
Тип	6
Вес	1

Верны ли данные утверждения?	
А) Мировые урановые запасы распределены между Австралией, Россией, Кыргызстаном, Чили и Китаем.	
В) Самыми большими запасами медных руд обладают Россия и Австралия.	
Подберите правильный ответ.	
	А – да, В – да
	А – да, В – нет
	А – нет, В – да
+	А – нет, В – нет

Задание

Порядковый номер задания	134
Тип	2
Вес	1

Геотермальные ресурсы велики в странах:	
+	Исландия
+	Италия
+	Новая Зеландия
	ОАЭ
	Канада
	Великобритания

Задание

Порядковый номер задания	135
Тип	3
Вес	1

Установите соответствие размера и структуры мирового земельного фонда:	
Обрабатываемые земли	11%
Луга и пастбища	26%
Леса и кустарники	32%
Земли населенных пунктов	3%

Задание

Порядковый номер задания	136
Тип	1
Вес	1

Среднемировой показатель обеспеченности пашней на душу населения	
+	0,2 га
	0,5 га
	0,9 га
	3 га
	0,05 га

Задание

Порядковый номер задания	137
Тип	1
Вес	1

Ресурсы пресной воды составляют _____ % общего объема гидросферы.	
+	3
	33
	20
	1

Задание

Порядковый номер задания	138
Тип	5
Вес	1

Расположите страны в порядке увеличения гидроэнергетического потенциала:	
	Норвегия
	Россия
	Бразилия
	Китай

Задание

Порядковый номер задания	139
Тип	6
Вес	1

Верны ли данные утверждения? А) Ресурсы ветровой энергии сосредоточены в аридном поясе. В) Ресурсы солнечной энергии сосредоточены в умеренном поясе. Подберите правильный ответ.	
	А – да, В – да
	А – да, В – нет
	А – нет, В – да
+	А – нет, В – нет

Территориальные сочетания природных ресурсов и природно-ресурсный потенциал

Тип	Группа
Вес	12

Задание

Порядковый номер задания	140
Тип	1
Вес	1

_____ - это совокупность различных видов природных ресурсов, сосредоточенных на какой-либо ограниченной территории, которые уже вовлечены или могут быть вовлечены в будущем в хозяйственное использование.	
+	ТСПР
	ПРП
	ОПТ
	МСОП

Задание

Порядковый номер задания	141
Тип	1
Вес	1

Восток Украины и Восток Индии благоприятны для развития	
+	черной металлургии
	цветной металлургии
	алюминиевой промышленности
	целлюлозно-бумажной промышленности

Задание

Порядковый номер задания	142
Тип	2
Вес	1

Наиболее благоприятные в мире районы для развития черной металлургии полного цикла:	
+	Донбасс
+	Приднепровье
+	Плато Чхота-Нагрупп
	Венесуэла

Задание

Порядковый номер задания	143
Тип	3
Вес	1

Установите соответствие районов и благоприятных к развитию в них отраслей экономики:	
Чхота-Нагрупп	черная металлургия
Бразилия	алюминиевая промышленность
Иркутская область	целлюлозно-бумажная промышленность
Липецк	производство стройматериалов

Задание

Порядковый номер задания	144
Тип	1
Вес	1

_____ - это совокупность природных ресурсов, которые могут быть использованы в хозяйственной деятельности с учетом научно-технического прогресса.	
+	ПРП территории
	ТСРП
	Ресурсный цикл территории
	Геоэкологический потенциал

Задание

Порядковый номер задания	145
Тип	2
Вес	1

Крупные страны, обладающие наибольшим природно-ресурсным потенциалом:	
+	Россия
+	Китай
+	Австралия
	Норвегия
	Саудовская Аравия

Задание

Порядковый номер задания	146
Тип	2
Вес	1

Северные страны, обладающие наибольшим природно-ресурсным потенциалом:	
+	Швеция
+	Норвегия
+	Финляндия
	Габон
	Гана
	Малайзия

Задание

Порядковый номер задания	147
Тип	5
Вес	1

Расположите российские регионы в порядке уменьшения потенциала лесных ресурсов:	
	Восточная Сибирь
	Дальний Восток
	Западная Сибирь
	Европейский Север и Северо-Запад
	Урало-Поволжье

Задание

Порядковый номер задания	148
Тип	1
Вес	1

Наибольшим ресурсным потенциалом железной руды обладает регион	
+	Центральная Россия
	Урало-Поволжье
	Восточная Сибирь
	Европейский юг

Задание

Порядковый номер задания	149
Тип	2
Вес	1

Наибольшим гидроэнергетическим потенциалом обладают 2 региона:	
+	Восточная Сибирь
+	Дальний Восток
	Западная Сибирь
	Европейский Юг
	Центральная Россия

Задание

Порядковый номер задания	150
Тип	4
Вес	1

_____ — это наука, которая с географических позиций изучает процессы и явления, возникающие в окружающей природной среде в результате антропогенного вмешательства в нее.
Геоэкология

Численность и структура населения мира

Тип	Группа
Вес	12

Задание

Порядковый номер задания	151
Тип	4
Вес	1

Численность населения Земли в 2021 г. - ___ млрд.чел. (В отчете укажите целое число цифрами)
8

Задание

Порядковый номер задания	152
Тип	1
Вес	1

В начале XXI в. приращение 1 млрд.чел. происходило за _____ лет.	
+	12
	14
	10
	8

Задание

Порядковый номер задания	153
Тип	3
Вес	1

[1] % населения мира проживает в развивающихся странах, обеспечивающих [2] % его ежегодного прироста. В Австралии и Океании проживает [3] млн.чел. Ежегодный прирост населения в Африке – [4] млн.чел. Установите соответствие и заполните пропуски:	
1	81
2	98
3	43
4	26

Задание

Порядковый номер задания	154
Тип	5
Вес	1

Расположите части света в порядке снижения численности населения:
Азия
Африка
Европа
Центральная и Южная Америка
Северная Америка

Задание

Порядковый номер задания	155
Тип	2
Вес	1

Страны, имеющие численность населения более 100 млн.чел.:	
+	Пакистан
+	Мексика
+	Филиппины
	Аргентина
	Австралия

Задание

Порядковый номер задания	156
Тип	4
Вес	1

За год родилось 3,6 млн.детей, умерло – 1,9 млн.чел. Естественный прирост населения равен ___ млн.чел. (В ответе запишите число через запятую)
1,7

Задание

Порядковый номер задания	157
Тип	4
Вес	1

В стране естественный прирост населения – 8%. Это _____ - воспроизводство населени. простое

Задание

Порядковый номер задания	158
Тип	1
Вес	1

Рождаемость - 45‰, смертность - 25‰. Это фаза	
+	демографического взрыва
	простого воспроизводства
	расширенного воспроизводства (фаза 2)
	сужающегося воспроизводства

Задание

Порядковый номер задания	159
Тип	1
Вес	1

В 1-й фазе расширенного воспроизводства находятся	
+	большинство стран Африки
	большинство стран Азии
	многие страны Латинской Америки
	развитые страны Западной Европы и Северной Америки

Задание

Порядковый номер задания	160
Тип	2
Вес	1

Развивающиеся страны, переходящие от расширенного воспроизводства к простому – это:	
+	Таиланд

+	Тунис
+	Бразилия
	Лаос

Задание

Порядковый номер задания	161
Тип	2
Вес	1

Страны с относительно высоким естественным приростом – это:	
+	Израиль
+	Ирландия
	Германия
	Япония

Задание

Порядковый номер задания	162
Тип	4
Вес	1

_____ - это выезд человека из страны в другую страну на постоянное место жительства.
Эмиграция

Задание

Порядковый номер задания	163
Тип	6
Вес	1

Верны ли данные утверждения? А. Регулярное, обычно ежедневное, перемещение населения из одного населенного пункта в другой, обычно на работу или учебу и обратно – маятниковая миграция. Б. Фертильным считается возраст 18-49 лет. Подберите правильный ответ.	
	А – да, В – да
+	А – да, В – нет
	А – нет, В – да
	А – нет, В – нет

Задание

Порядковый номер задания	164
Тип	3
Вес	1

Установите соответствие стран и коэффициентов фертильности:	
Нигер	7,0
Уганда	6,1
Южная Корея	1,2
Сингапур	0,8

Задание

Порядковый номер задания	165
Тип	1
Вес	1

Исторически сложившаяся большая группа людей, имеющих сходные, передаваемые по наследству внешние (телесные) признаки:	
+	Раса

	Нация
	Этнос
	Народ

Задание

Порядковый номер задания	166
Тип	6
Вес	1

Верны ли данные утверждения?	
А) Потомки европеоидов и негроидов – метисы.	
В) Потомки европеоидов и монголоидов – мулаты.	
Подверите правильный ответ.	
	А – да, В – да
	А – да, В – нет
	А – нет, В – да
+	А – нет, В – нет

Задание

Порядковый номер задания	167
Тип	1
Вес	1

Самая многочисленная языковая семья – это	
+	индоевропейская
	китайско-тибетская
	алтайская
	романская

Задание

Порядковый номер задания	168
Тип	2
Вес	1

Мировые религии:	
+	христианство
+	буддизм
+	ислам
	католицизм
	иудаизм
	индуизм
	синтоизм


Задание

Порядковый номер задания	169
Тип	2
Вес	1

Страны-лидеры по доле детей в возрастной структуре населения:	
+	Нигер
+	Уганда
+	Мали
	Катар
	Германия
	Италия

Задание

Порядковый номер задания	170
Тип	1
Вес	1



На рисунке изображена демографическая пирамида России за _____ год.

+	2002
	2017
	1989
	1970

Качество жизни. Трудовые ресурсы

Тип	Группа
Вес	12

Задание

Порядковый номер задания	171
Тип	3
Вес	1

Установите соответствие регионов и ожидаемой продолжительности жизни в 2020 г.:

Восточное Средиземноморье	69,7
Африка	64,5
Юго-Восточная Азия	71,4
Европа	78,2

Задание

Порядковый номер задания	172
Тип	2
Вес	1

Страны с наибольшей продолжительностью жизни:

+	Монако
+	Сингапур
	США

	Россия
	ЮАР

Задание

Порядковый номер задания	173
Тип	1
Вес	1

Среди представленных стран в 2019 г. наиболее высокий уровень младенческой смертности был в	
+	США
	Канаде
	России
	Германии

Задание

Порядковый номер задания	174
Тип	5
Вес	1

Расположите российские регионы в порядке увеличения младенческой смертности в 2020 г.:	
	Чувашия
	Санкт-Петербург
	Республика Дагестан
	Чукотский автономный округ

Задание

Порядковый номер задания	175
Тип	1
Вес	1

На Земле ___ % населения – грамотные.	
+	86
	97
	62
	74

Задание

Порядковый номер задания	176
Тип	3
Вес	1

Установите соответствие стран и уровня ИЧР:	
Очень высокий ИЧР	Россия
Высокий ИЧР	Куба
Средний ИЧР	Индия
Низкий ИЧР	Южный Судан

Задание

Порядковый номер задания	177
Тип	2
Вес	1

Страны с высоким ИЧР:	
+	Албания
+	Иран
+	Перу

	Норвегия
	Германия
	США

Задание

Порядковый номер задания	178
Тип	6
Вес	1

Верны ли данные утверждения?	
А) Трудоспособным считается возраст от 15 до 65 лет.	
В) Наименьшее количество работающих женщин в странах Персидского залива.	
Подберите правильный ответ.	
+	А – да, В – да
	А – да, В – нет
	А – нет, В – да
	А – нет, В – нет

Задание

Порядковый номер задания	179
Тип	5
Вес	1

Расположите страны в порядке уменьшения численности населения в трудоспособном возрасте:	
	Китай
	Индия
	США
	Индонезия
	Бразилия

Задание

Порядковый номер задания	180
Тип	1
Вес	1

В 2019 г. численность рабочей силы в России	
+	75 млн. чел.
	138 млн. чел.
	56 млн. чел.
	209 млн. чел.

Задание

Порядковый номер задания	181
Тип	1
Вес	1

Экономически активное население в мире в начале 2020-х гг.	
+	3,3 млрд. чел.
	4,6 млрд. чел.
	1,4 млрд. чел.
	7,9 млрд. чел.

Задание

Порядковый номер задания	182
Тип	2
Вес	1

Патерналистические экономические системы с невысоким уровнем безработицы:	
+	Япония
+	Южная Корея
+	Тайвань
	Германия
	Франция

Задание

Порядковый номер задания	183
Тип	6
Вес	1

Верны ли данные утверждения?	
А) В развивающихся странах 1-2% населения являются крупными частными собственниками, около 10-15% – мелкими частными собственниками, 80-85% – наемными работниками.	
В) В быстро развивающихся странах продолжительность рабочего дня выше, чем в развитых.	
Подберите правильный ответ.	
	А – да, В – да
	А – да, В – нет
+	А – нет, В – да
	А – нет, В – нет

Задание

Порядковый номер задания	184
Тип	2
Вес	1

Мировые лидеры по совокупному показателю рабочей силы:	
+	Северная Европа
+	Восточная Азия
	Южная Европа
	Северная Азия

Задание

Порядковый номер задания	185
Тип	2
Вес	1

Преобладает население, занятое в сельском хозяйстве, в:	
+	Анголе
+	Афганистане
+	Бангладеш
	Ираке
	Андорре

Размещение населения

Тип	Группа
Вес	12

Задание

Порядковый номер задания	186
Тип	1
Вес	1

Процент незаселенных обитаемых территорий в мире _____ процентов.	
+	15

	7
	28
	1

Задание

Порядковый номер задания	187
Тип	6
Вес	1

Верны ли данные утверждения? А) Обитаемая часть суши составляет 7%. В) Равнины и низменности заселены более плотно, по сравнению с другими территориями на Земле. Подберите правильный ответ.	
+	А – да, В – да
	А – да, В – нет
	А – нет, В – да
	А – нет, В – нет

Задание

Порядковый номер задания	188
Тип	3
Вес	1

[1] % мирового населения проживает в Северном полушарии. Средняя плотность населения Земли – [2] чел./км ² . Около 4/5 мирового населения проживают на равнинах, на долю которых приходится [3] % обитаемой суши. Пустыни, высокогорья, северные территории, составляющие [4] % обитаемой территории, не заселены. Установите соответствие:	
1	86
2	37
3	28
4	15

Задание

Порядковый номер задания	189
Тип	5
Вес	1

Расположите страны в порядке увеличения плотности населения:	
	Монголия
	Россия
	Беларусь
	Украина
	Сингапур
	Монако

Задание

Порядковый номер задания	190
Тип	2
Вес	1

Страны с низкой плотностью населения:	
+	Гренландия
+	Фолклендские острова
+	Австралия
	Китай

	Индия
	Монако

Задание

Порядковый номер задания	191
Тип	1
Вес	1

_____ — это мигранты, ежедневно пересекающие границу, чтобы работать в соседнем государстве.	
+	Фронтайлеры
	Кули
	Хуанцяо
	Эмигранты
	Иммигранты

Задание

Порядковый номер задания	192
Тип	6
Вес	1

Верны ли данные утверждения? А) Немецкая этническая общность в США – наиболее многочисленная и составляет 65,5 млн.чел. В) Численность потомков итальянских иммигрантов начала XX в.в Бразилии превышает таковых в Аргентине. Подберите правильный ответ.	
+	А – да, В – да
	А – да, В – нет
	А – нет, В – да
	А – нет, В – нет

Задание

Порядковый номер задания	193
Тип	1
Вес	1

С 1970-х гг. набрал обороты миграционный поток в	
+	страны Персидского залива
	страны Латинской Америки
	США
	Германию

Задание

Порядковый номер задания	194
Тип	2
Вес	1

Страны, лидирующие по численности иммигрантов:	
+	США
+	Россия
+	Канада
	Индия
	Мексика
	Турция

Задание

Порядковый номер задания	195
Тип	1

Вес	1
-----	---

Самый маленький город России – это	
+	Магас
	Мышкин
	Приморск
	Солнечногорск

Задание

Порядковый номер задания	196
Тип	1
Вес	1

_____ — это процесс миграции жителей центральной части города на его окраину или в пригород.	
+	Субурбанизация
	Урбанизация
	Ложная урбанизация
	Рурбанизация

Задание

Порядковый номер задания	197
Тип	2
Вес	1

Среднеурбанизированные страны:	
+	Греция
+	Швейцария
	Швеция
	Аргентина
	Шри-Ланка

Задание

Порядковый номер задания	198
Тип	1
Вес	1

Доля городского населения в стране 67%, значит страна	
+	среднеурбанизированная
	высокоурбанизированная
	слабоурбанизированная
	неурбанизированная

Задание

Порядковый номер задания	199
Тип	5
Вес	1

Расположите города в порядке уменьшения численности населения:	
	Чунцин
	Шанхай
	Дели
	Сеул

Понятие и этапы становления мирового хозяйства

Тип	Группа
Вес	12

Задание

Порядковый номер задания	200
Тип	1
Вес	1

Первые элементы мирового хозяйства появились в эпоху	
+	Античности
	Великих географических открытий
	Реформации
	Первой мировой войны

Задание

Порядковый номер задания	201
Тип	1
Вес	1

Международная торговля стало бурно развиваться, создавая предпосылки к формированию мирового рынка, в эпоху	
+	Великих географических открытий
	между Первой и Второй мировыми войнами
	промышленной революции в Англии
	Великой французской революции

Задание

Порядковый номер задания	202
Тип	1
Вес	1

Наука, изучающая общие закономерности ведения экономической деятельности в мире в целом – это	
+	Мировая экономика
	Мировое хозяйство
	Геополитика
	Транснациональная экономика

Задание

Порядковый номер задания	203
Тип	6
Вес	1

Верны ли данные утверждения? А. Мировое хозяйство – исторически сложившаяся совокупность национальных хозяйств стран мира, связанных между собой всемирными экономическими отношениями. Б. Мировая экономика исследует экономику на уровне мира в целом.	
	А – да, В – да
+	А – да, В – нет
	А – нет, В – да
	А – нет, В – нет

Задание

Порядковый номер задания	204
Тип	5
Вес	1

Расположите этапы становления мирового хозяйства в хронологическом порядке:	
	Присваивающее хозяйство
	Аграрное хозяйство
	Индустриальное хозяйство

Постиндустриальное хозяйство

Задание

Порядковый номер задания	205
Тип	3
Вес	1

Установите соответствие исторических периодов и типов хозяйства:	
Присваивающее хозяйство	Мезолит
Аграрное хозяйство	Неолит
Индустриальное хозяйство	1897 г.
Постиндустриальное хозяйство	1980 г.

Задание

Порядковый номер задания	206
Тип	1
Вес	1

«Юность» мировой экономики – это _____ хозяйство.	
+	аграрное
	присваивающее
	индустриальное
	постиндустриальное

Задание

Порядковый номер задания	207
Тип	2
Вес	1

Основные виды хозяйственной деятельности на стадии «детства» мировой экономики:	
+	охота
+	рыболовство
+	собирательство
	земледелие
	скотоводство

Задание

Порядковый номер задания	208
Тип	6
Вес	1

Верны ли данные утверждения? А) Присваивающее хозяйство охватывает период с 10 до 5 тысячелетия до н.э. В) Самый продолжительный период имеет индустриальный тип хозяйства. Подберите правильный ответ.	
	А – да, В – да
	А – да, В – нет
	А – нет, В – да
+	А – нет, В – нет

Задание

Порядковый номер задания	209
Тип	2
Вес	1

Типы хозяйства, главная цель человека в которых – это обеспечение себя продуктами питания:	
+	присваивающее хозяйство
+	аграрное хозяйство
	индустриальное хозяйство
	постиндустриальное хозяйство

Задание

Порядковый номер задания	210
Тип	1
Вес	1

Имущественное неравенство возникло в типе хозяйства:	
+	Аграрное хозяйство
	Индустриальное хозяйство
	Постиндустриальное хозяйство
	Присваивающее хозяйство

Задание

Порядковый номер задания	211
Тип	6
Вес	1

Верны ли данные утверждения? А) Колонии поставляли ресурсы в метрополии. В) Колонии были политически независимыми, но экономически зависимыми от метрополий. Подберите правильный ответ.	
	А – да, В – да
+	А – да, В – нет
	А – нет, В – да
	А – нет, В – нет

Задание

Порядковый номер задания	212
Тип	1
Вес	1

Постиндустриальное общество начало формироваться в:	
+	1970-е гг.
	1980-е гг.
	1990-е гг.
	2000-е гг.

Мировое хозяйство в эпоху научно-технического прогресса

Тип	Группа
Вес	12

Задание

Порядковый номер задания	213
Тип	2
Вес	1

Черты современной НТР:	
+	всеохватность
+	чрезвычайное ускорение научно-технических преобразований
	военно-техническая стагнация

	снижение требований к квалификации трудовых ресурсов
--	--

Задание

Порядковый номер задания	214
Тип	6
Вес	1

Верны ли данные утверждения? А) Скорость внедрения научных открытий в производство увеличивается. В) Доля умственного труда, по сравнению с физическим, увеличивается. Подберите правильный ответ.	
+	А – да, В – да
	А – да, В – нет
	А – нет, В – да
	А – нет, В – нет

Задание

Порядковый номер задания	215
Тип	4
Вес	1

Взрыв атомной бомбы в Хиросиме произошел в _____ году. 1945
--

Задание

Порядковый номер задания	216
Тип	4
Вес	1

_____ - это уровень (долей) затрат на научные исследования и разработки в общих затратах на производство той или иной продукции. Научоемкость
--

Задание

Порядковый номер задания	217
Тип	1
Вес	1

_____ функция - это исторически первая функция техники и технологии.	
+	Трудосберегающая
	Ресурсосберегающая
	Природоохранительная
	Информационная

Задание

Порядковый номер задания	218
Тип	6
Вес	1

Верны ли данные утверждения? А) Революционный путь НТР – это дальнейшее совершенствование уже известной техники и технологии, увеличение мощности (производительности) машин и оборудования, рост грузоподъемности транспортных средств. В) Переход к принципиально новой технике и технологии – эволюционный путь НТР. Подберите правильный ответ.	
	А – да, В – да
	А – да, В – нет

	A – нет, B – да
+	A – нет, B – нет

Задание

Порядковый номер задания	219
Тип	2
Вес	1

Направления производства в эпоху НТР:	
+	электронизация
+	энергопотребление
+	производство новых материалов
	дискретная автоматизация

Задание

Порядковый номер задания	220
Тип	1
Вес	1

Страна, лидирующая по оснащенности производства роботами:	
+	Япония
	США
	Россия
	Германия

Задание

Порядковый номер задания	221
Тип	1
Вес	1

Совокупности промышленных методов, использующих живые организмы и биологические процессы для производства различных продуктов, -	
+	биотехнологии
	нанотехнологии
	биология
	биохимические технологии

Задание

Порядковый номер задания	222
Тип	1
Вес	1

Известие о Крымской войне 1854 г. дошло до Австралии за _____ дней.	
+	114
	80
	276
	39

Задание

Порядковый номер задания	223
Тип	6
Вес	1

Верны ли данные утверждения? А) Число пользователей соцсетей превышает число пользователей Интернет на 0,5 млрд.чел. В) 60% населения в мире имеют доступ к Интернету. Подберите правильный ответ.	
---	--

	A – да, B – да
	A – да, B – нет
+	A – нет, B – да
	A – нет, B – нет

Задание

Порядковый номер задания	224
Тип	1
Вес	1

Система или способ организации взаимозависимого производства, при котором предприятия разных стран специализируются на производстве определенных видов товаров и услуг, а затем обмениваются ими:	
+	Разделение труда
	Специализация труда
	Кооперирование труда
	Интеграция
	Глобализация

Задание

Порядковый номер задания	225
Тип	3
Вес	1

Установите соответствие:	
Международное кооперирование	установление устойчивых взаимосвязей между отдельными предприятиями разных стран мира, участвующими в производстве какого-либо товара или услуги
Международный аутсорсинг	передача некоторых этапов в производстве продукта или услуги чужим компаниям в другой стране
Международный офшоринг	осуществление производства некоторых этапов в производстве продукта или услуги в представительствах своей компании, но расположенных в других странах
Международная экономическая интеграция	объективный процесс развития особенно глубоких и устойчивых взаимосвязей отдельных групп стран, основанный на проведении ими согласованной межгосударственной политики

Задание

Порядковый номер задания	226
Тип	6
Вес	1

Верны ли данные утверждения? А. «Манаус» - свободная экономическая зона в Бразилии. Б. Первая СЭЗ в Индии появилась в 1965 г. Подберите правильный ответ.	
+	A – да, B – да
	A – да, B – нет
	A – нет, B – да
	A – нет, B – нет

Задание

Порядковый номер задания	227
Тип	1
Вес	1

В 2019 г. _____ % свободных экономических зон мира было сосредоточено в развивающихся странах.
--

+	89
	47
	25
	63

Задание

Порядковый номер задания	228
Тип	4
Вес	1

В наличное обращение евро было введено в _____ году.
2002

Задание

Порядковый номер задания	229
Тип	3
Вес	1

Установите соответствие страну и год ее вступления в Евросоюз:	
Франция	1957
Дания	1973
Испания	1986
Австрия	1995
Чехия	2004

Задание

Порядковый номер задания	230
Тип	3
Вес	1

Установите соответствие региона и региональной экономической организации:	
Юго-Восточная Азия	АСЕАН
Азия и Тихий океан	АТЭС
Северная Америка	НАФТА
Латинская Америка	ЛАИ

Задание

Порядковый номер задания	231
Тип	4
Вес	1

Отраслевая экономическая группировка стран-экспортеров нефти:
ОПЕК

Задание

Порядковый номер задания	232
Тип	2
Вес	1

Члены АТЭС:	
+	Бруней
+	Таиланд
	Уругвай
	Лаос

Задание

Порядковый номер задания	233
Тип	1
Вес	1

Государство, входящее в АТЭС и ЛАИ	
+	Перу
	Россия
	Таиланд
	Бразилия

Задание

Порядковый номер задания	234
Тип	2
Вес	1

Технологические ТНК США:	
+	INTEL CORP
+	ADOBE INC
	SAMSUNG ELECTRONICS
	WALMART INC

Задание

Порядковый номер задания	235
Тип	2
Вес	1

Страны с аграрной структурой экономики:	
+	Афганистан
+	Лаос
	Индия
	Саудовская Аравия

Задание

Порядковый номер задания	236
Тип	2
Вес	1

Страны с постиндустриальной структурой хозяйства:	
+	Австралия
+	Канада
+	Япония
	Индия

Задание

Порядковый номер задания	237
Тип	6
Вес	1

Верны ли данные утверждения? А) В двучленной модели мирового хозяйства развитым является Юг. В) В трехчленной модели мирового хозяйства Периферия включает в себя 25-30 стран. Подберите правильный ответ.	
	А – да, В – да
	А – да, В – нет
	А – нет, В – да
+	А – нет, В – нет

Задание

Порядковый номер задания	238
Тип	5
Вес	1

Расположите регионы в порядке уменьшения ВВП в 2019 г.:
Северная Америка
Зарубежная Европа
Китай
Япония
СНГ
Индия

Задание

Порядковый номер задания	239
Тип	4
Вес	1

Старопромышленный район, достигший в прошлом достаточно высокого уровня развития, но в эпоху НТР в силу преобладания старых производств, потерявший многие стимулы экономического развития, - _____ район.
депрессивный

Современные проблемы и тенденции развития глобальной экономики

Тип	Группа
Вес	12

Задание

Порядковый номер задания	240
Тип	1
Вес	1

Наиболее масштабный вид взаимодействия стран	
+	международная торговля
	производственные связи
	финансовые связи
	миграционные потоки

Задание

Порядковый номер задания	241
Тип	1
Вес	1

Проблемы народонаселения, образования, культуры, здравоохранения - это	
+	антропосоциальные проблемы
	общественно-политические проблемы
	природно-ресурсные проблемы
	смешанные проблемы

Задание

Порядковый номер задания	242
Тип	6
Вес	1

Верны ли данные утверждения?	
А) В настоящее время производство продовольствия составляет всего лишь 80% от потребностей в нем.	
В) Наиболее остро проблема нехватки продовольствия и недоедания населения стоит в Бангладеш, Гаити, Непале, Сальвадоре, в странах Тропической Африки.	
Подберите правильный ответ.	
	А – да, В – да
	А – да, В – нет
+	А – нет, В – да
	А – нет, В – нет

Задание

Порядковый номер задания	243
Тип	1
Вес	1

В начале XXI в. доходы 20% самого богатого населения отличаются от 20% самого бедного населения в	
+	82 раза
	30 раз
	47 раз
	65 раз

Задание

Порядковый номер задания	244
Тип	6
Вес	1

Верны ли данные утверждения?	
А) Лавинообразный рост мирового финансового рынка обостряет глобальные финансовые риски.	
В) Объем нелегальной торговли составляет более 8% мирового товарооборота.	
Подберите правильный ответ.	
+	А – да, В – да
	А – да, В – нет
	А – нет, В – да
	А – нет, В – нет

Задание

Порядковый номер задания	245
Тип	2
Вес	1

Изменения в финансовой сфере, породившие неустойчивость и масштабные противоречия финансовой системы:	
+	Сочетание технической легкости быстро выросших в объемах и высокодоходных сделок с виртуальными деньгами и слабость национальных систем контроля
+	Утрата денежной монополии национальных государств
	Недостаточное распространение деривативов
	Связь денег с материальной основой

Задание

Порядковый номер задания	246
Тип	6
Вес	1

Верны ли данные утверждения?	
А) На современном этапе развития банки предпочитают инвестиции в реальный сектор деривативам.	
В) Кризис 2008 г. – кризис перепроизводства.	
Подберите правильный ответ.	
	А – да, В – да

	А – да, В – нет
+	А – нет, В – да
	А – нет, В – нет

Задание

Порядковый номер задания	247
Тип	2
Вес	1

Страны, размер международного долга которых превышает 400% ВВП:	
+	США
+	Япония
	Западная Европа
	Россия

Задание

Порядковый номер задания	248
Тип	2
Вес	1

Черты старой модели глобального развития мировой экономики:	
+	поддерживаемый ростом кредитов и долгов совокупный спрос
+	кредитные механизмы поддержания высокого уровня жизни
	валютная система, построенная на доверии к евро
	стабильный уровень занятости в развитых странах как следствие относительно дорогого труда

Задание

Порядковый номер задания	249
Тип	2
Вес	1

В 1945 г. созданы международные экономические организации:	
+	ООН
+	МВФ
	ВТО
	АТЭС

География отраслей первичной сферы мирового хозяйства

Тип	Группа
Вес	12

Задание

Порядковый номер задания	250
Тип	2
Вес	1

Отрасли первичной сферы мирового хозяйства:	
+	сельское хозяйство
+	рыболовство
+	добывающая промышленность
	нефтехимическая промышленность
	трубопроводный транспорт

Задание

Порядковый номер задания	251
Тип	2

Вес	1
-----	---

Особенности сельского хозяйства:	
+	большая длительность производственного процесса
+	зависимость от природных условий
+	повышенные риски воздействия экономических кризисов
	высокая материалоемкость
	низкая трудоемкость

Задание

Порядковый номер задания	252
Тип	6
Вес	1

Верны ли данные утверждения? А) Сельское хозяйство не нуждается в государственной поддержке. В) У сельскохозяйственной продукции низкая добавленная стоимость. Подберите правильный ответ.	
	А – да, В – да
	А – да, В – нет
+	А – нет, В – да
	А – нет, В – нет

Задание

Порядковый номер задания	253
Тип	1
Вес	1

Хозяйство, включающее как интенсивное земледелие с плодосменными севооборотами, интенсивное животноводство с заготовкой кормов, садоводство и огородничество, так и экстенсивное земледелие парового и залежного типа, пастбищное животноводство, — это _____ сельское хозяйство.	
+	товарное
	потребительское
	сырьевое
	традиционное

Задание

Порядковый номер задания	254
Тип	5
Вес	1

Расположите страны в порядке увеличения количества вносимых удобрений на 1 га пашни:	
	ФРГ
	Япония
	Нидерланды
	Новая Зеландия

Задание

Порядковый номер задания	255
Тип	4
Вес	1

_____ — это сочетание производства сельскохозяйственной продукции с ее переработкой, хранением, перевозкой и сбытом, а также с выпуском техники, удобрений и др. Агробизнес	
--	--

Задание

Порядковый номер задания	256
Тип	6
Вес	1

Верны ли данные утверждения?

А) «Зеленая революция» включает выведение новых скороспелых сортов культур, расширение ирригации и широкое применение современной техники.

В) Родоначальник «зеленой революции» - Китай.

Подберите правильный ответ.

	А – да, В – да
+	А – да, В – нет
	А – нет, В – да
	А – нет, В – нет

Задание

Порядковый номер задания	257
Тип	2
Вес	1

Основные зерновые культуры:

+	Пшеница
+	Рис
+	Кукуруза
	Рожь
	Ячмень
	Овес

Задание

Порядковый номер задания	258
Тип	1
Вес	1

Главный пшеничный пояс находится в

+	Северном полушарии
	Южном полушарии
	Восточном полушарии
	Западном полушарии

Задание

Порядковый номер задания	259
Тип	1
Вес	1

Главный регион производства риса – это

+	Азия
	Европа
	Южная Америка
	Северная Америка
	Африка

Задание

Порядковый номер задания	260
Тип	1
Вес	1

Родина кукурузы – это

+	Мексика
	Перу
	Бразилия
	США

Задание

Порядковый номер задания	261
Тип	3
Вес	1

Родина чая – [1]. Родина кофе – [2], но в наши дни 2/3 его сбора дает [3]. Основные производители хлопчатника – [1] и [4]

Установите соответствие:

1	Китай
2	Африка
3	Латинская Америка
4	США

Задание

Порядковый номер задания	262
Тип	3
Вес	1

Установите соответствие сельскохозяйственных культур и центров их происхождения:	
Средиземноморский	овес, маслина, капуста, морковь, лаванда
Среднеазиатский	горох, чечевица, чеснок, абрикос, виноград
Китайский	гречиха, соя, горчица, слива, хурма
Эфиопский	сорго, клещевина, кофе, сорго, мягкая пшеница

Задание

Порядковый номер задания	263
Тип	2
Вес	1

Сельскохозяйственные культуры, произошедшие из Южной Америки:	
+	картофель
+	арахис
+	ананас
+	клубника
	кукуруза
	тыква

Задание

Порядковый номер задания	264
Тип	5
Вес	1

Расположите страны в порядке уменьшения поголовья крупного рогатого скота:	
	Индия
	Бразилия
	Китай
	США
	Аргентина

Задание

Порядковый номер задания	265
--------------------------	-----

Тип	1
Вес	1

Лидер в свиноводстве – это	
+	Китай
	Россия
	США
	Германия

Задание

Порядковый номер задания	266
Тип	6
Вес	1

Верны ли данные утверждения?	
А) Доля деловой древесины в развитых странах превышает 90%, а в развивающихся – не превышает 40%.	
В) Среди европейских стран по лесозаготовке лидируют Швеция, Финляндия, Норвегия, Германия и Франция.	
Подберите правильный ответ.	
+	А – да, В – да
	А – да, В – нет
	А – нет, В – да
	А – нет, В – нет

Задание

Порядковый номер задания	267
Тип	1
Вес	1

Океан, в котором вылавливают больше всего рыбы – это _____ океан.	
+	Тихий
	Атлантический
	Индийский
	Северный ледовитый

Задание

Порядковый номер задания	268
Тип	2
Вес	1

Страны-лидеры по вылову рыбы в 1950-х гг., но потерявшие эти позиции в XXI в.:	
+	Великобритания
+	Канада
+	ФРГ
	Индия
	Китай
	Норвегия

Задание

Порядковый номер задания	269
Тип	5
Вес	1

Расположите страны в порядке уменьшения вылова рыбы на душу населения:	
	Исландия
	Гренландия
	Норвегия

Чили
Россия

Задание

Порядковый номер задания	270
Тип	1
Вес	1

Укажите неверное утверждение.	
+	С 1960-х гг., когда возник устойчивый спрос на природный газ, по его добыче лидирует Россия (СССР)
	В общем объеме добываемого угля: каменный уголь составляет 87%, бурый – 13%
	Наибольшее количество железных руд добывают: Китай, Австралия, Бразилия, Индия, Россия и Украина
	Свыше 85% мировой добычи бериллиевых руд обеспечивают США

Задание

Порядковый номер задания	271
Тип	5
Вес	1

Расположите руды в порядке снижения объемов их добычи:	
	Медные руды
	Цинковые руды
	Свинцовые руды
	Никелевые руды
	Оловянные руды

Задание

Порядковый номер задания	272
Тип	3
Вес	1

Установите соответствие стран и добываемых в них драгоценных и полудрагоценных камней:	
Бирюза	Индия
Лазурит	Афганистан
Топаз	Бразилия
Изумруд	Колумбия

География отраслей вторичной сферы мирового хозяйства

Тип	Группа
Вес	12

Задание

Порядковый номер задания	273
Тип	6
Вес	1

Верны ли данные утверждения? А) Максимальное число залежей нефти располагается на глубине 1-3 км. В) Средняя себестоимость добычи нефти составляет 7 долларов за баррель. Подберите правильный ответ.	
+	А – да, В – да
	А – да, В – нет
	А – нет, В – да
	А – нет, В – нет

Задание

Порядковый номер задания	274
Тип	2
Вес	1

Основные импортеры нефти в Европе:	
+	Франция
+	Германия
+	Италия
	Великобритания
	Норвегия

Задание

Порядковый номер задания	275
Тип	2
Вес	1

Страны-импортеры угля:	
+	Япония
+	Италия
+	Франция
	Китай
	Индия
	Казахстан

Задание

Порядковый номер задания	276
Тип	3
Вес	1

Установите соответствие:	
Атомная электростанция	электростанция, в которой ядерная энергия преобразуется в электрическую
Гидроэлектростанция	электростанция, в качестве источника энергии использующая энергию водного потока
Тепловая электростанция	электростанция, вырабатывающая электрическую энергию в результате преобразования энергии, выделяющейся при сжигании органического топлива
Электроэнергетика	отрасль энергетики, включающая в себя производство, передачу и сбыт электроэнергии

Задание

Порядковый номер задания	277
Тип	1
Вес	1

Первая ТЭС появилась в России в	
+	Санкт-Петербурге в 1883 г.
	Москве в 1882 г.
	Кенигсберге в 1884 г.
	Нижнем Новгороде в 1897 г.

Задание

Порядковый номер задания	278
Тип	2
Вес	1

Факторы расположения ГЭС:	
+	большие уклоны реки
+	каньонообразные виды рельефа
+	гарантированная обеспеченность водой круглый год
	районы высокой сейсмичности

Задание

Порядковый номер задания	279
Тип	5
Вес	1

Расположите страны в порядке уменьшения производства ядерной электроэнергии:	
	США
	Франция
	Япония
	Россия
	Корея

Задание

Порядковый номер задания	280
Тип	2
Вес	1

Черная металлургия:	
+	тяготеет к грузопотокам сырья
+	использует легирующие металлы
	в качестве основного сырья использует железную руду, лидером по добыче которой является Германия
	трудоемкая

Задание

Порядковый номер задания	281
Тип	3
Вес	1

Установите соответствие цветных металлов:	
Тяжелые металлы	медь, цинк, олово, никель
Легкие металлы	алюминий, магний, титан
Тугоплавкие металлы	вольфрам, молибден
Редкие металлы	уран, ванадий

Задание

Порядковый номер задания	282
Тип	2
Вес	1

Лидирующие европейские машиностроительные страны:	
+	Германия
+	Италия
+	Франция
+	Великобритания
	Россия
	Польша
	Испания
	Чехия

Задание

Порядковый номер задания	283
Тип	2
Вес	1

Центры автомобилестроения в Германии:	
+	Кёльн
+	Штутгарт
+	Вольфсбург
	Торонто
	Кобе
	Детройт

Задание

Порядковый номер задания	284
Тип	1
Вес	1

Центр судостроения в Польше – это	
+	Гданьск
	Пусан
	Гамбург
	Тулун

Задание

Порядковый номер задания	285
Тип	3
Вес	1

Установите соответствие центров авиастроения в мире:	
Франция	Тулуза
США	Сиэтл
Германия	Гамбург
Канада	Монреаль

Задание

Порядковый номер задания	286
Тип	3
Вес	1

Установите соответствие подотраслей химической промышленности:	
Горно-химическая промышленность	занимается добычей, обогащением и первичной обработкой горно-химического сырья
Основная химия	занимается производством минеральных удобрений, кислот и солей
Химия органического синтеза	занимается производством пластмасс, химических волокон, синтетического каучука, красителей
Тонкая химия	занимается производством бытовой химии, парфюмерно-косметических продуктов, лекарств

Задание

Порядковый номер задания	287
Тип	2
Вес	1

Особенности развития легкой промышленности:	
+	перенос производства дешёвой продукции массового потребления (одежда, обувь) из Европы и

	США в страны с дешёвой и малоквалифицированной рабочей силой
+	замена натурального сырья синтетическим
+	переориентирование лёгкой промышленности Западной Европы и США на изготовление уникальных и дорогих изделий
	увеличение производства тканей и кожи при снижении производства одежды и обуви

Задание

Порядковый номер задания	288
Тип	1
Вес	1

Лидер по экспорту текстильной продукции – это	
+	Китай
	Индия
	США
	Турция
	Италия

География отраслей третичной сферы мирового хозяйства

Тип	Группа
Вес	12

Задание

Порядковый номер задания	289
Тип	1
Вес	1

Скорость, развитая поездом на магнитной подвеске в 1999 г. в Японии	
+	552 км/ч
	478 км/ч
	614 км/ч
	347 км/ч

Задание

Порядковый номер задания	290
Тип	1
Вес	1

Сверхзвуковой пассажирский лайнер, совершивший в 1995 г. кругосветный перелет за 31,5 часа – это	
+	«Конкорд»
	«Титаник»
	«Катюша»
	«Баргузин»

Задание

Порядковый номер задания	291
Тип	1
Вес	1

В Индии и Бразилии преобладает:	
+	Железнодорожный транспорт
	Речной транспорт
	Трубопроводный транспорт
	Воздушный транспорт

Задание

Порядковый номер задания	292
Тип	1
Вес	1

«Железный Шелковый путь» соединяет Китай с	
+	Турцией
	Россией
	Европой
	США

Задание

Порядковый номер задания	293
Тип	2
Вес	1

Лидеры в морских перевозках:	
+	Панама
+	Либерия
	Турция
	Египет

Задание

Порядковый номер задания	294
Тип	1
Вес	1

Канал, который был блокирован в 2021 г. севшим на мель контейнеровозом	
+	Суэцкий
	Панамский
	Гибралтарский
	Малаккский

Задание

Порядковый номер задания	295
Тип	5
Вес	1

Расположите аэропорты в порядке уменьшения в них пассажиропотока:	
	Атланта («Хартсфилд и Хартсфилд-Джексон»)
	Чикаго («О`Хара»)
	Лондон («Хитроу»)
	Париж («Шарль де Голль»)

Задание

Порядковый номер задания	296
Тип	1
Вес	1

Объем мировой торговли в начале 2020-х гг.	
+	13 трлн долл.
	125 млрд долл
	9 трлн долл
	350 млрд долл

Задание

Порядковый номер задания	297
Тип	6
Вес	1

Верны ли данные утверждения? А) Доля машин и оборудования за полвека в мировой торговле выросла на 20%. В) Доля топлива в мировой торговле за полвека снизилась. Подберите правильный ответ.	
+	А – да, В – да
	А – да, В – нет
	А – нет, В – да
	А – нет, В – нет

Задание

Порядковый номер задания	298
Тип	4
Вес	1

За год страна ввезла товаров на 600 млрд.\$, вывезла – на 720 млрд.\$. Торговый баланс - _____ млрд.\$. 120

Общая характеристика Зарубежной Европы

Тип	Группа
Вес	12

Задание

Порядковый номер задания	299
Тип	4
Вес	1

Протяженность территории Зарубежной Европы с севера на юг - ____ тыс.км. (В ответе укажите число цифрами)
5

Задание

Порядковый номер задания	300
Тип	4
Вес	1

Протяженность территории Зарубежной Европы с запада на восток - ____ тыс.км. (В ответе укажите число цифрами)
3

Задание

Порядковый номер задания	301
Тип	1
Вес	1

Самая длинная страна Зарубежной Европы – это	
+	Норвегия
	Франция
	ФРГ
	Венгрия

Задание

Порядковый номер задания	302
Тип	1
Вес	1

_____ — это самое большое из микросоударств.	
+	Андорра
	Лихтенштейн
	Сан-Марино
	Монако
	Ватикан

Задание

Порядковый номер задания	303
Тип	6
Вес	1

Верны ли данные утверждения? А) Границы между странами Западной Европы проходят по природным рубежам, создающим значительные препятствия для транспортных связей. В) Населенные пункты в странах Европы удалены от границ не более, чем на 100 км. Подберите правильный ответ.	
	А – да, В – да
	А – да, В – нет
	А – нет, В – да
+	А – нет, В – нет

Задание

Порядковый номер задания	304
Тип	1
Вес	1

_____ - это консультативная политическая организация, созданная в 1949 г. для содействия интеграционным процессам в области прав человека, основных свобод и парламентской демократии.	
+	Совет Европы
	ОБСЕ
	НАТО
	ВТО

Задание

Порядковый номер задания	305
Тип	6
Вес	1

Верны ли данные утверждения? А) Северная часть Европы – платформенная. В) Южная часть Европы – складчатая. Подберите правильный ответ.	
+	А – да, В – да
	А – да, В – нет
	А – нет, В – да
	А – нет, В – нет

Задание

Порядковый номер задания	306
Тип	1
Вес	1

В северной части Зарубежной Европы распространены полезные ископаемые	
+	рудные и топливные
	рудные
	топливные
	нерудные
	рудные и нерудные
	нерудные и топливные

Задание

Порядковый номер задания	307
Тип	1
Вес	1

Система пользователей распространена в	
+	Нидерландах
	Франции
	Германии
	Швейцарии

Задание

Порядковый номер задания	308
Тип	1
Вес	1

Противоречия между фламандцами и валлонами существуют в	
+	Бельгии
	Венгрии
	Испании
	Румынии

Задание

Порядковый номер задания	309
Тип	4
Вес	1

Город-государство в Европе с населением около 1 тыс.чел., основная функция которого – религиозная:	
Ватикан	

Задание

Порядковый номер задания	310
Тип	2
Вес	1

Крупные городские агломерации в Европе:	
+	Лондонская
+	Парижская
+	Нижнерейнско-Рурская
	Варшавская

Задание

Порядковый номер задания	311
Тип	1
Вес	1

Экономический лидер в Зарубежной Европе	
+	ФРГ

	Великобритания
	Франция
	Италия

Задание

Порядковый номер задания	312
Тип	3
Вес	1

Установите соответствие стран и марок автомобилей:	
Рено	Франция
Фольксваген	ФРГ
Фиат	Италия
Вольво	Швеция

Задание

Порядковый номер задания	313
Тип	1
Вес	1

Страна Зарубежной Европы с самой мощной химической промышленностью	
+	ФРГ
	Франция
	Швейцария
	Бельгия

Задание

Порядковый номер задания	314
Тип	1
Вес	1

Ущелье Железные ворота, в котором построен гидроузел, расположено на реке	
+	Дунай
	Днепр
	Эльба
	Одра

Задание

Порядковый номер задания	315
Тип	2
Вес	1

Ведущую роль ГЭС играют в странах:	
+	Норвегия
+	Швеция
+	Швейцария
	Исландия
	Франция
	Германия

Задание

Порядковый номер задания	316
Тип	1
Вес	1

Фабрика Koh-i-Noor – это _____ фабрика.	
+	Чешская

	Австрийская
	Французская
	Немецкая

Общая характеристика Зарубежной Азии

Тип	Группа
Вес	12

Задание

Порядковый номер задания	317
Тип	5
Вес	1

Расположите страны Западной Азии в порядке уменьшения максимальной протяженности от одной границы до другой (с севера на юг или с запада на восток):

Индонезия
Япония
Филиппины
Турция

Задание

Порядковый номер задания	318
Тип	2
Вес	1

Экономико-географическое положение стран Западной Азии:

+	границы большинства стран проходят по хорошо выраженным природным рубежам и создают серьезные препятствия для связей
+	приморское положение большинства стран создает предпосылки для развития
+	Монголия – самое большое государство, не имеющее выхода к морю
	в Азии отсутствуют территориальные споры

Задание

Порядковый номер задания	319
Тип	2
Вес	1

Особенности Западной Азии:

+	Необходимость рационального использования агроклиматических ресурсов
+	На значительной части территории региона природные условия не позволяют людям заниматься сельским и лесным хозяйством
	Естественная убыль населения
	Избыток земельных ресурсов

Задание

Порядковый номер задания	320
Тип	1
Вес	1

Большинство стран Зарубежной Азии находится на ___ этапе демографического перехода.

+	II
	I
	III
	IV

Задание

Порядковый номер задания	321
Тип	3
Вес	1

Установите соответствие субрегионов Западной Азии и демографической ситуации:	
Восточная Азия	демографическая политика привела к значительному снижению рождаемости и естественного прироста населения
Юго-Восточная Азия	темпы естественного прироста населения начали постепенно уменьшаться
Южная Азия	снижение темпов естественного прироста населения есть, но медленное, по сравнению с другими субрегионами
Юго-Западная Азия	эпицентр демографического взрыва

Задание

Порядковый номер задания	322
Тип	5
Вес	1

Расположите страны в порядке уменьшения количества народностей, проживающих в них:	
	Индия
	Филиппины
	Китай
	Таиланд

Задание

Порядковый номер задания	323
Тип	4
Вес	1

_____ - это политика, направленная на отделение, обособление и ставящая главной целью создание собственного национального или религиозного государственного образования.
Сепаратизм

Задание

Порядковый номер задания	324
Тип	2
Вес	1

Курды проживают на территории:	
+	Турции
+	Ирана
+	Ирака
+	Сирии
	Курдистана

Задание

Порядковый номер задания	325
Тип	1
Вес	1

Слово «баду», присутствующее в названии одного из народов Азии, означает	
+	пустыня
	кочевник

	праведник
	шатер

Задание

Порядковый номер задания	326
Тип	1
Вес	1

Единственный член G-7 в Азии	
+	Япония
	Китай
	США
	Индия

Задание

Порядковый номер задания	327
Тип	1
Вес	1

Государство, название которого в переводе означает «город льва»	
+	Сингапур
	Гонконг
	Тайвань
	Корея

Задание

Порядковый номер задания	328
Тип	4
Вес	1

выращивается не только на затопляемых полях, но и в ладонях крестьян.	
Рис	

Задание

Порядковый номер задания	329
Тип	1
Вес	1

Страна экстенсивного животноводства в Азии	
+	Монголия
	Китай
	Афганистан
	КНДР

Субрегионы и страны Зарубежной Европы и Зарубежной Азии

Тип	Группа
Вес	12

Задание

Порядковый номер задания	330
Тип	3
Вес	1

Установите соответствие районов Зарубежной Европы:	
Высокоразвитые районы	Большой Лондон, Большой Париж
Старопромышленные районы	Эльзас, Йоркшир, Саар

Отстальные аграрные районы	Запад Франции, Юг Италии
Районы нового освоения	Тролль, Статфьорд

Задание

Порядковый номер задания	331
Тип	2
Вес	1

Страны Западной Европы:	
+	Австрия
+	Швейцария
	Дания
	Болгария

Задание

Порядковый номер задания	332
Тип	3
Вес	1

Установите соответствие стран и субрегионов Европы:	
Северная Европа	Норвегия
Западная Европа	Австрия
Восточная Европа	Словакия
Южная Европа	Италия

Задание

Порядковый номер задания	333
Тип	3
Вес	1

ФРГ и ГДР были образованы в [1] г. [4] был объявлен столицей ФРГ в [2] г. В [3] г. [5] – один из древних городов Германии – отметил свое 2000-летие. Установите соответствие:	
1	1949
2	1991
3	1989
4	Берлин
5	Бонн

Задание

Порядковый номер задания	334
Тип	1
Вес	1

ФРГ — это _____ республика.	
+	Парламентская
	Президентская
	Смешанная

Задание

Порядковый номер задания	335
Тип	3
Вес	1

Установите соответствие предприятий ФРГ и отраслей:	
БАСФ	Химическая промышленность
Роберт Бош	Электротехника

Даймлер-Крайслер	Автомобилестроение
Тиссен	Черная металлургия
Адидас	Легкая промышленность

Задание

Порядковый номер задания	336
Тип	2
Вес	1

Топливо-энергетическое хозяйство ФРГ ориентировано на импортные:	
+	нефть
+	газ
	бурый уголь
	каменный уголь

Задание

Порядковый номер задания	337
Тип	2
Вес	1

Охраняемые природные территории ФРГ:	
+	Баварский Лес
+	Франковский Лес
+	Тевтобургский Лес
	Ланды Гаскони
	Карнатака

Задание

Порядковый номер задания	338
Тип	6
Вес	1

Верны ли данные утверждения? А) Территория Гонконга возвращена Великобританией Китаю в 1997 г. В) Аомынь – территория на юге Китая, бывшая португальская колония. Подберите правильный ответ.	
+	А – да, В – да
	А – да, В – нет
	А – нет, В – да
	А – нет, В – нет

Задание

Порядковый номер задания	339
Тип	6
Вес	1

Верны ли данные утверждения? А) Китайцы называют себя ханьцы. В) В китайском языке три основных диалекта. Подберите правильный ответ.	
	А – да, В – да
+	А – да, В – нет
	А – нет, В – да
	А – нет, В – нет

Задание

Порядковый номер задания	340
--------------------------	-----

Тип	2
Вес	1

Административно-территориальные единицы Восточной экономической зоны Китая:	
+	Шаньдун
+	Хайнань
	Шаньси
	Юньнань

Задание

Порядковый номер задания	341
Тип	4
Вес	1

Китай был принят в ВТО в ____ году.
2002

Задание

Порядковый номер задания	342
Тип	1
Вес	1

Современное название древней страны Ниппон – это	
+	Япония
	Вьетнам
	Индонезия
	Малайзия

Задание

Порядковый номер задания	343
Тип	4
Вес	1

Однонациональная страна с двумя основными религиями – буддизмом и синтоизмом, - находящаяся в центре Азиатско-Тихоокеанского региона – это
Япония

Задание

Порядковый номер задания	344
Тип	2
Вес	1

Крупнейшие японские агломерации:	
+	Токио
+	Осака
+	Нагоя
	Хиросима

Задание

Порядковый номер задания	345
Тип	3
Вес	1

[1] добилась независимости от [2] в [3] г., а в [4] г. была провозглашена республикой. Установите соответствие:	
1	Индия
2	Великобритания

3	1947
4	1950
	1951
	Франция
	Китай

Задание

Порядковый номер задания	346
Тип	1
Вес	1

_____ принадлежит первое место в Азии по длине железных дорог, но половина из них имеет узкую колею.	
+	Индия
	Китай
	Индонезия
	Япония

США

Тип	Группа
Вес	12

Задание

Порядковый номер задания	347
Тип	5
Вес	1

Расположите страны в порядке уменьшения площади:	
	Россия
	Канада
	Китай
	США

Задание

Порядковый номер задания	348
Тип	4
Вес	1

Количество частей в США - ____.	
(В ответе укажите число цифрами)	
3	

Задание

Порядковый номер задания	349
Тип	3
Вес	1

Установите соответствие штатов США и их расположения на карте:	
Запад	Калифорния
Восток	Виргиния
Север	Миннесота
Юг	Техас

Задание

Порядковый номер задания	350
--------------------------	-----

+	Демократическая партия
+	Республиканская партия
	Лейбористская партия
	Либеральная партия

Задание

Порядковый номер задания	356
Тип	5
Вес	1

Расположите страны в порядке увеличения численности населения:	
	Бразилия
	Пакистан
	Индонезия
	США
	Индия
	Китай

Задание

Порядковый номер задания	357
Тип	6
Вес	1

Верны ли данные утверждения? А) Брасерос – рабочие, нелегально прибывшие в США из Латинской Америки на заработки. Б) Среди иммигрантов в США европейцы составляют меньшинство. Подберите правильный ответ.	
+	А – да, В – да
	А – да, В – нет
	А – нет, В – да
	А – нет, В – нет

Задание

Порядковый номер задания	358
Тип	2
Вес	1

Штаты, в которых проживает наибольшее число афроамериканцев:	
+	Калифорния
+	Джорджия
+	Техас
	Вашингтон
	Северная Дакота

Задание

Порядковый номер задания	359
Тип	6
Вес	1

Верны ли данные утверждения? А) Натурализация – негативное или предвзятое отношение к человеку, или лишение его определённых прав на основании наличия какого-то признака. В) Дискриминация – политика принудительного отделения какой-либо группы населения по расовому или этническому признаку. Подберите правильный ответ.	
	А – да, В – да
	А – да, В – нет

	A – нет, B – да
+	A – нет, B – нет

Задание

Порядковый номер задания	360
Тип	5
Вес	1

Расположите штаты США в порядке снижения плотности населения:	
	Калифорния
	Южная Каролина
	Техас
	Небраска
	Монтана

Задание

Порядковый номер задания	361
Тип	6
Вес	1

Верны ли данные утверждения? A) Деловой район американского города – даунтаун. B) Североамериканский тип города имеет круговую планировку. Подберите правильный ответ.	
	A – да, B – да
+	A – да, B – нет
	A – нет, B – да
	A – нет, B – нет

Задание

Порядковый номер задания	362
Тип	2
Вес	1

Американские города-миллионеры:	
+	Нью-Йорк
+	Лос-Анджелес
+	Чикаго
	Вашингтон

Задание

Порядковый номер задания	363
Тип	2
Вес	1

Мегалополисы США:	
+	Северо-Восточный
+	Приозерный
+	Калифорнийский
	Техасский

Задание

Порядковый номер задания	364
Тип	2
Вес	1

Отличительные особенности промышленности США:	
+	Высокий уровень качества
+	Высокая производственная концентрация
	Низкая территориальная концентрация
	Рассредоточенность производства

Задание

Порядковый номер задания	365
Тип	3
Вес	1

Установите соответствие штатов США и направлений сельского хозяйства:	
Выращивание риса, сахарного тростника, фруктов	Флорида
Выращивание хлопчатника, сои, табака, арахиса	Теннеси
Пастбищное мясо-шерстяное животноводство	Невада
Выращивание пшеницы	Северная Дакота

Задание

Порядковый номер задания	366
Тип	2
Вес	1

Университеты США:	
+	Йельский
+	Стенфордский
+	Гарвардский
	Манчестерский
	Сорбонна

Задание

Порядковый номер задания	367
Тип	6
Вес	1

Верны ли данные утверждения? А) Детройт – депрессивный район США. В) В 2005 г. на США обрушился ураган «Катрина». Подберите правильный ответ.	
+	А – да, В – да
	А – да, В – нет
	А – нет, В – да
	А – нет, В – нет

Задание

Порядковый номер задания	368
Тип	2
Вес	1

Нефть в США добывают в:	
+	Мексиканском заливе
+	Штате Канзас
+	Штате Калифорния
+	Аляске
	Северо-Восточном районе

Задание

Порядковый номер задания	369
--------------------------	-----

Тип	6
Вес	1

Верны ли данные утверждения?	
А) На востоке США преобладают рудные полезные ископаемые.	
В) На западе США преобладают топливные полезные ископаемые.	
	А – да, В – да
	А – да, В – нет
	А – нет, В – да
+	А – нет, В – нет

Задание

Порядковый номер задания	370
Тип	1
Вес	1

Основное производство компании «Боинг» расположено в городе:	
+	Сиэтл
	Лос-Анджелес
	Детройт
	Чикаго
	Вашингтон

Задание

Порядковый номер задания	371
Тип	3
Вес	1

Установите соответствие городов США и их специализации:	
Лос-Анджелес	авиаракетостроение
Хьюстон	нефтехимия
Сиэтл	самолетостроение
Детройт	автомобилестроение

Задание

Порядковый номер задания	372
Тип	3
Вес	1

Установите соответствие сельскохозяйственных районов США:	
Великие равнины	Пшеничный пояс
Центральные равнины	Кукурузный пояс
Нижнее течение Миссисипи	Хлопковый пояс
Горные штаты	Пояс животноводства

Задание

Порядковый номер задания	373
Тип	6
Вес	1

Верны ли данные утверждения?	
А) Курорт Майами-Бич расположен во Флориде.	
В) Курорт Санта-Круз расположен в Калифорнии.	
Подберите правильный ответ.	
+	А – да, В – да
	А – да, В – нет
	А – нет, В – да
	А – нет, В – нет

Задание

Порядковый номер задания	374
Тип	3
Вес	1

Установите соответствие макрорайонов США:	
Северо-Восток	«мастерская нации»
Средний Запад	крупная промышленность и сельское хозяйство
Юг	«макрорайон больших перемен»
Запад	самый молодой и динамичный макрорайон

Канада. Бразилия

Тип	Группа
Вес	12

Задание

Порядковый номер задания	375
Тип	1
Вес	1

Канада - ___-е по площади государства в мире.	
+	2
	1
	3
	4

Задание

Порядковый номер задания	376
Тип	6
Вес	1

Верны ли данные утверждения?	
А) Канада стала доминионом в составе Британской империи в 1897 г.	
В) Территория Нунавута в основном заселена эскимосами.	
Подберите правильный ответ.	
	А – да, В – да
	А – да, В – нет
+	А – нет, В – да
	А – нет, В – нет

Задание

Порядковый номер задания	377
Тип	2
Вес	1

Группы отраслей международной специализации Канады:	
+	Горно-добывающая промышленность
+	Цветная металлургия
+	Деревообрабатывающая и целлюлозно-бумажная промышленность
+	Сельское хозяйство и пищевая промышленность
	Черная металлургия
	Машиностроение

Задание

Порядковый номер задания	378
Тип	1

Вес	1
-----	---

Канада специализируется на производстве:	
+	пшеницы
	риса
	кукурузы
	ржи

Задание

Порядковый номер задания	379
Тип	6
Вес	1

Верны ли данные утверждения?	
А) На севере Канады преобладает очаговый тип освоения территории.	
В) Основная часть населения и хозяйства Канады концентрируется в южной полосе на границе с Мексикой.	
Подберите правильный ответ.	
	А – да, В – да
+	А – да, В – нет
	А – нет, В – да
	А – нет, В – нет

Задание

Порядковый номер задания	380
Тип	1
Вес	1

Португальцы заготавливали в бразильских лесах	
+	Красное дерево
	Авокадо
	Каучуковое дерево
	Шоколадное дерево

Задание

Порядковый номер задания	381
Тип	5
Вес	1

Расположите в хронологической последовательности бразильские «лихорадки» - вывозимые в Европу из Бразилии продукты:	
	Красное дерево
	Сахар
	Золото
	Кофе

Задание

Порядковый номер задания	382
Тип	2
Вес	1

Бразильские ГЭС:	
+	Туркуруи
+	Итайцу
	Паскуа
	Бэйкер

Задание

Порядковый номер задания	383
Тип	1
Вес	1

Столица Бразилии – это	
+	Бразилиа
	Рио-де-Жанейро
	Сан-Паулу
	Сальвадор

Задание

Порядковый номер задания	384
Тип	1
Вес	1

Бразилиа имеет очертания	
+	самолета
	ракеты
	фрегата
	веера

Латинская Америка

Тип	Группа
Вес	12

Задание

Порядковый номер задания	385
Тип	3
Вес	1

Установите соответствие размеров латиноамериканских государств:	
Бразилиа	Очень большое
Мексика	Среднее
Куба	Небольшое
Доминиканская Республика	Маленькое

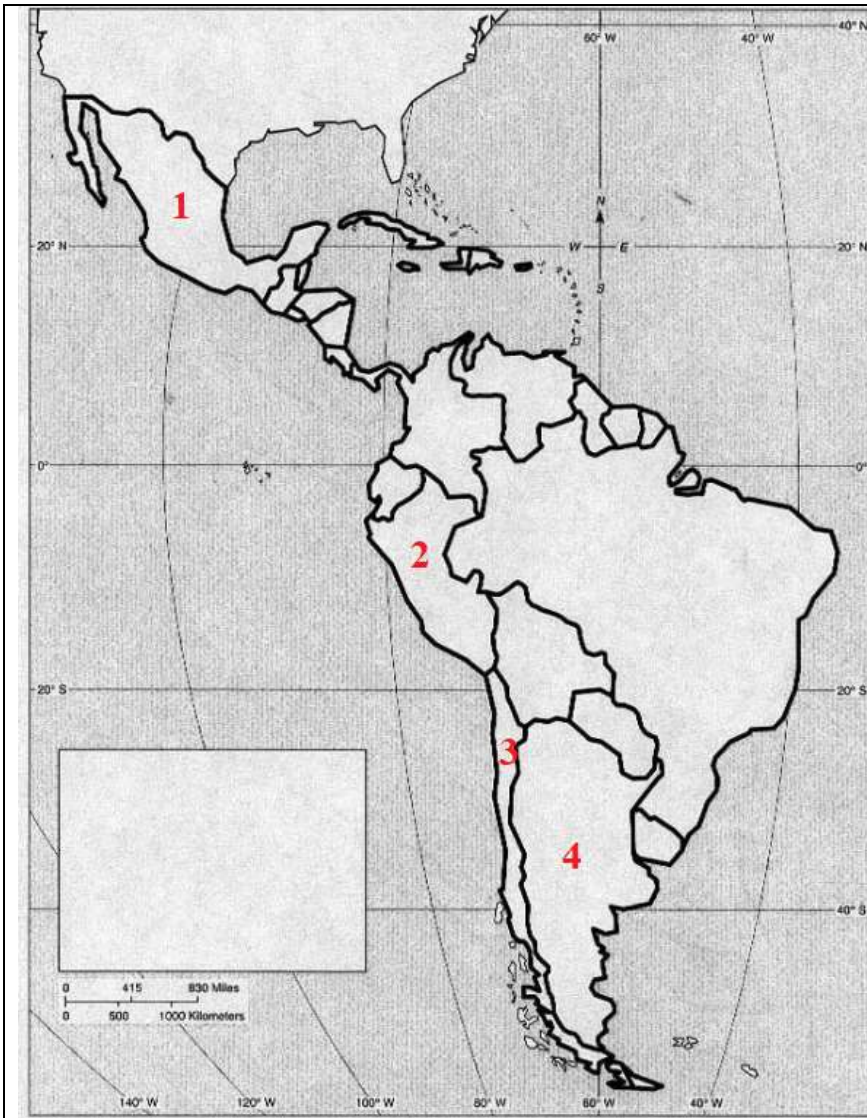
Задание

Порядковый номер задания	386
Тип	3
Вес	1

Территория Латинской Америки протягивается с севера на юг на [1] тыс. км, а с запада на восток максимально на [2] тыс. км. Морская трасса Одесса – Буэнос-Айрес составляет [3] тыс. км. Авиарейс Москва – Буэнос-Айрес – [4] часов. Установите соответствие:	
1	13
2	5
3	14
4	19

Задание

Порядковый номер задания	387
Тип	3
Вес	1

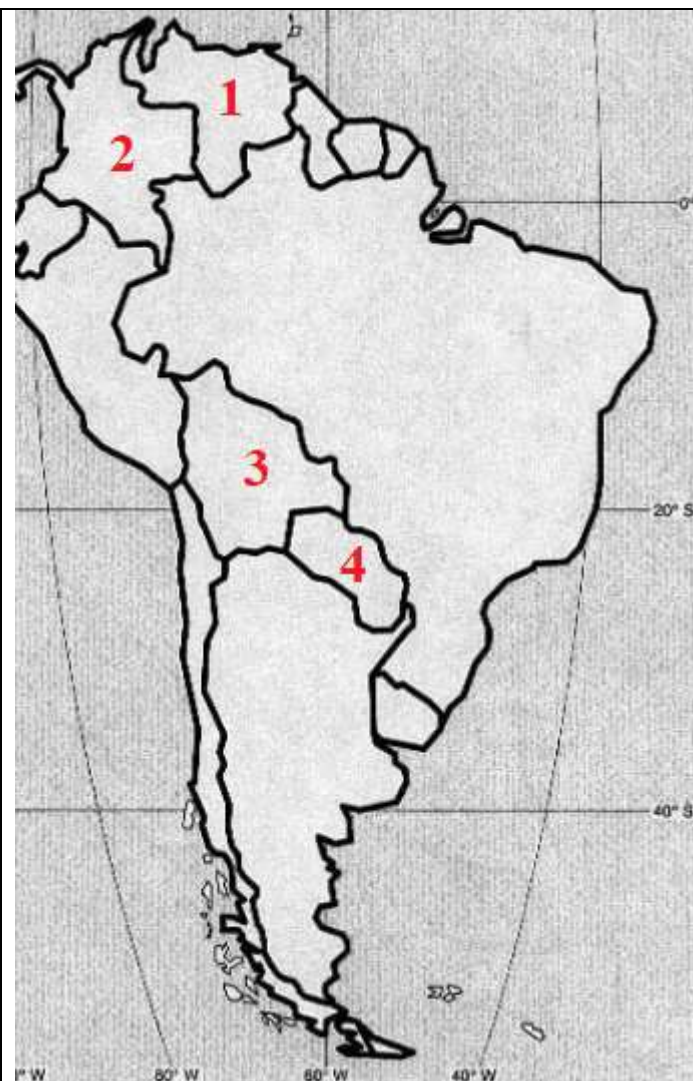


Установите соответствие латиноамериканских государств:

1	Мексика
2	Перу
3	Чили
4	Аргентина

Задание

Порядковый номер задания	388
Тип	3
Вес	1



Установите соответствие латиноамериканских государств:

1	Венесуэла
2	Колумбия
3	Боливия
4	Парагвай

Задание

Порядковый номер задания	389
Тип	6
Вес	1

Верны ли данные утверждения?

А) На гербе Кубы расположен ключ.

В) Независимые государства Латинской Америки – парламентские республики.

Подберите правильный ответ.

	А – да, В – да
+	А – да, В – нет
	А – нет, В – да
	А – нет, В – нет

Задание

Порядковый номер задания	390
Тип	6
Вес	1

Верны ли данные утверждения?	
А) В Бразилии годовое количество осадков выше, чем в Аргентине.	
В) В Перу выпадает больше осадков, чем в Коста-Рика.	
Подберите правильный ответ.	
	А – да, В – да
+	А – да, В – нет
	А – нет, В – да
	А – нет, В – нет

Задание

Порядковый номер задания	391
Тип	1
Вес	1

Колесание температуры поверхностного слоя воды в экваториальной части Тихого океана, оказывающее заметное влияние на климат	
+	Эль-Ниньо
	Брасеро
	Тьерра фриа
	Манитоба

Задание

Порядковый номер задания	392
Тип	3
Вес	1

Установите соответствие латиноамериканских государств и животных, изображенных на их гербах:	
Перу	лама
Ямайка	крокодил
Гренада	броненосец
Гайана	ягуар

Задание

Порядковый номер задания	393
Тип	2
Вес	1

Индийские корни в названии стран и городов:	
+	Гватемала
+	Никарагуа
+	Перу
	Гвадалахара
	Кордова

Задание

Порядковый номер задания	394
Тип	1
Вес	1

Подавляющее большинство латиноамериканцев исповедуют	
+	католицизм
	православие
	протестантизм
	буддизм

Африка

Тип	Группа
Вес	12

Задание

Порядковый номер задания	395
Тип	1
Вес	1

Протяженность Африки с севера на юг _____ тыс. км.	
+	8
	7
	6
	5

Задание

Порядковый номер задания	396
Тип	1
Вес	1

С Алжиром, Нигером и Чадом граничит	
+	Ливия
	Тунис
	Египет
	Судан

Задание

Порядковый номер задания	397
Тип	1
Вес	1

Выходы к Красному и Средиземному морю имеет	
+	Египет
	Ливия
	Судан
	Тунис

Задание

Порядковый номер задания	398
Тип	6
Вес	1

Верны ли данные утверждения? А) Нигерия на юге граничит с Нигером. В) Мавритания не граничит с Нигером. Подберите правильный ответ.	
	А – да, В – да
	А – да, В – нет
+	А – нет, В – да
	А – нет, В – нет

Задание

Порядковый номер задания	399
Тип	5

Вес	1
-----	---

Расположите африканские государства с севера на юг:	
	Алжир
	Чад
	Конго
	Ангола

Задание

Порядковый номер задания	400
Тип	5
Вес	1

Расположите африканские государства с запада на восток:	
	Мавритания
	Мали
	Чад
	Эфиопия

Задание

Порядковый номер задания	401
Тип	6
Вес	1

Верны ли данные утверждения? А) Мали крупнее Ганы. В) Сомали находится на побережье Атлантического океана. Подберите правильный ответ.	
	А – да, В – да
+	А – да, В – нет
	А – нет, В – да
	А – нет, В – нет

Задание

Порядковый номер задания	402
Тип	1
Вес	1

Укажите государство Африки с максимальной площадью	
+	Судан
	Алжир
	Ливия
	Ангола

Задание

Порядковый номер задания	403
Тип	2
Вес	1

Укажите африканские государства, не имеющие выхода к морю:	
+	Уганда
+	Мали
+	Чад
	Ангола
	Габон

Задание

Порядковый номер задания	404
Тип	2
Вес	1

Укажите африканские государства с монархической формой правления:	
+	Лесото
+	Марокко
+	Эсватини
	Ангола
	Египет

Задание

Порядковый номер задания	405
Тип	3
Вес	1

Первый госпереворот в Африке произошел в [1] г. в [2], группа армейских офицеров заставила короля [3] отречься от престола и распустить [4]. Установите соответствие:	
1	1952
2	Египет
3	Фарук
4	парламент
	1963
	Того
	Сильванус Олипио
	правительство

Задание

Порядковый номер задания	406
Тип	2
Вес	1

Острые территориальные споры в Африке существуют между:	
+	Марокко и Западной Сахарой
+	Эфиопией и Сомали
	Чадом и Ливаном
	Гвинеей и Ганой

Задание

Порядковый номер задания	407
Тип	1
Вес	1

Организация африканского единства создана в _____ году.	
+	1963
	2002
	1952
	1987

Задание

Порядковый номер задания	408
Тип	1
Вес	1

Полезные ископаемые на севере Африки – это
--

+	нефть и газ
	каменный уголь и алюминиевые руды
	золото и бриллианты
	медные и оловянные руды

Задание

Порядковый номер задания	409
Тип	5
Вес	1

Расположите страны Африки в порядке увеличения количества осадков:	
	Алжир
	Ботсвана
	Демократическая Республика Конго
	Либерия

Задание

Порядковый номер задания	410
Тип	1
Вес	1

Река в Африке с наибольшим гидропотенциалом – это	
+	Конго
	Нил
	Нигер
	Лимпопо

Задание

Порядковый номер задания	411
Тип	1
Вес	1

Средняя продолжительность жизни женщин в Африке	
+	52 года
	46 лет
	37 лет
	65 лет
	72 года

Задание

Порядковый номер задания	412
Тип	4
Вес	1

_____ - это истребление целых групп населения по расовым, национальным, этническим или религиозным признакам.	
Геноцид	

Задание

Порядковый номер задания	413
Тип	2
Вес	1

Перечислите бывшие французские колонии в Африке:	
+	Марокко
+	Алжир

+	Мали
	Ливия
	Египет
	Западная Сахара

Задание

Порядковый номер задания	414
Тип	3
Вес	1

Установите соответствие бывших колоний в Африке и метрополий:	
Франция	Центрально-Африканская Республика
Великобритания	Судан
Португалия	Мозамбик
Испания	Западная Сахара

Задание

Порядковый номер задания	415
Тип	2
Вес	1

Укажите в каких африканских странах официальный язык английский:	
+	Замбия
+	Танзания
+	Сьерра-Леоне
	Кот-д'Ивуар
	Кабо-Верде
	Гвинея-Бисау

Задание

Порядковый номер задания	416
Тип	2
Вес	1

Перечислите города-миллионеры в Африке:	
+	Каир
+	Киншаса
+	Лагос
	Кадуна

Задание

Порядковый номер задания	417
Тип	6
Вес	1

Верны ли данные утверждения? А) В большинстве африканских стран – колониальный тип отраслевой структуры хозяйства. В) В экономике африканских стран преобладают монокультуры. Подберите правильный ответ.	
+	А – да, В – да
	А – да, В – нет
	А – нет, В – да
	А – нет, В – нет

Задание

Порядковый номер задания	418
Тип	2

Вес	1
-----	---

Африканские государства, экспортирующие руды, уран и алмазы – это :	
+	Замбия
+	Либерия
+	Ботсвана
	Ангола
	Габон
	Ливия

Задание

Порядковый номер задания	419
Тип	3
Вес	1

Установите соответствие изображений на гербах африканских государств:	
Кофейное дерево	Кения
Дерево какао	Гана
Масличная пальма	Руанда
Хлопок	Ангола

Задание

Порядковый номер задания	420
Тип	3
Вес	1

Установите соответствие государств и субрегионов Африки:	
Северная Африка	Алжир
Западная Африка	Мали
Центральная Африка	Габон
Восточная Африка	Сомали
Южная Африка	Ангола

Задание

Порядковый номер задания	421
Тип	1
Вес	1

Северная Африка – это	
+	арабская
	христианская
	буддистская
	синтоистская

Задание

Порядковый номер задания	422
Тип	3
Вес	1

Установите соответствие:	
Касба	расположенное на возвышенном месте укрепление
Медина	старый город, окруженный защитными стенами
Оазис	богатое растительностью место в пустыне или полупустыне, изолированное от других массивов растительности
Сахель	тропический саванный регион в Африке, который является своеобразным переходом между Сахарой на севере и более плодородными землями на юге, более известными как африканский регион Судан

Задание

Порядковый номер задания	423
Тип	1
Вес	1

Укажите название гидроузла на Ниле.	
+	Асуанский
	Гранд Инга
	Тукуруи
	Богучанский

Задание

Порядковый номер задания	424
Тип	4
Вес	1

_____ - это крайняя форма расовой дискриминации; означает лишение или существенное ограничение политических, экономических и гражданских прав какой-либо группы населения, вплоть до ее территориальной изоляции в специальных местах.
Апартеид

Австралия

Тип	Группа
Вес	12

Задание

Порядковый номер задания	425
Тип	3
Вес	1



Установите соответствие:

1	Большой водораздельный хребет
2	Центральная низменность
3	Большая пустыня Виктория
4	Большая Песчаная пустыня

Задание

Порядковый номер задания	426
Тип	3
Вес	1



Установите соответствие:

1	Большой Австралийский залив
2	Тасманово море
3	Коралловое море
4	Арафурское море

Задание

Порядковый номер задания	427
Тип	6
Вес	1

Верны ли данные утверждения?

А) Поселение Сидней было основано голландцами в 1788 г.

В) Национальный праздник Австралии – 26 марта.

Подберите правильный ответ.

	А – да, В – да
	А – да, В – нет
	А – нет, В – да
+	А – нет, В – нет

Задание

Порядковый номер задания	428
Тип	4
Вес	1

_____ - это фактически самоуправляющееся государство в составе бывшей Британской империи, признающее своим главой английского короля (королеву).

Доминион

Задание

Порядковый номер задания	429
Тип	1
Вес	1

Австралия - это _____ государство.	
+	федеративное
	унитарное
	конфедеративное
	президентское

Задание

Порядковый номер задания	430
Тип	1
Вес	1

Средняя плотность населения в Австралии - _____ чел. на 1 км ² .	
+	2
	12
	22
	32

Задание

Порядковый номер задания	431
Тип	6
Вес	1

Верны ли данные утверждения? А) В ВВП Австралии менее 30% приходится на услуги. В) Австралия занимает первое место по добыче никеля и золота. Подберите правильный ответ.	
	А – да, В – да
	А – да, В – нет
	А – нет, В – да
+	А – нет, В – нет

Задание

Порядковый номер задания	432
Тип	1
Вес	1

Основные экспортные потоки из Австралии идут в	
+	Японию
	Китай
	Россию
	США

Задание

Порядковый номер задания	433
Тип	1
Вес	1

Главный каменноугольный бассейн в Австралии расположен в районе	
+	Сиднея
	Дарвина
	Калгурли
	Таунсвилла

Задание

Порядковый номер задания	434
Тип	6
Вес	1

Верны ли данные утверждения?

А) На восточных склонах Большого Водораздельного хребта – хозяйства с зерново-овцеводческой специализацией.

В) На Центральных равнинах Австралии распространено интенсивное пастбищное животноводство мясо-шерстяного направления.

Подберите правильный ответ.

	А – да, В – да
+	А – да, В – нет
	А – нет, В – да
	А – нет, В – нет

Океания

Тип	Группа
Вес	12

Задание

Порядковый номер задания	435
Тип	3
Вес	1

Острова Океании простираются с севера на юг от [1]° северной широты до [2]° южной широты. С запада на восток они протягиваются между [3]° восточной долготы и [4]° западной долготы.

Установите соответствие:

1	28
2	52
3	130
4	105

Задание

Порядковый номер задания	436
Тип	1
Вес	1

Укажите самый северный остров в Океании

+	атолл Куре
	о. Кэмпбелл
	о. Мисоол
	о. Сала-и-Гомес

Задание

Порядковый номер задания	437
Тип	1
Вес	1

Укажите самый южный остров в Океании:

+	о. Кэмпбелл
	о. Мисоол
	о. Сала-и-Гомес
	атолл Куре

Задание

Порядковый номер задания	438
Тип	1
Вес	1

Ближе всего к острову Новая Гвинея расположено государство	
+	Папуа-Новая Гвинея
	Маршалловы острова
	Фиджи
	Кирибати

Задание

Порядковый номер задания	439
Тип	2
Вес	1

Укажите 3 крупных острова в Океании:	
+	Новая Гвинея
+	Северный остров Новой Зеландии
+	Южный остров Новой Зеландии
	Мадагаскар
	Тасмания
	Мисоол

Задание

Порядковый номер задания	440
Тип	4
Вес	1

_____ - это острова, расположенные в юго-западной части акватории Тихого океана.
Меланезия

Задание

Порядковый номер задания	441
Тип	4
Вес	1

_____ - это острова, расположенные в западной части акватории Тихого океана.
Микронезия

Задание

Порядковый номер задания	442
Тип	4
Вес	1

_____ - это острова, расположенные в центральной части акватории Тихого океана.
Полинезия

Задание

Порядковый номер задания	443
Тип	1
Вес	1

Папуа-Новая Гвинея – независимое государство с _____ года.	
+	1975
	1945

	1963
	1988

Задание

Порядковый номер задания	444
Тип	1
Вес	1

Острова Туамоту, Маркизские входят в	
+	Французскую Полинезию
	Английскую Полинезию
	Английскую Меланезию
	Французскую Меланезию

Геополитическое и географическое положение России

Тип	Группа
Вес	12

Задание

Порядковый номер задания	445
Тип	1
Вес	1

Российская Федерация существует с _____ года.	
+	1991
	1990
	1917
	1922
	1924

Задание

Порядковый номер задания	446
Тип	4
Вес	1



В указанных на карте границах РФ существует с _____ года.

2014

Задание

Порядковый номер задания	447
Тип	4
Вес	1

СССР образовался в _____ году.

1922

Задание

Порядковый номер задания	448
Тип	4
Вес	1

Количество республик, входивших в СССР к 1991 г., -
(В ответе укажите число цифрами)

15

Задание

Порядковый номер задания	449
Тип	2
Вес	1

Государства, не входившие в СНГ на момент его образования:

+	Литва
+	Латвия
+	Эстония
	Грузия
	Казахстан

Задание

Порядковый номер задания	450
--------------------------	-----

Тип	6
Вес	1

Верны ли данные утверждения? А) Россия состоит из 85 субъектов. В) Россия – федеративное государство. Подберите правильный ответ.	
+	А – да, В – да
	А – да, В – нет
	А – нет, В – да
	А – нет, В – нет

Задание

Порядковый номер задания	451
Тип	3
Вес	1

Установите соответствие субъектов РФ и их количества:	
Республики	22
Края	9
Области	46
Города федерального подчинения	3
Автономные области	1
Автономные округа	4
	2

Задание

Порядковый номер задания	452
Тип	4
Вес	1

Территориальные воды – это воды, граница которых проходит на расстоянии ____ морских миль от береговой линии. (В ответе укажите число)
12

Задание

Порядковый номер задания	453
Тип	1
Вес	1

Россия занимает ____ % мировой суши.	
+	9
	11
	13
	15

Задание

Порядковый номер задания	454
Тип	3
Вес	1

На Европейскую Россию приходится [1] % общей площади Европы и [2] % ее населения, на Азиатскую Россию – [3] % территории всей Азии и [4] % населения. [5] % населения проживает в азиатской части России. [6] % территории страны расположены в Европе. Установите соответствие:	
1	42
2	18

3	29
4	1
5	20
6	25
	7

Задание

Порядковый номер задания	455
Тип	6
Вес	1

Верны ли данные утверждения?	
А) Крайняя северная точка РФ – гора Базардюзю.	
В) Крайняя восточная материковая точка РФ – мыс Ратманова.	
Подберите правильный ответ.	
	А – да, В – да
+	А – да, В – нет
	А – нет, В – да
	А – нет, В – нет

Задание

Порядковый номер задания	456
Тип	1
Вес	1

Протяженность России с севера на юг _____ километров.	
+	4400
	9000
	2200
	6100

Задание

Порядковый номер задания	457
Тип	1
Вес	1

По возвышенности Манселькя РФ граничит с	
+	Финляндией
	Норвегией
	Польшей
	Литвой

Задание

Порядковый номер задания	458
Тип	1
Вес	1

Кратчайшее расстояние между РФ и США равно _____ километрам.	
+	5
	9700
	4300
	26

Задание

Порядковый номер задания	459
Тип	6
Вес	1

Верны ли данные утверждения?	
А) Самая протяженная граница у РФ – с Китаем.	
В) На территории РФ выделено 9 часовых зон.	
Подберите правильный ответ.	
	А – да, В – да
	А – да, В – нет
	А – нет, В – да
+	А – нет, В – нет

Задание

Порядковый номер задания	460
Тип	4
Вес	1

Когда в Москве 15 часов, в Екатеринбурге _____ часов.
17

Задание

Порядковый номер задания	461
Тип	4
Вес	1

_____ - это обширный участок земной коры с устойчивым, малоподвижным фундаментом, который сложен кристаллическими магматическими и метаморфическими породами и перекрыт чехлом осадочных пород.
Платформа

Задание

Порядковый номер задания	462
Тип	2
Вес	1

Складчатые горы – это:	
+	Карпаты
+	Кавказ
	Уральские горы
	Хибины

Задание

Порядковый номер задания	463
Тип	3
Вес	1

Установите соответствие городов и климата в них:	
Благовещенск	муссонный климат
Иркутск	умеренный резко континентальный климат
Омск	умеренный континентальный климат
Норильск	субарктический климат

Задание

Порядковый номер задания	464
Тип	6
Вес	1

Верны ли данные утверждения?	
А) Теплый фронт приносит морозящие дожди.	

В) Холодный фронт приносит ливневые дожди и сильные порывы ветра.	
+	А – да, В – да
	А – да, В – нет
	А – нет, В – да
	А – нет, В – нет

Задание

Порядковый номер задания	465
Тип	4
Вес	1

_____ - это мощный атмосферный вихрь с пониженным давлением в центре и восходящим вращением воздуха против часовой стрелки.
Циклон


Задание

Порядковый номер задания	466
Тип	1
Вес	1

_____ - это самый холодный регион в России.	
+	Якутия
	Мурманск
	Магадан
	Норильск

Задание

Порядковый номер задания	467
Тип	1
Вес	1



На графике -	
+	умеренно континентальный климат
	резко континентальный климат
	муссонный климат
	субарктический климат
	арктический климат

Задание

Порядковый номер задания	468
Тип	5
Вес	1

Расположите реки в порядке уменьшения их протяженности:

Лена
Обь
Енисей
Ока

Задание

Порядковый номер задания	469
Тип	2
Вес	1

Перечислите реки бассейна Северного Ледовитого океана.	
+	Печора
+	Обь
+	Индигоирка
	Волга
	Урал
	Амур

Задание

Порядковый номер задания	470
Тип	4
Вес	1

Исток реки на уровне 230 м над уровнем моря, устье на уровне 20 м ниже уровня моря, длина реки 3500 км. Падение реки - ____ м. (В ответе укажите целое число цифрами)
250

Задание

Порядковый номер задания	471
Тип	3
Вес	1

Установите соответствие происхождения озер:	
Тектоническое	Байкал
Ледниковое	Валдай
Карстовое	Провал
Вулканическое	Курильское

Задание

Порядковый номер задания	472
Тип	6
Вес	1

Верны ли данные утверждения? А) Болота богаты черноземом. В) Болота имеют водоохранное значение. Подберите правильный ответ.	
	А – да, В – да
	А – да, В – нет
+	А – нет, В – да
	А – нет, В – нет

Задание

Порядковый номер задания	473
Тип	5

Вес	1
-----	---

Расположите земельный фонд России в порядке уменьшения площади:	
	Леса
	Олени пастбища
	Сельскохозяйственные земли
	Болота

Задание

Порядковый номер задания	474
Тип	5
Вес	1

Расположите типы почв в порядке увеличения гумуса:	
	Бурые
	Подзолистые
	Каштановые
	Черноземы

Население России

Тип	Группа
Вес	12

Задание

Порядковый номер задания	475
Тип	6
Вес	1

Верны ли данные утверждения? А) Численность населения в России в 2019 г. – 147 млн.чел. В) Последняя перепись населения в России проводилась в 2020 г. Подберите правильный ответ.	
	А – да, В – да
+	А – да, В – нет
	А – нет, В – да
	А – нет, В – нет

Задание

Порядковый номер задания	476
Тип	1
Вес	1

_____ - это резкое уменьшение численности населения в результате превышения смертности над рождаемостью.	
+	Демографический кризис
	Естественное движение населения
	Механическое движение населения
	Современный тип воспроизводства населения

Задание

Порядковый номер задания	477
Тип	6
Вес	1

Верны ли данные утверждения?	
------------------------------	--

А) Изменение численности населения за счет рождения и смертей – естественное движение населения. В) Механическое движение населения – изменение численности населения за счет миграций. Подберите правильный ответ.	
+	А – да, В – да
	А – да, В – нет
	А – нет, В – да
	А – нет, В – нет

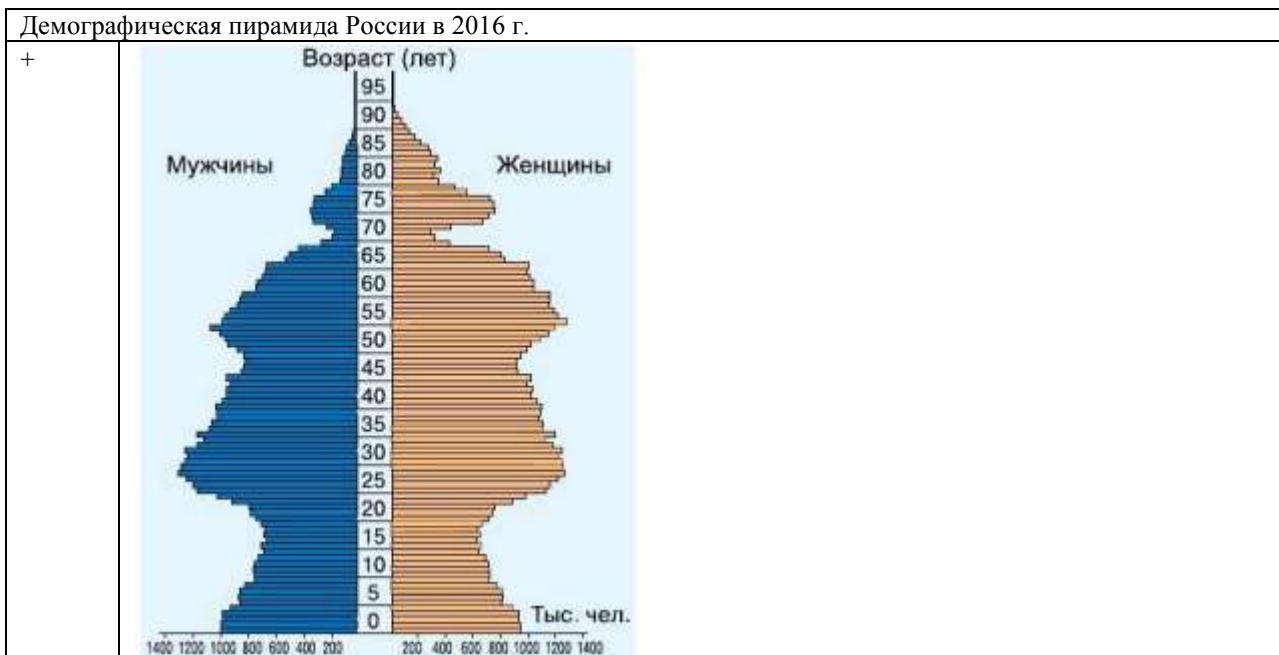
Задание

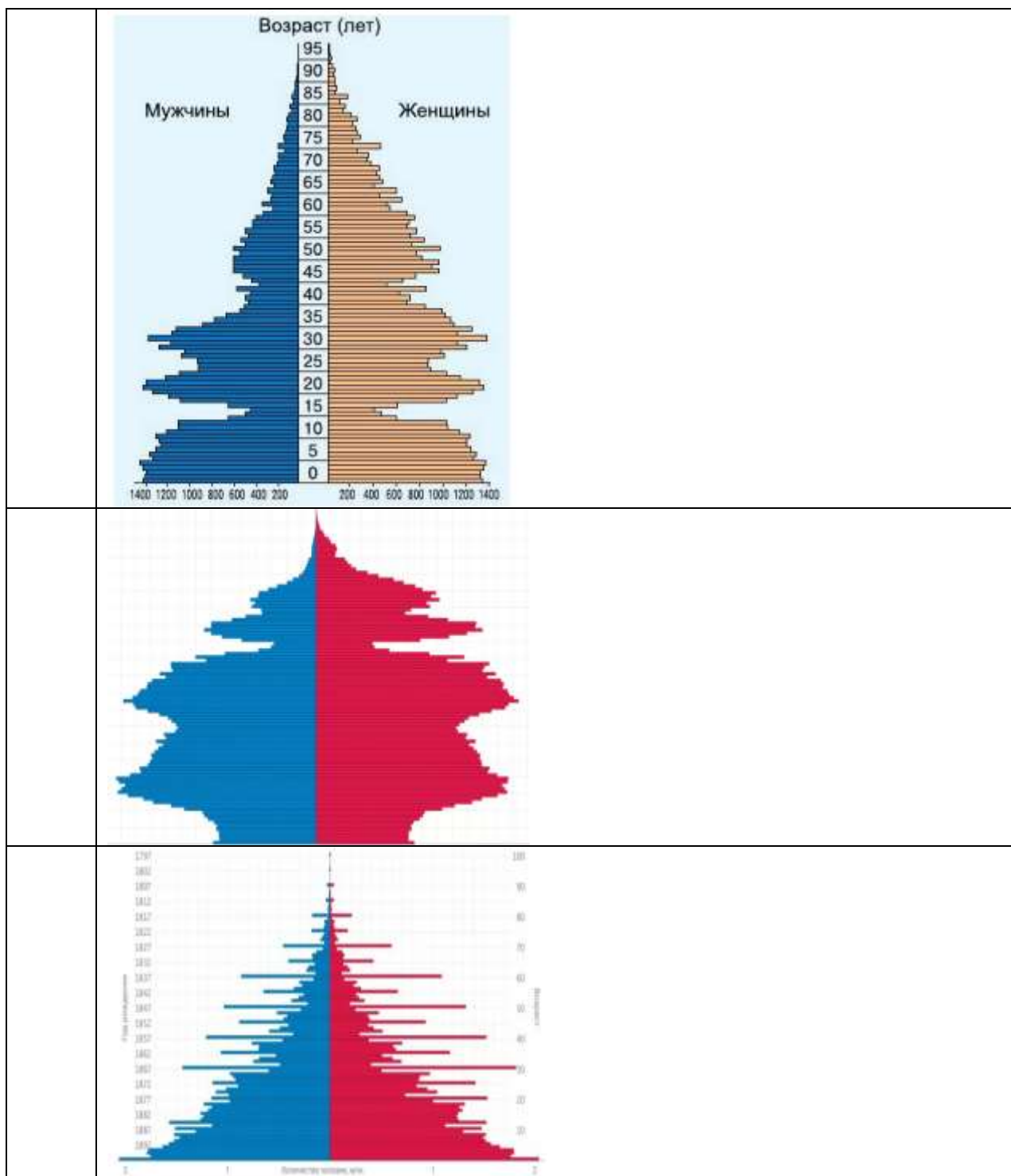
Порядковый номер задания	478
Тип	1
Вес	1

Современный тип воспроизводства населения характеризуется	
+	планированием числа детей в семье
	многодетностью
	коэффициентом фертильности более 2,8
	политикой чайлд-фри

Задание

Порядковый номер задания	479
Тип	1
Вес	1





Задание

Порядковый номер задания	480
Тип	6
Вес	1

Верны ли данные утверждения?	
А) В середине XX в. в России преобладали «центростремительные» миграции населения.	
В) В начале XXI в. в России преобладали «центробежные» миграции населения.	
Подберите правильный ответ.	
	А – да, В – да
	А – да, В – нет
	А – нет, В – да
+	А – нет, В – нет

Задание

Порядковый номер задания	481
Тип	1
Вес	1

Назовите основной источник миграционного притока в Россию в начале XXI в.	
+	СНГ
	ЕС
	Китай
	Прибалтика

Задание

Порядковый номер задания	482
Тип	2
Вес	1

Укажите факторы повышения территориальной подвижности населения:	
+	развитие транспорта
+	рост уровня жизни
	уменьшение свободного времени
	объединение мест работы и жительства

Задание

Порядковый номер задания	483
Тип	1
Вес	1

Величина рабочей силы в России в начале 2020-х гг.	
+	77 млн.чел.
	69 млн.чел.
	83 млн.чел.
	147 млн.чел.

Задание

Порядковый номер задания	484
Тип	4
Вес	1

_____ - это превышение предложения рабочей силы над спросом на нее.
Безработица

Хозяйство России

Тип	Группа
Вес	12

Задание

Порядковый номер задания	485
Тип	1
Вес	1

Главная топливная база России	
+	Западная Сибирь
	Восточная Сибирь
	Дальний Восток
	Поволжье

Задание

Порядковый номер задания	486
Тип	2
Вес	1

Российские месторождения газа	
+	Уренгойское
+	Ямбургское
+	Астраханское
	Тунгусское
	Кузнецкое

Задание

Порядковый номер задания	487
Тип	6
Вес	1

Верны ли данные утверждения? А) Наибольшее количество электроэнергии в России производится на ГЭС. В) Самые крупные в России ГЭС построены на Енисее и Ангаре. Подберите правильный ответ.	
	А – да, В – да
	А – да, В – нет
+	А – нет, В – да
	А – нет, В – нет

Задание

Порядковый номер задания	488
Тип	5
Вес	1

Расположите страны в порядке увеличения добычи алюминиевого сырья:	
	Россия
	Бразилия
	Китай
	Австралия

Задание

Порядковый номер задания	489
Тип	3
Вес	1

Установите соответствие городов и отраслей машиностроения:	
авиастроение	Комсомольск-на-Амуре, Казань, Ульяновск, Самара
тракторостроение	Челябинск, Волгоград, Санкт-Петербург, Барнаул, Петрозаводск
железнодорожное	Коломна, Брянск, Новочеркасск, Верхняя Пышма
судостроение	Санкт-Петербург, Северодвинск, Нижний Новгород

Задание

Порядковый номер задания	490
Тип	2
Вес	1

Удобрения в России производятся в:	
+	Соликамске
+	Новомосковске

+	Кирово-Чепецке
	Красноярске
	Стерлитамаке

Задание

Порядковый номер задания	491
Тип	3
Вес	1

Установите соответствие российских регионов и городов:	
Центральная Россия	Муром, Углич
Европейский Север	Мурманск, Архангельск
Европейский Юг	Новороссийск, Ростов-на-Дону
Европейский Северо-Запад	Великий Новгород, Калининград
Поволжье	Самара, Казань

Задание

Порядковый номер задания	492
Тип	2
Вес	1

Отрасли специализации Санкт-Петербурга:	
+	судостроение
+	военная продукция
+	производство оборудования для электростанций
	авиастроение
	лесообрабатывающая промышленность

Задание

Порядковый номер задания	493
Тип	1
Вес	1

_____ - это поселок златокузнецов в Дагестане, крупный художественный центр.	
+	Кубачи
	Кизи
	Жигули
	Касли

Задание

Порядковый номер задания	494
Тип	2
Вес	1

Крупнейшие города Дальнего Востока:	
+	Хабаровск
+	Владивосток
	Якутск
	Магадан

Глобализация и связанные с ней проблемы человечества

Тип	Группа
Вес	12

Задание

Порядковый номер задания	495
--------------------------	-----

Тип	4
Вес	1

_____ - это резкое расширение и углубление взаимосвязей и взаимозависимостей между странами, народами и отдельными людьми, охватывает сферы политики, экономики, культуры.
Глобализация

Задание

Порядковый номер задания	496
Тип	1
Вес	1

Термин, введенный М. Маклюэн в отношении глобализации	
+	глобальная деревня
	глобальная цивилизация
	глобальный мегаполис
	глобальная агломерация

Задание

Порядковый номер задания	497
Тип	1
Вес	1

Термин «Глобальная деревня» введен	
+	М. Маклюэн
	Б. Барбером
	Д. Коргеном
	Г. Дейли

Задание

Порядковый номер задания	498
Тип	6
Вес	1

Верны ли данные утверждения? А) Международная торговля и свобода информационного обмена – факторы глобализации. В) Современное общество не глобальное. Подберите правильный ответ.	
	А – да, В – да
+	А – да, В – нет
	А – нет, В – да
	А – нет, В – нет

Задание

Порядковый номер задания	499
Тип	2
Вес	1

Признаки глобализации:	
+	стирание языковых барьеров
+	мгновенное распространение и доступность информации
+	обмен достижениями науки, идеями и концепциями
	появление пространственных барьеров
	проявление культурных различий

Задание

Порядковый номер задания	500
--------------------------	-----

Тип	6
Вес	1

Верны ли данные утверждения? А) Глобализация характеризуется взаимосвязанностью всех государств между собой. В) Современные виды транспорта позволяют выбирать между скоростью и стоимостью. Подберите правильный ответ.	
+	А – да, В – да
	А – да, В – нет
	А – нет, В – да
	А – нет, В – нет

Задание

Порядковый номер задания	501
Тип	1
Вес	1

Самый дорогой вид транспорта	
+	авиационный
	железнодорожный
	морской
	речной

Задание

Порядковый номер задания	502
Тип	2
Вес	1

Причины глобализации в экономике:	
+	научно-технический прогресс
+	международное разделение труда
+	появление электронных систем мгновенных денежных расчётов
	обмен плодами интеллектуальной деятельности

Задание

Порядковый номер задания	503
Тип	2
Вес	1

Причины глобализации в культуре:	
+	туризм
+	музыка, фильмы, доступные по всему миру
	повсеместное распространение «восточной» культуры
	трудовая миграция населения

Задание

Порядковый номер задания	504
Тип	1
Вес	1

_____ - это нетерпимость к кому-либо или чему-либо чужому, незнакомому, непривычному; восприятие чужого как неприятного и опасного.	
+	Ксенофобия
	Этноцентризм
	Национализм
	Толерантность

Задание

Порядковый номер задания	505
Тип	1
Вес	1

Глобальные проблемы – это проблемы, которые	
+	охватывают весь мир, создают угрозу для его настоящего и будущего и требуют для своего решения объединенных усилий, совместных действий всех государств и народов
	охватывают весь мир, все человечество
	создают угрозу для человечества
	решаются совместными действиями всех государств и народов

Задание

Порядковый номер задания	506
Тип	1
Вес	1

_____ - это стремление территорий к отделению.	
+	Сепаратизм
	Ксенофобия
	Конверсия
	Депорирование

Задание

Порядковый номер задания	507
Тип	2
Вес	1

Очаги сепаратизма:	
+	Тайвань
+	Абхазия
+	Палестина
	Техас

Задание

Порядковый номер задания	508
Тип	5
Вес	1

Расположите страны в порядке увеличения угрозы терроризма:	
	Литва
	Судан
	Филлипины
	Афганистан

Задание

Порядковый номер задания	509
Тип	1
Вес	1

Основоположник учения о ноосфере	
+	Вернадский В.И.
	Моисеев Н.Н.
	Барбер Б.
	Бьюкенен П.

Задание

Порядковый номер задания	510
Тип	1
Вес	1

_____ - это событие, приведшее к антропогенному или техногенному загрязнению или деградации природной системы.	
+	Экологическая катастрофа
	Экоразвитие
	Демографический взрыв
	Депорирование

Задание

Порядковый номер задания	511
Тип	6
Вес	1

Верны ли данные утверждения? А) В 2021 г. в Крыму были наводнения. В) В начале 1960-х гг. население мира увеличивалось в среднем на 2 %.	
+	А – да, В – да
	А – да, В – нет
	А – нет, В – да
	А – нет, В – нет

Задание

Порядковый номер задания	512
Тип	1
Вес	1

Декларация Земли принята в:	
+	2000 г.
	1987 г.
	1994 г.
	2008 г.

Задание

Порядковый номер задания	513
Тип	6
Вес	1

Верны ли данные утверждения? А. Демографическая проблема – глобальная проблема человечества, связанная со снижением численности населения. Б. По прогнозам, к 2050 г. Китай выйдет на первое место по численности населения. Подберите правильный ответ.	
	А – да, В – да
	А – да, В – нет
	А – нет, В – да
+	А – нет, В – нет

Задание

Порядковый номер задания	514
Тип	1
Вес	1

В XX в. в ходе мировых и локальных войн погибли _____ миллионов человек.
--

+	100
	50
	200
	250

Задание

Порядковый номер задания	515
Тип	1
Вес	1

_____ - это складирование опасных радиоактивных или химических отходов в определенных местах, разделенных по определенным признакам.

+	Депорирование
	Глобализм
	Дефляция
	Конверсия

Задание

Порядковый номер задания	516
Тип	4
Вес	1

_____ - это ветровая эрозия почв, которая при экстенсивном земледелии выводит поля из оборота или резко снижает их плодородие.

Дефляция

Задание

Порядковый номер задания	517
Тип	3
Вес	1

Установите соответствие глобальных проблем:

Проблема предотвращения мировой ядерной войны	одна из глобальных проблем человечества, связанная с развитием ядерного оружия в некоторых странах, представляющего угрозу миру на Земле в целом
Продовольственная проблема	глобальная проблема, состоящая в нехватке калорийного питания, которым по данным ООН обеспечена лишь 1/3 часть населения Земли
Экологическая катастрофа	событие, приведшее к антропогенному или техногенному загрязнению или деградации природной системы
Энергетическая проблема	глобальная проблема обеспечения человечества топливом и сырьем

Задание

Порядковый номер задания	518
Тип	1
Вес	1

Увеличение территориального разрыва между районами добычи и потребления полезных ископаемых, ограниченность разведанных природных запасов ведут к _____ проблеме.

+	энергетической
	экологической
	демографической
	продовольственной

Задание

Порядковый номер задания	519
Тип	2
Вес	1

К нетрадиционной энергетике относятся:	
+	гелиоэнергетика
+	ветроэнергетика
+	геотермальная энергетика
	гидроэнергетика

Задание

Порядковый номер задания	520
Тип	4
Вес	1

В гелиоэнергетике используется энергия солнца

Задание

Порядковый номер задания	521
Тип	1
Вес	1

Кислогубская электростанция – это	
+	приливная станция
	атомная станция
	гелиостанция
	ветростанция

Задание

Порядковый номер задания	522
Тип	3
Вес	1

Установите соответствие глобальных проблем здоровья и дат пандемий:	
оспа	1967 г.
ковид	2020-2021 гг.
СПИД	конец XX в.
свиной грипп	2009 г.

Задание

Порядковый номер задания	523
Тип	1
Вес	1

Мировой океан занимает ___ % поверхности Земли.	
+	71
	51
	31
	91

Задание

Порядковый номер задания	524
Тип	1
Вес	1

Разведение рыбы и других живых организмов в природной морской среде:	
+	марикультура
	аквакультура
	рыболовство

мониторинг биоресурсов

Глобальные прогнозы, гипотезы и проекты. Стратегия устойчивого развития

Тип	Группа
Вес	12

Задание

Порядковый номер задания	525
Тип	1
Вес	1

Комплексная система наблюдений, оценки и прогноза изменений состояния окружающей среды под воздействием природных и антропогенных факторов -	
+	Экологический мониторинг
	Региональный мониторинг
	Глобальный мониторинг
	Марикультурный мониторинг

Задание

Порядковый номер задания	526
Тип	1
Вес	1

Первый проект трансатлантического кабеля был предложен в _____ году.	
+	1843
	1858
	1812
	1828

Задание

Порядковый номер задания	527
Тип	6
Вес	1

Верны ли данные утверждения? А) Освоение космоса предполагает отказ от военных программ. В) На Земле в условиях крайнего обнищания живет ½ всего населения. Подберите правильный ответ.	
+	А – да, В – да
	А – да, В – нет
	А – нет, В – да
	А – нет, В – нет

Задание

Порядковый номер задания	528
Тип	1
Вес	1

Из-за болезней, связанных с недоеданием и голодом, недостатком чистой воды в развивающихся странах ежегодно умирает _____ миллионов человек.	
+	40
	60
	80
	100

Задание

Порядковый номер задания	529
Тип	1
Вес	1

Пессимистический подход к глобальному прогнозированию разрабатывается	
+	римским клубом
	парижским клубом
	франкфуртским клубом
	берлинским клубом

Задание

Порядковый номер задания	530
Тип	1
Вес	1

Ученых, прогнозирующих наступление глобального ресурсного, экологического и продовольственного кризиса, называют	
+	алармистами
	хаосистами
	пессимистами
	реалистами

Задание

Порядковый номер задания	531
Тип	1
Вес	1

_____ - это положение, выдвигаемое в качестве предварительного, условного объяснения некоторого глобального явления или группы глобальных явлений; предположение о существовании некоторого глобального явления.	
+	Глобальная гипотеза
	Глобальный прогноз
	Глобальный проект
	Фоновый мониторинг

Задание

Порядковый номер задания	532
Тип	1
Вес	1

К концу XXI в., по консервативным прогнозам, уровень моря поднимется, по сравнению с 2010 г., на _____ сантиметров.	
+	65
	35
	110
	170

Задание

Порядковый номер задания	533
Тип	1
Вес	1

К. Доксиадис выдвинул гипотезу	
+	Ойкуменополиса
	Марикультуры
	Алармизма

	Ксенофобии
--	------------

Задание

Порядковый номер задания	534
Тип	1
Вес	1

Создание искусственного моря в бассейне Конго – это	
+	глобальный проект
	глобальная гипотеза
	глобальный прогноз
	глобальная стратегия

Глобализация – за и против

Тип	Группа
Вес	12

Задание

Порядковый номер задания	535
Тип	1
Вес	1

Термин «устойчивое развитие» вошел в государственный и научный оборот в _____ году.	
+	1992
	1998
	2000
	2008

Задание

Порядковый номер задания	536
Тип	2
Вес	1

Стратегия устойчивого развития включает:	
+	экологически устойчивое развитие
+	экономически устойчивое развитие
+	устойчивое социальное развитие
	устойчивое демографическое развитие

Задание

Порядковый номер задания	537
Тип	1
Вес	1

_____ развитие – это сбалансированное решение демографических проблем, проблем занятости, уровня и качества жизни, расширение доступа к знаниям, культурным ценностям, обеспечение гражданских прав и личной безопасности людей.	
+	Устойчивое социальное
	Устойчивое демографическое
	Экологически устойчивое
	Экономически устойчивое

Задание

Порядковый номер задания	538
Тип	1
Вес	1

Международный географический союз основан в _____ году.	
+	1922
	1992
	1945
	2005

Задание

Порядковый номер задания	539
Тип	1
Вес	1

От глобализации	
+	выигрывают развитые страны в большей степени
	развивающиеся страны выигрывают в большей степени, чем развитые
	все страны выигрывают
	выигрывает только США

Задание

Порядковый номер задания	540
Тип	6
Вес	1

Верны ли данные утверждения? А) ВТО создана в 1998 г. В) ТНК являются сторонниками глобализации. Подберите правильный ответ.	
	А – да, В – да
	А – да, В – нет
+	А – нет, В – да
	А – нет, В – нет

Задание

Порядковый номер задания	541
Тип	2
Вес	1

Рыночные факторы, определяющие прямое зарубежное инвестирование ТНК:	
+	объем зарубежного рынка
+	создание экспортной базы для экспорта своих товаров и услуг в третьи страны
	доступ к определенным видам природных, научно-технических, трудовых и прочих ресурсов
	нетарифные барьеры

Задание

Порядковый номер задания	542
Тип	2
Вес	1

Наибольшее количество ТНК имеют:	
+	США
+	Великобритания
+	Франция
	Норвегия
	Канада

Задание

Порядковый номер задания	543
--------------------------	-----

Тип	1
Вес	1

Формирование торговых блоков, ослабление глобального управления, реализация национальных интересов, усиление маргинализации Юга - _____ подход к оценке процесса глобализации.	
+	скептический
	революционный
	эволюционный
	оптимистический

Задание

Порядковый номер задания	544
Тип	1
Вес	1

Дж. Розенау и А. Гидденс – сторонники _____ подхода к оценке процесса глобализации.	
+	эволюционного
	революционного
	скептического
	дискретного

Разработчик: Портнов Александр Михайлович